

**Вазорати маориф ва илми Ҷумҳурии Тоҷикистон
Муассисаи давлатии “Маркази миллии тестӣ”**

Ёрии амалӣ ба докталабон барои омодагӣ
ба имтиҳонҳои марказонидаи дохилшавӣ
ба муассисаҳои таҳсилоти олиии касбии
Ҷумҳурии Тоҷикистон

Н А М У Н А И

саволу масъалаҳои тест

дар имтиҳонҳои марказонидаи дохилшавӣ

2014

ББК

ISBN

Намунаи саволу масъалаҳои тест дар имтиҳонҳои марказонидаи дохилшавӣ, Душанбе, 2014, 124 саҳ.

Ба нашр омода намуданд:

мутахассисони шуъбаи таҳияи маводи
имтиҳонӣ/тестҳои Муассисаи давлатии
“Маркази миллии тестӣ”

Мухаррирони масъул: Рустамов Ҷ.Ш.

Азимов Ҷ.А.

Намунаи саволу масъалаҳои тест ҳамчун маводи ёрирасон бо мақсади омода намудани хонандагони муассисаҳои таҳсилоти миёнаи умумӣ ва докталабон ба имтиҳонҳои марказонидаи дохилшавӣ ба муассисаҳои таҳсилоти олии касбии Ҷумҳурии Тоҷикистон дар соли 2014 таҳия шудааст.

Дар дастур мафҳумҳои асосӣ, ки дар имтиҳонҳои марказонидаи дохилшавӣ истифода мешаванд, инчунин сохтори ин низом шарҳ дода шудааст. Аз рӯйи дастури иҷрои тест ва намунаи саволу масъалаҳо хонандагон ва докталабон бо навъи саволу масъалаҳо ва тартиби иҷрои тест шинос мешаванд. Саволу масъалаҳои тести навъҳои гуногун дар асоси Стандарти давлатии таҳсилоти миёнаи умумии Ҷумҳурии Тоҷикистон ва барномаҳои таълими амалкунанда таҳия гардидааст.

МУҲДАРИҶА

ПЕШГУФТОР.....	5
МАФҲУМҶОИ АСОСӢ.....	6
ШАРҲИ СОҲТОРИ ИМТИҶОНҲО	7
ИМТИҶОНИ УМУМӢ (КОМПОНЕНТИ А)	7
ИМТИҶОНИ ИХТИСОС (КОМПОНЕНТИ Б)	8
ДАСТУРИ ИҶРОИ ТЕСТ (КОМПОНЕНТИ А).....	11
НАМУНАИ САВОЛУ МАСЪАЛАҶОИ ТЕСТ (КОМПОНЕНТИ А).....	12
СУБТЕСТИ ЗАБОНИ ТОҶИКӢ (ДАВЛАТӢ). Варианти 1.....	12
СУБТЕСТИ ЗАБОНИ ТОҶИКӢ (ДАВЛАТӢ). Варианти 2.....	17
СУБТЕСТИ МАТЕМАТИКА. Варианти 1.....	22
СУБТЕСТИ МАТЕМАТИКА. Варианти 2.....	26
СУБТЕСТИ ТАЪРИХИ ХАЛҚИ ТОҶИК ВА АСОСҶОИ ДАВЛАТ ВА ҶУҚУҚ. Варианти 1	31
СУБТЕСТИ ТАЪРИХИ ХАЛҚИ ТОҶИК ВА АСОСҶОИ ДАВЛАТ ВА ҶУҚУҚ. Варианти 2	36
ДАСТУРИ ИҶРОИ ТЕСТ (КОМПОНЕНТИ Б). Кластери 1.....	40
НАМУНАИ САВОЛУ МАСЪАЛАҶОИ ТЕСТ (КОМПОНЕНТИ Б)	41
СУБТЕСТИ ЗАБОН ВА АДАБИӢТИ ТОҶИК. Варианти 1.....	41
СУБТЕСТИ ТАЪРИХ. Варианти 1.....	45
СУБТЕСТИ ТАЪРИХ. Варианти 2.....	50
СУБТЕСТИ ҶУҚУҚИ ИНСОН. Варианти 1.....	54
СУБТЕСТИ МАТЕМАТИКА. Варианти 1.....	57
СУБТЕСТИ МАТЕМАТИКА. Варианти 2.....	61
СУБТЕСТИ ФИЗИКА. Варианти 1.....	65
СУБТЕСТИ ФИЗИКА. Варианти 2.....	69
СУБТЕСТИ ХИМИЯ. Варианти 1	73
СУБТЕСТИ ХИМИЯ. Варианти 2	76
СУБТЕСТИ БИОЛОГИЯ. Варианти 1	79
СУБТЕСТИ ГЕОГРАФИЯ. Варианти 1	82
ENGLISH LANGUAGE. Варианти 1.....	85
ENGLISH LANGUAGE. Варианти 2.....	88
DEUTSCHE SPRACHE. Варианти 1	91
DEUTSCHE SPRACHE. Варианти 2	94

LE FRANÇAIS. Варианти 1	97
LE FRANÇAIS. Варианти 2	99
ЗАБОНИ АРАБӢ. Варианти 1	102
ЗАБОНИ АРАБӢ. Варианти 2	105
ЎЗБЕК ТИЛИ ВА АДАБИЁТИ. Варианти 1	108
КАЛИДҲОИ ТЕСТ	111
ЗАМИМА	115
НАМУНАИ ВАРАҚАИ ҶАВОБҲОИ ТЕСТ	115

ПЕШГУФТОР

Довталабони гиromӣ! Аз соли 2014 бори аввал дар Тоҷикистон имтиҳонҳои дохилшавӣ ба муассисаҳои таҳсилоти олии касбӣ ба таври мутамарказ тавассути Муассисаи давлатии “Маркази миллии тестӣ” ба роҳ монда мешавад. Гузариш ба низоми нави имтиҳонҳои қабул (марказонида) бояд пайдарпайии таҳсилоти миёна ва олии касбиро таъмин намуда, шароити яхеларо дар раванди имтиҳонҳо фароҳам оварад, ки ҳам барои муассисаҳои таҳсилоти миёнаи умумӣ ва ҳам барои муассисаҳои таҳсилоти олии касбӣ қобили қабул бошад.

Низоми амалкунандаи имтиҳонҳои дохилшавӣ ба муассисаҳои таҳсилоти олии касбии Ҷумҳурии Тоҷикистон имрӯз наметавонад ҳаматарафа воқеият, шаффофият ва мустақилияти раванди имтиҳонҳои қабулро таъмин намояд.

Вобаста ба ин дар Ҷумҳурии Тоҷикистон имтиҳонҳои марказонидаи дохилшавӣ бо мақсадҳои муайян ба роҳ монда мешавад. Ин имтиҳонҳо баъд аз имтиҳонҳои хатми синфи 11 гузаронида мешавад ва барои нафароне пешбинӣ гардидааст, ки мехоҳанд ба муассисаҳои таҳсилоти олии касбии Ҷумҳурии Тоҷикистон дохил шаванд.

Маводи ба Шумо дастрасгардида, ки Маркази миллии тестӣ таҳия намудааст, дастури иттилоотии ёрирасон аст. Мақсад аз таҳияи чунин мавод расонидани ёрии амалӣ ба довталаб барои омодагӣ ба имтиҳонҳои марказонидаи дохилшавист. Дастур маълумоти барои Шумо заруриро дар бар гирифта, дар бахши “Мафҳумҳои асосӣ” шарҳи истилоҳу таркибҳои истифодашавандаи ба Шумо ношинос, дар бахши “Шарҳи сохтори имтиҳонҳо” ба таври муфассал оид ба мақсад ва сохтори имтиҳонҳои марказонидаи дохилшавӣ, фанҳои имтиҳон дар ҳар қисм, вақти иҷрои тести ҳар бахш маълумот дода шудааст. Аз рӯйи намунаҳои тест метавонед доир ба навъ ва дараҷаи душвории саволу масъалаҳое, ки дар имтиҳонҳои марказонидаи дохилшавии соли 2014 истифода мешаванд, маълумот пайдо намуда, дараҷаи дониш ва малакаю маҳорати худро аз ҳар фан санҷед. Аз рӯйи “Дастури иҷрои тест” Шумо метавонед мустақилона тарзи дуруст пур кардани варақаи ҷавобҳоро аз худ намоед.

Умед дорем, ки дастури таҳиянамудаи мо барои ҳаматарафа омода гардидани Шумо ба имтиҳонҳои марказонидаи дохилшавии соли 2014 ёрӣ мерасонад.

С. Ҷаъфаров,
Директори Муассисаи давлатии “Маркази миллии тестӣ”

МАФҲУМҲОИ АСОСИ

Барномаи имтиҳон – ҳуҷҷате, ки дар он мақсад ва тавзеҳи имтиҳон аз фанни таълимӣ, талабот ба сатҳи дониш ва малакаю маҳорати довталабон ва мундариҷаи фанни таълимӣ, шарҳи саволу масъалаҳои тест (навъи саволу масъалаҳо, меъёри баҳо, миқдори саволу масъалаҳо, вақти иҷрои тест), мушаххасоти (матритсаи) тест, шарҳи ҳолгузорӣ ва шкалабандӣ ва дигар ахбори ёрирасон баён шудаанд. Барномаи имтиҳони ҳар фанни таълимӣ дар асоси Стандарти давлатии таҳсилоти миёнаи умумӣ ва барномаҳои таълим таҳия ва аз тарафи Вазорати маориф ва илми Ҷумҳурии Тоҷикистон тасдиқ карда мешавад.

Варақаи ҷавобҳои тест – варақаи махсусест, ки довталаб ҷавобҳои худро ба саволу масъалаҳои тест дар он ишора менамояд.

Довталаб – шахсе, ки хоҳиши дохилшавӣ ба курси якуми муассисаҳои таҳсилоти олии касбии Ҷумҳурии Тоҷикистонро дорад ва тибқи тартиби муқарраргардида барои иштирок дар имтиҳонҳои марказонидаи дохилшавӣ ба қайд гирифта шудааст.

Дастури иҷрои тест – маълумот оид ба тарзи иҷрои ҳар навъи саволу масъала, миқдори саволу масъалаҳо, вақти иҷрои тест ва тартиби пур кардани варақаи ҷавобҳои тестро дар бар мегирад.

Имтиҳонҳои марказонидаи дохилшавӣ (ИМД) - низоме, ки гузаронидани имтиҳонҳои қабул ба муассисаҳои таҳсилоти олии касбии Ҷумҳурии Тоҷикистонро муайян мекунад.

Имтиҳони ихтисос – имтиҳонест, ки барои муайян намудани дараҷаи дониши довталаб барои дохилшавӣ ба муассисаҳои таҳсилоти олии касбӣ вобаста ба кластери интиҳобшуда аз рӯйи ихтисос гузаронида мешавад.

Имтиҳони умумӣ – имтиҳонест, ки барои муайян намудани дараҷаи дониши функционалӣ ва иҷтимоии довталаб барои дохилшавӣ ба муассисаҳои таҳсилоти олии касбӣ гузаронида шуда, барои ҳар як довталаб ҳатмӣ мебошад.

Калиди тест – варианти ҷавоби дуруст ба саволу масъалаи тест аст.

Кластер (гурӯҳи ихтисосҳо) – ихтисосҳои мавҷудаи муассисаҳои таҳсилоти олии касбӣ, ки аз рӯйи фанҳои имтиҳони ба ҳам наздик ё монанд ба гурӯҳҳо тақсим карда шудааст.

Компонент – қисми таркибии имтиҳонҳои марказонидаи дохилшавӣ буда, маҷмӯи фанҳои имтиҳониеро дар бар мегирад, ки аз рӯйи хусусиятҳо (А-умумӣ ё Б-ихтисосӣ) муттаҳид гардидаанд.

Саволнома – маҷмӯи саволу масъалаҳои тест ва дастури иҷрои тест аст, ки дар ИМД истифода мешавад.

Саволу масъалаҳои тест аз навъҳои зерин иборат аст:

- **саволҳо бо интиҳоби як ҷавоби дуруст.** Барои ҳар саволу масъала чор варианти ҷавоб дода мешавад, ки танҳо яктоаш дуруст аст. Ҷавоби дуруст интиҳоб ва дар варақаи ҷавобҳо ишора мешавад;
- **муайян кардани мувофиқат.** Дар чунин навъи саволу масъала ба калима ва ҷумлаҳо (ва ё формулаҳо, функсияҳо), ки дар сутуни якум дода шудааст, аз сутуни дуюм ҷавоби мувофиқ ва дуруст интиҳоб карда мешавад;

- **саволҳои кушода бо ҷавоби кӯтоҳ.** Ҷавоби ҳар як супориши ин навъ бо адади бутун дар катакҳои махсуси варақаи ҷавобҳо навишта мешавад. Агар ҷавоб адади манфӣ (-2) бошад, ҳар аломат дар катаки алоҳида навишта мешавад, агар касри даҳӣ (25,3) бошад, онро то адади бутун яклуфт кардан лозим аст.

Субтест – як баҳши тест. Як саволномаи тест вобаста ба фанҳои имтиҳон аз чанд баҳш иборат аст. Дар имтиҳони умумӣ (компоненти А) саволномаи тест аз баҳшҳои забони тоҷикӣ (давлатӣ), математика, таърихи халқи тоҷик ва асосҳои давлат ва ҳуқуқ иборат аст. Ҳар баҳшро дар тестшиносӣ субтест меноманд.

Тест – воситаи стандартишудаи арзёбии дастовардҳо (дониш ва малакаю маҳорат)-и докталаб аст, ки аз маҷмӯи саволу масъалаҳо ва дастурамал иборат аст.

ШАРҲИ СОҲТОРИ ИМТИҲОНҲО

Имтиҳонҳои дохилшавӣ дар низоми ИМД аз ду қисм (компонент) иборат аст: компоненти А (имтиҳони умумӣ) ва компоненти Б (имтиҳони ихтисос).

ИМТИҲОНИ УМУМӢ (КОМПОНЕНТИ А)

Тести имтиҳони умумӣ аз се субтест иборат буда, дар асоси барномаҳои таълим ва китобҳои дарсии амалқунандаи фанҳои **забони тоҷикӣ (давлатӣ), математика, таърихи халқи тоҷик ва асосҳои давлат ва ҳуқуқ** таҳия гардидааст.

Субтести забони тоҷикӣ (давлатӣ) сатҳи дониш ва қобилиятҳои забони докталабонро месанҷад. Ба воситаи субтести математика дараҷаи дониши докталаб аз ин фанни таълимӣ, ки барои фаъолиятҳои ҳамарӯзаи ӯ зарур аст, санҷида мешавад. Аз рӯи субтести таърихи халқи тоҷик ва асосҳои давлат ва ҳуқуқ дониши докталаб аз таърихи давлатдорӣ тоҷикон ва доир ба ҳуқуқу ӯҳдадорӣҳои шаҳрванди Ҷумҳурии Тоҷикистон санҷида мешавад.

Имтиҳони умумӣ барои ҳамаи докталабон сарфи назар аз забони таҳсил ва ихтисоси интихобнамудашон имтиҳони ҳатмӣ ба ҳисоб меравад.

Дар имтиҳони умумӣ (тест) ба ҳар докталаб саволнома дода мешавад, ки он аз се баҳш (субтест) иборат аст:

1. **Забони тоҷикӣ (давлатӣ).** Субтести забони тоҷикӣ (давлатӣ) аз 30 саволу масъала иборат буда, дар ду навъ: **саволҳо бо интиҳоби як ҷавоби дуруст ва саволҳо барои муайян кардани мувофиқат** дода мешавад.
2. **Математика.** Ин субтест 27 саволу маъаларо дар бар гирифта, дар 3 навъ: **саволҳо бо интиҳоби як ҷавоби дуруст, саволҳо барои муайян кардани мувофиқат ва саволҳои кушода** пешниҳод мегардад.
3. **Таърихи халқи тоҷик ва асосҳои давлат ва ҳуқуқ.** Ин субтест 30 саволу масъаларо дар бар гирифта, ба ду навъ: **саволҳо бо интиҳоби як ҷавоби дуруст ва саволҳо барои муайян кардани мувофиқат** оварда мешавад.

Барои ҷавоб додан ба саволҳо ва ҳалли масъалаҳои ҳар се баҳши имтиҳони умумӣ **165 дақиқа** дода мешавад.

Дар ёд дошта бошед, барои ин ки ба ҳамаи саволу масъалаҳои тест ва ё ба миқдори бештари саволу масъалаҳо дар вақти муайяншуда (165 дақиқа) ҷавоб диҳед, бояд вақти имтиҳонро дуруст тақсим намоед. Агар барои иҷрои тести забони тоҷикӣ (давлатӣ) ва таърихи халқи тоҷик ва асосҳои давлат ва ҳуқуқ аз 50 то 60 дақиқа (барои ҳар субтест) ва барои иҷрои тести математика аз 40 то 45 дақиқа сарф шавад, мувофиқи мақсад хоҳад буд.

ВАҚТИ ИМТИҲОНРО ЧӢ ТАВР БОЯД ТАҚСИМ НАМУД

Якчанд дақиқаро барои бодикқат хондани саволу масъала сарф намоед.

Ба нақша гиред, ки ба саволу масъалаҳои осон дар аввал ва ба саволу масъалаҳои душвор дар охир ҷавоб нависед.

Бо муайян кардани ҷавоби дурусти саволу масъалаҳо ҳамон лаҳза ҷавобро дар варакаи ҷавобҳои тест ишора намоед/нависед.

Агар дар ҷавоб гуфтан ба ягон савол ва ё ҳалли масъалае душворӣ кашед, саросема нашавед ва ба ҳаяҷон ҳам наоед, ба иҷрои тест идома диҳед. Ба саволу масъалаи душвор боз пас аз ҷавоб гуфтан ба ҳамаи саволу масъалаҳои тест баргардед.

Агар тестро пеш аз вақти муайянгардида иҷро карда бошед, барои баромадан саросема нашавед: бори дигар тести худро санҷед, то бовар ҳосил намоед, ки ҳамаи ҷавобҳоро дар варакаи ҷавобҳои тест дуруст ишора намудаед/навиштаед.

ИМТИҲОНИ ИХТИСОС (КОМПОНЕНТИ Б)

Тести имтиҳони ихтисос дар асоси барномаҳои таълим ва китобҳои дарсии амалкунанда таҳия шуда, вобаста ба кластери интихобшуда 3 субтестро дар бар мегирад.

Ҳамаи ихтисосҳо мувофиқи қадвали тақсимои давлатии самтҳо ва тахассусҳо ва иҷозатномаи фаъолияти донишкадаю донишгоҳҳо ба кластерҳо (5 кластер) гурӯҳбандӣ шудаанд:

- кластери 1: табиӣ ва техникӣ;
- кластери 2: иқтисодӣ ва географӣ;
- кластери 3: филологӣ, педагогӣ ва санъат;
- кластери 4: ҷамъиятшиносӣ ва ҳуқуқ;
- кластери 5: тиббӣ, биологӣ ва варзиш.

Дар кластери 1 (табиӣ ва техникӣ) саволнома аз 3 бахш (субтест) иборат аст:

1. **Математика.** Ин субтест 27 саволу маъаларо дар бар гирифта, дар 3 навъ: саволҳо бо интихоби як ҷавоби дуруст, саволҳо барои муайян кардани мувофиқат ва саволҳои кушода пешниҳод мегардад.
2. **Физика.** Дар ин субтест 22 саволу масъала дар се навъ: саволҳо бо интихоби як ҷавоби дуруст, саволҳо барои муайян кардани мувофиқат ва саволҳои кушода дода мешавад.

3. **Химия.** Ин субтест **25** саволу масъаларо дар бар гирифта, бо 3 навъ: **саволҳо бо интихоби як ҷавоби дуруст, саволҳо барои муайян кардани мувофиқат ва саволҳои кушода** оварда мешавад.

Дар кластери **2 (иқтисодӣ ва географӣ)** саволнома се бахш (субтест)-ро дар бар гирифтааст:

1. **Математика.** Ин субтест **27** саволу маъаларо дар бар гирифта, дар 3 навъ: **саволҳо бо интихоби як ҷавоби дуруст, саволҳо барои муайян кардани мувофиқат ва саволҳои кушода** пешниҳод мегардад.
2. **География.** Дар ин субтест **25** саволу масъала дар 2 навъ: **саволҳо бо интихоби як ҷавоби дуруст ва саволҳо барои муайян кардани мувофиқат** дода мешавад.
3. **Забони хориҷӣ.** Ин субтест **20** саволу масъаларо дар бар гирифта, бо 2 навъ: **саволҳо бо интихоби як ҷавоби дуруст ва саволҳо барои муайян кардани мувофиқат** оварда мешавад.

Дар кластери **3 (филологӣ, педагогӣ ва санъат)** саволнома аз се бахш (субтест) иборат аст:

1. **Забон ва адабиёт¹.** Ин субтест аз **20** саволу масъала иборат буда, дар 2 навъ: **саволҳо бо интихоби як ҷавоби дуруст ва саволҳо барои муайян кардани мувофиқат** дода мешавад.
2. **Таърих.** Дар ин субтест **25** саволу масъала дар 2 навъ: **саволҳо бо интихоби як ҷавоби дуруст ва саволҳо барои муайян кардани мувофиқат** дода мешавад.
3. **Забони хориҷӣ.** Ин субтест **20** саволу масъаларо дар бар гирифта, бо 2 навъ: **саволҳо бо интихоби як ҷавоби дуруст ва саволҳо барои муайян кардани мувофиқат** оварда мешавад.

Дар кластери **4 (ҷомеашиносӣ ва ҳуқуқ)** саволномаҳо аз се бахш (субтест) иборат аст:

1. **Таърих.** Ин субтест аз **25** саволу масъала иборат буда, дар ду навъ: **саволҳо бо интихоби як ҷавоби дуруст ва саволҳо барои муайян кардани мувофиқат** дода мешавад.
2. **Ҳуқуқи инсон.** Дар ин субтест **25** саволу масъала дар 2 навъ: **саволҳо бо интихоби як ҷавоби дуруст ва саволҳо барои муайян кардани мувофиқат** дода мешавад.
3. **Забони хориҷӣ.** Ин субтест **20** саволу масъаларо дар бар гирифта, бо 2 навъ: **саволҳо бо интихоби як ҷавоби дуруст ва саволҳо барои муайян кардани мувофиқат** оварда мешавад.

Дар кластери **5 (тиббӣ, биологӣ ва варзиш)** саволнома аз 3 бахш (субтест) иборат аст:

1. **Химия.** Ин субтест **25** саволу маъаларо дар бар гирифта, дар 3 навъ: **саволҳо бо интихоби як ҷавоби дуруст, саволҳо барои муайян кардани мувофиқат ва саволҳои кушода** пешниҳод мегардад.

¹ Дар ин бахш гурӯҳҳои тоҷикӣ аз забон ва адабиёти тоҷик, гурӯҳҳои русӣ аз забон ва адабиёти рус ва доктарабоне, ки филологияи ўзбекро интихоб намудаанд, аз забон ва адабиёти ўзбек имтиҳон месупоранд.

2. **Биология.** Дар ин субтест **26** саволу масъала дар 2 навъ: **саволҳо бо интихоби як ҷавоби дуруст ва саволҳо барои муайян кардани мувофиқат** дода мешавад.
3. **Физика.** Ин субтест **22** саволу масъаларо дар бар гирифта, бо 3 навъ: **саволҳо бо интихоби як ҷавоби дуруст, саволҳо барои муайян кардани мувофиқат ва саволҳои кушода** оварда мешавад.

Барои ҷавоб додан ба саволҳо ва ҳалли масъалаҳои тести се бахши имтиҳони ихтисос **135 дақиқа** муайян гардидааст.

Дар ёд дошта бошед, барои ин ки ба ҳамаи саволу масъалаҳои тест ва ё ба миқдори бештари саволу масъалаҳо дар вақти муайяншуда (135 дақиқа) ҷавоб диҳед, бояд вақти имтиҳонро дуруст тақсим намоед. Агар барои иҷрои ҳар субтест аз 40 то 45 дақиқа сарф шавад, мувофиқи мақсад хоҳад буд.

ВАҚТИ ИМТИҲОНРО ЧӢ ТАВР БОЯД ТАҚСИМ НАМУД

Якчанд дақиқаро барои бодикқат хондани саволу масъала сарф намоед.

Ба нақша гиред, ки ба саволу масъалаҳои осон дар аввал ва ба саволу масъалаҳои душвор дар охир ҷавоб нависед.

Бо муайян кардани ҷавоби дурусти саволу масъалаҳо ҳамон лаҳза ҷавобро дар варақаи ҷавобҳои тест ишора намоед/нависед.

Агар дар ҷавоб гуфтан ба ягон савол ва ё ҳалли масъалае душворӣ кашед, саросема нашавед ва ба ҳаяҷон ҳам наоед, ба иҷрои тест идома диҳед. Ба саволу масъалаи душвор боз пас аз ҷавоб гуфтан ба ҳамаи саволу масъалаҳои тест баргардед.

Агар тестро пеш аз вақти муайянгардида иҷро карда бошед, барои баромадан саросема нашавед: бори дигар тести худро санҷед, то бовар ҳосил намоед, ки ҳамаи ҷавобҳоро дар варақаи ҷавобҳои тест дуруст ишора намудаед/навиштаед.

ДАСТУРИ ИЧРОИ ТЕСТ (КОМПОНЕНТИ А)

Ин саволнома аз се бахш (субтест) иборат аст: забони тоҷикӣ (давлатӣ), математика ва таърихи халқи тоҷик ва асосҳои давлат ва ҳуқуқ.

Барои ҷавоб додан ба саволҳо ва ҳалли масъалаҳои тест 165 дақиқа муайян шудааст.

Субтести «Забони тоҷикӣ (давлатӣ)» 30 саволу масъаларо дар бар мегирад ва ду навъ аст.

Субтести «Математика» 27 саволу масъаларо дар бар мегирад ва се навъ аст.

Субтести «Таърихи халқи тоҷик ва асосҳои давлат ва ҳуқуқ» 30 саволу масъаларо дар бар мегирад ва ду навъ аст.

Навъи якум – саволҳо бо интиҳоби як ҷавоби дуруст. Барои ҳар саволу масъала чор варианти ҷавоб дода мешавад, ки танҳо **яктоаш дуруст** аст. Ҷавоби дуруст интиҳоб ва дар варакаи ҷавобҳо ишора мешавад.

Масалан, агар Шумо варианти «В»-ро ҳамчун ҷавоби дурусти савол интиҳоб намоед, пас дар варакаи ҷавобҳо ин тарз ишора намоед:

A	B	C	D
	X		

Навъи дуҷуми саволу масъалаҳо муайян кардани мувофиқат аст. Дар чунин навъ барои ҳар як масъала ба калимаҳо ва ҷумлаҳо (ва формулаҳо, функцияҳо), ки дар сутуни якум дода шудааст, аз сутуни дуҷум ҷавоби мувофиқ ва дуруст интиҳоб карда мешавад.

Масалан, агар ба фикри Шумо, ба варианти А ҷавоби мувофиқ рақами 2, ба варианти В рақами 4, ба варианти С рақами 1, ба варианти D рақами 5 бошад, дар варакаи ҷавобҳо ин тарз нишона гузored:

	1	2	3	4	5
A		X			
B				X	
C	X				
D					X

Навъи сеюм саволу масъалаҳои кушода бо ҷавоби кӯтоҳ аст. Ҷавоби ҳар як саволи ин навъ бо адади бутун дар катакҳои махсуси варакаи ҷавобҳо навишта мешавад. Агар ҷавоб адади манфӣ (-2) бошад, ҳар аломат дар катаки алоҳида навишта мешавад, агар касри даҳӣ (25,3) бошад, онро то адади бутун яклухт кардан лозим аст.

Масалан, агар Шумо адади 25,3-ро ҷавоби дурусти масъала ҳисоб кунед, онро дар варакаи ҷавобҳо ба ин тарз нависед:

			2	5
--	--	--	---	---

ТАРТИБИ ПУР КАРДАНИ ВАРАКАИ ҶАВОБҲО

- пеш аз ҷавоб додан ба саволҳо ва ҳалли масъалаҳои тест дар варакаи ҷавобҳо рақами варианти тести худро ишора намоед;
- дар варакаи ҷавобҳо танҳо як ҷавоби дурустро, ба фикри худатон, ишора намоед/нависед;
- ҷавобҳоро дуруст ва аз рӯи дастури иҷрои тест вобаста ба пурсиши ҳар саволу масъала ишора кунед/нависед;
- ҷавобҳои нодуруст ишорашуда ва хатзадашуда ва ё катакҳои пурнашуда ба ҳисоб гирифта намешаванд;
- агар Шумо ҷавоби ишоракардаатонро иваз кардан хоҳед, метавонед онро аз рӯи нишондоди варакаи ҷавобҳо ислоҳ намоед, ба ғайр аз саволҳои кушода, ки ислоҳи онҳо иҷозат дода намешавад;
- баъд аз иҷрои тест дар пушти варакаи ҷавобҳо ҷумлаи «Бо тартиби гузаронидани имтиҳон розӣ ҳастам»-ро навишта имзо гузored.

Ба Шумо комёбӣ мебоҷем!

НАМУНАИ САВОЛУ МАСЪАЛАҶОИ ТЕСТ (КОМПОНЕНТИ А)

СУБТЕСТИ ЗАБОНИ ТОҶИКӢ (ДАВЛАТӢ)

Варианти 1

- 1. Дар кадом гурӯҳи калимаҳо ҳарфи Ӯ (аломати сакта) афтад, маъно тағйир меёбад?**
А) аъзам, фаъол, санъат
В) шамъ, васеъ, нафъ
С) эълон, таърих, маълум
D) раъд, суръат, манъ
- 2. Дар кадом ҳолат дар калимаҳои монанди «ангиштсанг», «баландқомат», «бистнафарӣ» ҳодисаи фонетикии афтидани овоз мушоҳида мешавад?**
А) ҷойивазкунии овозҳо
В) пайиҳам омадани ду-се ҳамсадо
С) тағйир ёфтани талаффуз
D) монандшавии овозҳо
- 3. Дар матни зерин имлои кадом калимаҳо нодуруст аст?**
Аз Ӣусуфӣ исбот пурсидаанд, ки ғойати тавозӯъ чист?
Гуфт: - Он ки аз хона бурун оӣ ва ҳар киро бинӣ, чунон донӣ, ки беҳтар аз туст (Аттор).
А) Ӣусуфӣ, ғойат
В) пурсидаанд, гуфт
С) он ки, ҳар ки
D) тавозӯъ, беҳтар
- 4. Калимаҳои «мувофиқ» ва «муносиб», «хоксор» ва «фурӯтан», «ситампеша» ва «золим» аз ҷиҳати маъно чӣ гунаанд?**
А) ҳамреша
В) сермаъно
С) ҳаммаъно (синоним)
D) зидмаъно (антоним)
- 5. Қадоме аз ин воҳидҳои фразеологӣ (таъбирҳо) маънои «шахси бадғуҳар ва беманфиат»-ро ифода мекунад?**
А) хори сари девор
В) гули сари сабад
С) нахӯди пеши қошуқ
D) ба оши тайёр баковул
- 6. Матни зерин дар кадом услуб навишта шудааст?**
“Дӯсти мушфиқу меҳрубонам! Номаат ҳангоме расид, ки пас аз як ҳафта беморӣ ва истироҳат аз хона барои ҳавохӯрӣ ба берун мерафтам....”
А) услуби илмӣ
В) услуби бадеӣ
С) услуби публицистӣ
D) услуби расмӣ
- 7. Имлои кадом гурӯҳи исмҳо дуруст аст?**
А) норақ, роғун
В) худо, нодир
С) сапеда, бомдод
D) ҷумхӯрӣ, қишвар
- 8. Дар кадом сатр имлои нумеративҳо бо шумора дуруст нест?**
А) як-ду бех ниҳол, се-чор дона чормағз, ду-се дарза алаф
В) 3-то дарвоза, 4-то ҳавлӣ, 5-то бӯстонсаро
С) якто китобхона, панҷоҳу ду нафар корманд, дусад нусха маҷалла
D) ду дона китобҳо, як даста гулҳо, ду нафар донишҷӯён

9. Дар байти зерин калимаи «банда»-ро бо кадом ҷонишин иваз кардан мумкин аст?

*Банда, имрӯз панҷ рӯз гузаит,
Ки бар ин деҳа мезанам фарёд. (Салмони Соваҷӣ)*

- A) Мо B) Ман C) Ту D) Вай

10. Дар кадом гурӯҳи ибораҳо сифатҳо дар дараҷаи олий ифода ёфтаанд?

- A) марди чехракушод, пири солхӯрда
B) духтари абрукамон, зани қоматбаланд
C) калонтарин шаҳр, наздиктарин дӯст
D) кори дусоата, танаффуси нисфирӯзӣ

11. Дар номи кадом асар шумораи таркибӣ омадааст?

- A) «Ҳазору як шаб» C) «Ҳафт пайкар»
B) «Чор унсур» D) «Панҷсад ҳадис»

12. Тарзи навишти кадоме аз ин ибораҳо дуруст нест?

- A) дафъи бало C) табъи хуш
B) мавзӯи дарс D) навъи пахта

13. Ибори «*китобро хондан*» чӣ хел сохта шудааст?

- A) ба воситаи бандаки изофӣ C) ба воситаи пасоянд
B) ба воситаи пешоянд D) ба воситаи пешванд

14. Дар кадом маврид дар охири ҷумла сенуқта гузошта мешавад?

- A) агар ҷумла оҳанги пурсиш дошта бошад
B) агар ҷумла мазмуни хабарӣ дошта бошад
C) агар оҳанги баён баланд ва амрӣ бошад
D) агар ҷумла ноপুরра бошад

15. Дар ҷумлаи «*Пас аз омӯхтани илмҳои мантиқ, табиӣёт, фалсафа ва нуҷум ба ёд гирифтани илми тиб разбат намудам*» кадом аъзои ҷумла чида шуда омадааст?

- A) мубтадо B) хабар C) муайянкунанда D) пуркунанда

16. Дар байти зерин хабар дар кадом замони гузаштаи феъл ифода ёфтааст?

*Сараш бар санг мезад рӯди кӯҳӣ,
Ба доман чанг мезад рӯди кӯҳӣ. (Мирзо Турсунзода)*

- A) замони гузаштаи дур C) замони гузаштаи наздик
B) замони гузаштаи ҳикоятӣ D) замони гузаштаи нақлӣ

17. Дар ҷумлаи зерин ба ҷойи сенуқта пайвандаки мувофиқро гузоред.

... меваҳо тез пазанд, зимистон барвақт меояд.

- A) Ҳамин ки B) Зеро ки C) Агар D) Азбаски

18. Ҷумларо аз рӯйи мазмун пурра кунед.

Ҳама меҳнатро вазифаи аввалиндараҷаи худ мешуморанд, чунки ...

- A) меҳнат кунӣ, роҳат мебинӣ C) меҳнат асоси зиндагии инсон нест
B) меҳнат нақунӣ, нон намехӯрӣ D) меҳнат асоси зиндагии инсон аст

19. Дар ҷумлаи зерин ба ҷойи сенуқта калимаи мувофиқи ба вазифаи пасоянд оmodаро гузоред.

“Ба ҳавлӣ расидан ... ба тағи себ тохтем”

- A) барин B) замон C) интараф D) инҷониб

20. Вобаста ба мувофиқати замони мубтадо ва хабар ба ҷойи сенуқта феълҳои мувофиқро гузоред.

Пас аз вафоти Ҳоҷа Умар Илёси ҷавон илмҳои замонаро ... ва ба зиндагии мустақилона қадамҳои устувор ...

- A) омӯхт, гузошт C) омӯхта, гузошта истодааст
B) меомӯхт, мегузошт D) меомӯзад, хоҳад гузошт

21. Дар ҷумлаи зерин ба ҷойи нуқтаҳо зарфи миқдору дараҷаи мувофиқро гузоред. «Хонанда аз ҷавоби худ хурсанд буд»

- A) зиёд B) кам-кам C) бағоят D) як миқдор

22. Бо истифода аз муродифҳои луғавӣ ҷумларо пурра кунед.

«Абӯалӣ ибни Сино соли 1037 аз бемории шадид бо ин ҷаҳон ...»

- A) вафот кард B) даргузашт C) тарк кард D) падруд гуфт

23. Байти зерини Устод Рӯдакӣ кадом маъниро бозгӯӣ мекунад?

Ҳар кӣ н-омӯхт аз гузашти рӯзгор,

Низ н-омӯзад зи ҳеч омӯзгор.

- A) дониш чароғи роҳи зиндагист C) омӯзгорро эҳтиром бояд кард
B) таҷрибаи зиндагӣ беҳтарин омӯзгор аст D) аз омӯзгор ҳеч кас ҳеч чиз наомӯзад

24. Кадоме аз шарҳҳои додашуда ба мисраи якуми байти зерини Абулқосими Фирдавсӣ мувофиқ аст?

Тавоно бувад, ҳарки доно бувад,

Ба дониш дили пир барно бувад.

- A) аз тавоноӣ инсон ба доноӣ мерасад
B) ҳар кас ки тавоно аст, доно аст
C) донишмандии инсон маҳз дар тавоноии ӯст
D) қудрату тавоноии инсон маҳз дар дониш аст

25. Ба имлои ҳарфҳои “у” ва “ӯ” диққат дода, барои ҳар калимаи сутуни якум шарҳи мувофиқро аз сутуни дуюм интихоб намоед.

- | | |
|--------|-------------------------------|
| A) бур | 1) исми чинс: порчаи оҳаксанг |
| B) бўр | 2) сифат: нодон, бефаҳм |
| C) гул | 3) сифати феълӣ: сифати амал |
| D) гӯл | 4) исми кул: номи умумии ашё |
| | 5) асоси феъл: пора кардан |

Ҷавоб:

	1	2	3	4	5
A					
B					
C					
D					

26. Ба кадом услуби баён мувофиқ будани ҷумлаҳои сутуни якумро муайян кунед.

- | | |
|---|----------------------|
| A) Мара очам сохтаст-ку!? | 1) услуби илмӣ |
| B) Сараъзоро асоси ҷумла меноманд | 2) услуби расмӣ |
| C) Диққат! Имрӯз соати 16 ⁰⁰ дар маҷлисоҳои мактаб бо адиби шинохта Хаёли воҳурӣ баргузор мегардад | 3) услуби бадеӣ |
| D) Биное ва нобиное дар роҳ рафиқи сафар буданд... | 4) услуби гуфтугӯӣ |
| | 5) услуби публицистӣ |

Ҷавоб:

	1	2	3	4	5
A					
B					
C					
D					

27. Ба кадом маънои маҷозӣ истифода шудани ибораҳои сутуни якумро аз сутуни дуюм нишон диҳед.

- | | |
|----------------|-------------------------------|
| A) дили кашол | 1) дили бераҳм, бешафқат |
| B) дили пурхун | 2) дили осуда, хотирчамъ |
| C) дили сангин | 3) дили бесабру қарор |
| D) дили танг | 4) дили боумед, моил ба чизе |
| | 5) дили ғамгин, пурдарду алам |

Ҷавоб:

	1	2	3	4	5
A					
B					
C					
D					

28. Бо истифода аз калимаҳои сутуни якум ва сутуни дуюм ибора созед.

- | | |
|-----------|-------------|
| A) аъзо | 1) мушкилот |
| B) суръат | 2) бисёр |
| C) нафъ | 3) маҳфил |
| D) рафъ | 4) маҷалла |
| | 5) баланд |

Ҷавоб:

	1	2	3	4	5
A					
B					
C					
D					

29. Ба ҷойи нуқтаҳо аз сутуни дуюм зарфҳои мувофиқро гузоред.

- | | |
|---|------------------|
| A) Ҷурҷонӣ аз камоли мондагӣ ... нафас
мегирад (С.У.) | 1) базӯр-базӯр |
| B) Вера ва Шодигул ... қадам монда
рафтанд (С.У.) | 2) рӯз то рӯз |
| C) Ёдгор шундаҳояшро ...ба Гулнор
нақл кард (С.А.) | 3) ягон-ягон |
| D) Аз рӯи гуфтаҳои онҳо муҳаббатам
дар ҳақиқи Аҳмадмаҳдум ... зиёдтар ва
афзун мегардад | 4) шундан замон |
| | 5) оҳиста-оҳиста |

Ҷавоб:

	1	2	3	4	5
A					
B					
C					
D					

30. Маълумоти дар ду сутун додасударо тавре ба ҳам пайваст намоед, ки мувофиқан матни мухтасар доир ба ҳаёт ва эҷодиёти Абӯалӣ ибни Сино ҳосил шавад.

- | | |
|--------------------------------------|---|
| A) Сино вақте ба даҳсолагӣ
расид, | 1) Қуръон ва миқдори зиёде аз
илми адабиётро ёд
гирифта буд |
| B) Илми ҳисобро | 2) ҳалли масъаларо дар хоб
медид |
| C) Дар камтарин фурсат | 3) илми тибро фаро гирифт ва
беморонро парасторӣ
мекард |
| D) Бисту се асари Ибни Сино | 4) аз марде, ки сабзӣ
мефурӯхт, ёд гирифт |
| | 5) ба забони форсии тоҷикӣ
навишта шудааст |

Ҷавоб:

	1	2	3	4	5
A					
B					
C					
D					

СУБТЕСТИ ЗАБОНИ ТОЧИКӢ (ДАВЛАТӢ)

Варианти 2

1. Дар кадом гурӯҳи калимаҳо бо иваз намудани ҳарфи аввал (ба ҳамсадоҳои чуфт) маънои калима тағйир меёбад?

- А) синф, сафед, калон
В) банд, ваҳм, фасл
С) фарш, деҳа, соз
Д) баҳр, лаб, бисёр

2. Ба имлои калимаҳои, ки дар таркибашон садоҳои “ӯ” ва “у” доранд, диққат диҳед. Кадоме аз ин калимаҳо маънои “аҳмақ”, “нодон”-ро дорад?

- А) кӯл
В) қул
С) гӯл
Д) гул

3. Дар ҷумлаи зерин имлои кадом калимаҳо нодуруст аст?

Оби баҳру уқйонусҳоро истеъмол кардан мумкин нест, зеро дар онҳо модаҳои химийавии барои тансиҳати одам зийоновар бисёр ҳастанд.

- А) уқйонус, химийа, зийоновар
В) об, баҳр, истеъмол кардан
С) тансиҳатӣ, одам, бисёр
Д) онҳо, моддаҳо, тансиҳатӣ

4. Кадом гурӯҳи калимаҳо ҳаммаъно (муродиф, синоним) ҳастанд?

- А) қалам, рангдон, килк
В) меҳр, хуршед, офтоб
С) шона, ток, боз
Д) хубӣ, шодӣ, зебӣ

5. Дар ҷумлаи “Онҳо ҳеч гоҳ ба шаъни оила, диёр ва халқашон иснод наоварда, бо ҷонбозиҳои худ сари моро ба осмон мерасонанд” ифодаи (таъбири) “сари моро ба осмон мерасонанд” ба кадом маънӣ омадааст?

- А) сари моро то ба осмон баланд мебардоранд
В) қадди мо баланд мешавад, сарамон ба осмон мерасад
С) моро иззату эҳтиром мекунанд, мо хурсанд мешавем
Д) моро хурсанд мекунанд, мо аз онҳо ифтихор мекунем

6. Услуби кадоме аз навиштаҳои зерин публицистӣ аст?

- А) мақола, очерк
В) ҳикоя, повест
С) номаи падар ба писар
Д) шарҳи ҳол (автобиография)

7. Дар кадом сатр имлои шумораҳо дуруст нест?

- А) як-ду, се-чор, панҷ-дах, даҳ-бист
В) панҷо, ҳафтот, ҳаштот, нават
С) сеяк, чоряк, шашяк, аз панҷ ду
Д) ду дона китоб, як даста гул, ду нафар донишҷӯ

8. Дар кадом гурӯҳ исмҳо дар шумораи ҷамъ омадаанд?

- А) шубон, меҳмон, корвон
В) оҳувон, қувон, булбулон
С) гулистон, оташдон, намақдон
Д) тобистон, зимистон, меҳргон

9. Дар кадом гуруҳи ибораҳо сифатҳо дар дараҷаи олии ифода ёфтаанд?

- A) марди чехракушод, пири солхӯрда
- B) духтари абрукамон, зани қоматбаланд
- C) шаҳри хеле калон, дӯсти аз ҳама наздик
- D) кори дусоата, танаффуси нисфирӯзӣ

10. Дар байги зерин калимаи «эшон»-ро ба кадом ҷонишин иваз кардан мумкин аст?

*Сиёвуш чу рухсори эшон бидид,
Зи дил боз оҳи дигар баркашид. (Абулқосими Фирдавсӣ)*

- A) онҳо
- B) шумо
- C) ман
- D) мо

11. Дар номи кадом асар шумораи мураккаб омадааст?

- A) «Ҳазор тарона»
- B) «Ҳазору як шаб»
- C) «Ҳафт пайкар»
- D) «Панҷсад ҳадис»

12. Мисраи зерини Фирдавсӣ кадом хели ҷумлаи сода аст?

Нигаҳ кун бад-ин лашқари номдор...

- A) ҳикоягӣ
- B) саволий
- C) амрӣ
- D) хитобӣ

13. Дар ҷумлаи зерин хабар (зинда кардааст) дар кадом замони гузаштаи феъл ифода ёфтааст?

“Шоҳнома” асарест, ки Фирдавсӣ ба воситаи он таърихи чандинасраи гузаштаи халқи моро зинда кардааст.

- A) замони гузаштаи нақдӣ
- B) замони гузаштаи ҳикоягӣ
- C) замони гузаштаи наздик
- D) замони гузаштаи дур

14. Ба ҷойи сенуқта феъли ҳоли мувофиқро гузоред.

Модар ... духтарчаашро мехобонд.

- A) пичирросзанон
- B) аллагӯён
- C) гапзанон
- D) хандону шукуфон

15. Бо истифода аз муродифи луғавии мувофиқ ҷумларо пурра кунед.

..., ки Ҷомӣ зимистону тобистон ҷомаи одии пахтагин мепӯшиданд.

- A) Нақл мекунанд
- B) Баён мекунанд
- C) Гуфта медиҳанд
- D) Иброз медоранд

16. Ба ҷойи сенуқта сифати мувофиқро гузоред.

Олим, файласуф, табиб ва шоири ... Абӯалӣ ибни Сино 23 асараширо ба забони форсии тоҷикӣ навиштааст.

- A) калон
- B) азим
- C) бузург
- D) кабир

17. Вобаста ба мувофиқати замонии мубтадо ва хабар ба ҷойи сенуқта феъли мувофиқро гузоред.

Соли 1980 дар шаҳри Душанбе 1000-солагии Абӯалӣ ибни Сино ...

- A) чашн мегиранд
- B) чашн гирифтанд
- C) чашн гирифта мешавад
- D) чашн гирифта шуд

18. Ҷумларо аз рӯйи мазмун пурра кунед.

«Ҳофиз чунон форам месуруд, ки ...»

- A) ба дили кас ғаму андӯх ҷой мекард C) ба дили ҳеҷ кас намеғунҷид
B) ба кас ҳаловат мебахшид D) ҳама зери лаб такрор мекарданд

19. Дар ҷумлаи зерин ба ҷойи сенуқта феъли ҳоли мувофиқро гузоред.

Мӯзаҳои ялтосиашро ... пасу пеш рафта меомад (Р. Ҷалил)

- A) пичирросзанон B) ғурросзанон C) хорон-хорон D) ғарч-ғарчкунон

20. Дар ҷумлаи зерин ба ҷойи нуқтаҳо аз ҷуфтҳои синонимии додашуда мувофиқашро гузоред: «Китоб дӯсти ... инсон аст»

- A) хубтари C) беҳтарини
B) аз ҳама хубтари D) аз ҳама беҳтари

21. Ҷумларо бо мувофиқати замони хабар ва мубтадо пурра кунед.

«Бобак фикр карда аз «Шоҳнома» байтҳои дахлдорро ба ёд овард ва ...»

- A) дармонда-дармонда хонд C) дармонда-дармонда мехонад
B) дармонда-дармонда мехонд D) дармонда-дармонда хонда истодааст

22. Дар ҷумлаи зерин ба ҷойи сенуқта муродифи луғавии мувофиқро гузошта, ҷумларо пурра кунед.

«Самарқандиён бо роҳбарии Ғӯрак мардонавор ба муқобили арабҳо ...»

- A) меситезиданд C) ҷангу ҷидол мекарданд
B) меразмиданд D) задухӯрд мекарданд

23. Маънои байти зерини Абӯабдуллоҳи Рӯдакӣ кадом аст?

Ҳеҷ шодӣ нест андар ин ҷаҳон

Бартар аз дидори рӯйи дӯстон.

- A) беҳтарини корҳо шодӣ кардан аст
B) беҳтарин хушнудӣ дидан ва суҳбати дӯстон аст
C) дар ҷаҳон ҳеҷ гуна шодие вучуд надорад
D) дидани рӯйи дӯстон ҳеҷ гуна шодӣ нест

24. Абулқосими Фирдавсӣ дар байти зерин чӣ гуфтан мехоҳад?

Набошад ҳаме неку бад пойдор,

Ҳамон беҳ, ки некӣ бувад ёдгор.

- A) неку бад пойдор нест, вале ёдгор аст
B) некию бадӣ ҳамеша ҷовидон мемонанд
C) беҳтар он аст, ки некиву бадӣ ҳар ду ёдгор бувад
D) нақӯй беҳтарини корхост, ки ёдгор мемонад

25. Чузъи дуҷоми таркибҳои ҷуфтро аз сутуни дуҷум ёбед.

- | | |
|-----------|-------------|
| A) азобу | 1) саломат |
| B) шоду | 2) ғусса |
| C) сихату | 3) хуррам |
| D) ғаму | 4) қувват |
| | 5) машаққат |

	1	2	3	4	5
A					
B					
C					
D					

Ҷавоб:

26. Шарҳи дурусти ибораҳои фразеологиро аз сутуни дуҷум ёбед.

- | | |
|----------------------|---|
| A) ақли худро хӯрдан | 1) беқадр шудан, аҳамиятро гум кардан |
| B) аз худ рафтан | 2) сухан ва мурочиати беҳуда кардан |
| C) аз забон афтодан | 3) кореро фикр накарда иҷро кардан |
| D) ба девор гуфтан | 4) мағрур шудан, ҳадди худро надоништан |
| | 5) бо касе аҳду паймон кардан |

	1	2	3	4	5
A					
B					
C					
D					

Ҷавоб:

27. Ба кадом маънои маҷозӣ истифода шудани ибораҳои сутуни якумро аз сутуни дуҷум нишон диҳед.

- | | |
|------------------|-------------------------------|
| A) гули бехор | 1) рӯйи зебо, чеҳраи гулгун |
| B) гули рангин | 2) чизи беайб, бењуқсон |
| C) гули пажмурда | 3) чизи қалбакӣ, сохта |
| D) гули қоғазин | 4) гули тозарӯида, навшукуфта |
| | 5) рӯйи зард; афсурда, ғамгин |

	1	2	3	4	5
A					
B					
C					
D					

Ҷавоб:

28. Дар мувофиқати калимаҳои ду сутун ибора созед.

- | | |
|----------|--------------|
| A) садди | 1) томақтабӣ |
| B) синни | 2) расо |
| C) қулли | 3) роҳ |
| D) қадди | 4) мардум |
| | 5) калонсол |

	1	2	3	4	5
A					
B					
C					
D					

Ҷавоб:

29. Ба ҷойи нуқтаҳо аз сутуни дуюм зарфҳои миқдору дараҷаи мувофиқро гузоред.

- | | |
|--|--------------|
| A) Қарибиҳои бегоҳ бобо ... ба гап
даромад | 1) дучанд |
| B) Одамон ... ба ҳар тараф паҳн шуданд | 2) каме |
| C) Ҳар рӯз ... кор кунӣ, саломатиат зуд
барқарор мегардад | 3) ду-ду |
| D) Ҳавопаймо роҳи моро ... наздик
гардонд | 4) як дараҷа |
| | 5) кам-кам |

	1	2	3	4	5
A					
B					
C					
D					

Ҷавоб:

30. Муайян намоед, ки суҳанони (мазмунӣ байтҳои) дар сутуни дуюм додашударо кадоме аз ин адибон гуфтааст.

- | | |
|---------------------------|--|
| A) Абӯабдуллоҳи
Рӯдакӣ | 1) мард он касест, ки ба
дармондагон дасти ёрӣ
дароз мекунад |
| B) Абулқосими
Фирдавӣ | 2) китоб беҳтарин дӯсти кунҷи
танҳоист |
| C) Абӯалӣ ибни Сино | 3) аз зери замин то ба осмон
ҳамаи мушкilotи ҷаҳонро
ҳал кардаам |
| D) Камоли Хучандӣ | 4) чун ту дар ғурбат
наафтадаӣ, аз ҳоли мани
ғариб хабар надорӣ |
| | 5) тавоноии инсон маҳз дар
дониши ўст |

	1	2	3	4	5
A					
B					
C					
D					

Ҷавоб:

СУБТЕСТИ МАТЕМАТИКА

Варианти 1

1. Ҳисоб кунед: $3\frac{3}{4} - 1\frac{2}{3}$

A) $2\frac{1}{6}$

B) $2\frac{1}{12}$

C) $4\frac{1}{12}$

D) $3\frac{5}{12}$

2. Ресмони дарозияш 24 метрро ба ду қисм чунон буридан лозим аст, ки як қисм аз дигараш се маротиба дарозтар бошад. Қисми дарози ресмон бояд чӣ қадар бошад?

A) 6 м

B) 8 м

C) 18 м

D) 72 м

3. Ифодаро табдил диҳед: $\left(-\frac{a}{2}\right)^3$

A) $\frac{a^3}{9}$

B) $-\frac{a^3}{8}$

C) $-\frac{3a}{2}$

D) $-\frac{a^3}{6}$

4. Ба бисёраъзогӣ табдил диҳед: $(2a + 4)^2$

A) $4a^2 + 16a + 16$

B) $4a^2 + 16a + 8$

C) $2a^2 + 16a + 4$

D) $2a^2 + 8a + 16$

5. Бо тартиби афзуншавӣ ҷойгир кунед: $2\sqrt{21}$; $3\sqrt{10}$; 9

A) $3\sqrt{10}$; $2\sqrt{21}$; 9

B) $2\sqrt{21}$; $3\sqrt{10}$; 9

C) 9; $2\sqrt{21}$; $3\sqrt{10}$

D) $3\sqrt{10}$; 9; $2\sqrt{21}$

6. Адади 77-ро ба чунин ҳиссаҳе ҷудо кунед, ки онҳо ҳамчун 2:5 нисбат дошта бошанд.

A) 2; 74

B) 5; 72

C) 11; 66

D) 22; 55

7. Дар қутгӣ 8 кг қулфинай меғунҷад. Барои 152 кг қулфинай чандто чунин қутгӣ лозим аст?

A) 18 қутгӣ

B) 19 қутгӣ

C) 20 қутгӣ

D) 144 қутгӣ

8. Суръати шамоли сусти $2\frac{1}{4}$ м/с, суръати шамоли муътадил аз суръати шамоли сусти ду маротиба зиёд, суръати шамоли саҳт аз суръати якҷояи шамоли сусти ва муътадил $1\frac{1}{3}$ маротиба зиёд аст. Суръати шамоли саҳтро муайян кунед.

A) $3\frac{3}{4}$ м/с

B) 6 м/с

C) $6\frac{1}{2}$ м/с

D) 9 м/с

9. Дар мағоза пас аз ба фурӯш рафтани 37 костюми мардона, назар ба шумораи костюмҳои фурӯхташуда 19-то зиёд костюм боқӣ монд. Аввал дар мағоза чандто костюми мардона буд?

A) 93

B) 56

C) 55

D) 18

10. Ғўлачўби дарозияш 12 метрро ба 8 қисми баробар бурида ҷудо карданд. Муайян кунед, ки ғўлачўбро аз чанд ҷояш буриданд.
- A) 4 B) 8 C) 7 D) 20
11. Тасдиқоти *нодурустро* нишон диҳед:
- A) агар дар чоркунча ҳар як тараф ба тарафи муқобил баробар бошад, вай параллелограмм аст
 B) агар ҳамаи кунҷҳои чоркунча ба 90° баробар буда, тарафҳои нобаробар бошанд, вай росткунча аст
 C) диагоналиҳои росткунча баробаранд
 D) диагоналиҳои росткунча биссектрисаҳои кунҷҳои он мебошанд
12. Ҳоло соат 18-у 21 дақиқа аст. 5 соату 32 дақиқа пеш соат чанд буд?
- A) 12-у 11 дақиқа B) 12-у 49 дақиқа C) 12-у 59 дақиқа D) 13-у 11 дақиқа
13. Сайёҳ дар ду рӯз 26 км роҳро тай намуд. Роҳи рӯзи аввал тайнамудаи $\frac{6}{7}$ ҳиссаи роҳи рӯзи дуюм тайнамударо ташкил медиҳад. Рӯзи якум сайёҳ чӣ қадар роҳро тай намудааст?
- A) 16 км B) 14 км C) 12 км D) 10 км
14. Аз ду шахрак дар як вақт ба пешвози ҳамдигар ду пиёдагард ба роҳ баромаданд. Масофаи байни шахракҳо 26 км аст. Пиёдагарди якум бо суръати 3 км/соат, дуюмаш бо суръати 3,5 км/соат ҳаракат карданд. Пас аз чанд соат онҳо вохӯрданд?
- A) 26 соат B) 13 соат C) 4 соат D) 3 соату 30 дақиқа
15. Аз шири равшаннокияш 3% 9 кг равшан гирифта шуд. Барои ин чанд килограмм шир сарф шуд?
- A) 25 кг B) 300 кг C) 325 кг D) 400 кг
16. Се нафар коргар супоришero дар 6 рӯз иҷро менамоянд. Агар ду нафари онҳо ба иҷрои ҳамин супориш шурӯъ намоянд, супориш дар чанд рӯз иҷро мешавад?
- A) 6 B) 8 C) 9 D) 12
17. Росткунҷаи тарафҳои 3 см ва 6 см ба ду квадрат ҷудо карда шуд. Суммаи периметрҳои квадратҳои ҳосилшуда ба чанд баробар аст?
- A) 24 см B) 18 см C) 12 см D) 9 см

18. Намуди матоеро, ки қисми зиёдаш истифода шудааст, ёбед.

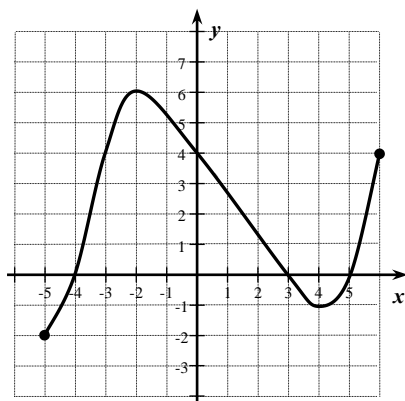
Намуди матоъ	I	II	III	IV
Дарозии печидаи матоъ бо метр	100	90	120	110
Қисми истифодашудаи печидаи матоъ	$\frac{3}{4}$	$\frac{5}{6}$	$\frac{2}{3}$	$\frac{6}{10}$

- A) I B) II C) III D) IV

19. Қимати функцияи $y = x^2 + 3$ -ро дар нуқтаи $x = -2$ ёбед.

- A) -1 B) 1 C) 5 D) 7

20. Соҳаи муайянии функцияро нишон диҳед.



- A) $[-5; -2]$ B) $(0; 5]$ C) $[-5; 6]$ D) $[-5; 5]$

21. Барои ҳар як формулаи додашуда графики функцияи мувофиқро муайян намоед.

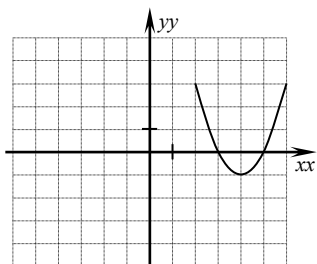
A) $y = -(x - 1)^2 + 4$

B) $y = -(x + 2)^2$

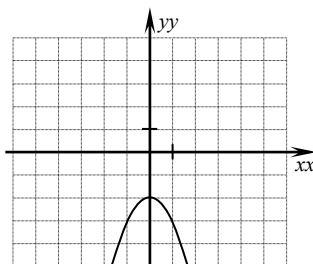
C) $y = (x + 3)^2$

D) $y = (x - 4)^2 - 1$

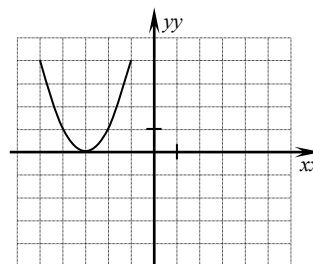
1)



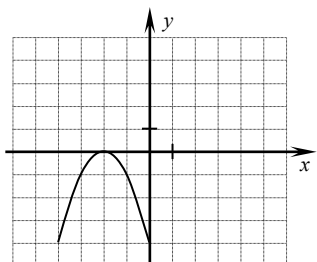
2)



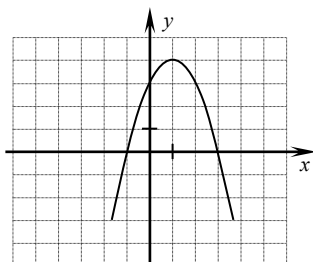
3)



4)






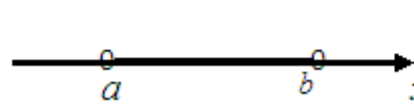
5)



Ҷавоб:

	1	2	3	4	5
A					
B					
C					
D					

22. Барои ҳар яке аз унсурҳои сутуни якум (A - D) унсури мувофиқро аз сутуни дуюм интихоб намоед.

- A)  1) $(-\infty; a]$
 B)  2) $[a; b]$
 C)  3) $(a; b)$
 D)  4) $[a; b)$
 5) $(a; b]$

Ҷавоб:

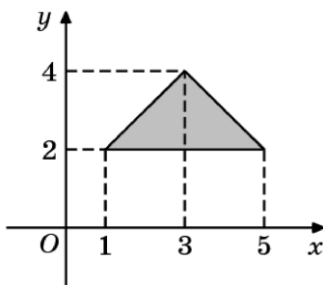
	1	2	3	4	5
A					
B					
C					
D					

23. Нархи қолин 2400 сомони буд. Пас аз паст шудани нархи он 1800 сомони шуд. Нархи қолин чанд фоиз паст карда шуд?

Ҷавоб:

 %

24. Масоҳати секунҷаи дар расм тасвиршударо ёбед.



Ҷавоб:

25. Суръати заврақ 3600 м/соат аст. Заврақ масофаи 900 м-ро дар чанд дақиқа тай мекунад?

Ҷавоб:

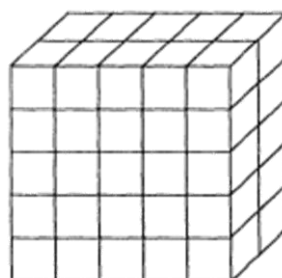
 дақиқа

26. Миқдори пулери муайян кунед, ки суммаи сеяк, чоряк ва панҷаки он 94 сомониро ташкил медиҳад.

Ҷавоб:

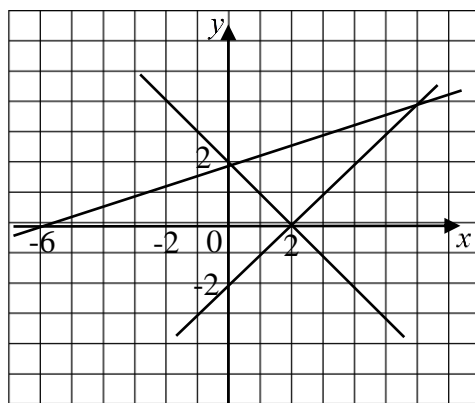
 сомони

27. Қуттӣ бо кубикҳои якхела пур карда шудааст. Шумораи кубикҳоро ёбед.



Ҷавоб:

9. Графики кадоме аз функсияҳои зерин дар расм мавҷуд нест?



- A) $y = x - 2$ B) $y = \frac{1}{3}x - 2$ C) $y = \frac{1}{3}x + 2$ D) $y = 2 - x$

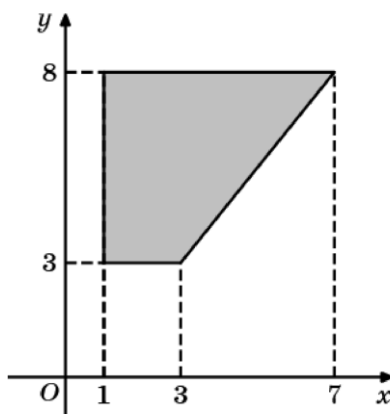
10. Як кунҷи тези секунҷаи росткунҷа 35° аст. Кунҷи тези дуҷумро ёбед.

- A) 80° B) 70° C) 65° D) 55°

11. Ҳангоми дар ҷангал сайругашт намудан Умар баъди ҳар як 40 метр яктоғи занбуруғ ёфт. Агар вай 20 дона занбуруғ ёфта бошад, аз занбуруғи якум то охири он чӣ қадар масофаро тай намудааст?

- A) 840 м B) 760 м C) 800 м D) 60 м

12. Масоҳати трапетсияи дар расм тасвиршударо ёбед.



- A) 44 B) 40 C) 20 D) 25

13. Фотима соати 9-у 28 дақиқа ба сайругашт баромада, соати 14-у 15 дақиқа ба хона баргашт. Сайругашт чӣ қадар давом кардааст?

- A) 4 соату 47 дақиқа C) 5 соат
B) 5 соату 13 дақиқа D) 23 соату 43 дақиқа

14. Барои дӯхтани як курта 3,5 метр атлас лозим аст. Аз 47 метр атлас чандто курта дӯхтан мумкин аст?

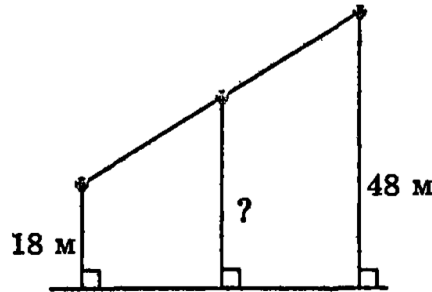
A) 164

B) 14

C) 13

D) 12

15. Дар як хатти рост дар масофаи баробар се симчӯб ҷойгир аст. Симчӯбҳои канорӣ аз роҳ дар масофаи 18 м ва 48 м ҷойгиранд. Масофаи байни роҳ ва симчӯби мобайниро ёбед.



A) 66 м

B) 33 м

C) 30 м

D) 15 м

16. Дар қуттӣ 6 кг орд буд. 0,4 қисми онро истифода намуданд. Вазни орди боқимондари ёбед.

A) 6,4 кг

B) 5,6 кг

C) 3,6 кг

D) 2,4 кг

17. Автомобил дар 5 соат 300 км роҳро тай намуд. Вай бо ҳамин суръат дар 3 соат чӣ қадар роҳро тай мекунад?

A) 60 км

B) 120 км

C) 160 км

D) 180 км

18. Дар ибтидои соли хониш дар мактаб 650 нафар хонанда буд. Дар давоми сол шумораи хонандагон 4% афзуд. Шумораи хонандагони мактабро дар охири сол муайян кунед.

A) 676

B) 700

C) 800

D) 813

19. Ҳаҷми ҳавз 100 м^3 буда, тарафҳои асосаш 10 м ва 5 м мебошанд. Деворҳо ва асоси онро аз дохилаш бо тахтачаҳои сафолӣ рӯйпӯш намудан лозим. Барои ин чанд м^2 тахтачаи сафолӣ лозим аст?

A) 160 м^2

B) 110 м^2

C) 90 м^2

D) 60 м^2

20. Барои пухтани карамшӯрбо ба ҳар 100 грамм гӯшт 60 грамм лаблабу гирифтани лозим аст. Агар гӯшт 650 грамм бошад, чӣ қадар лаблабу гирифтани лозим аст?

A) 390 г

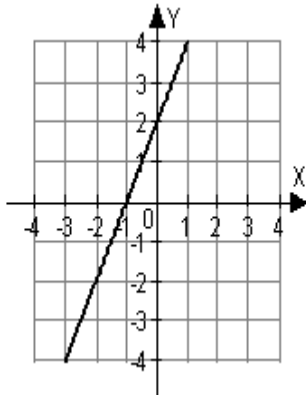
B) 360 г

C) 260 г

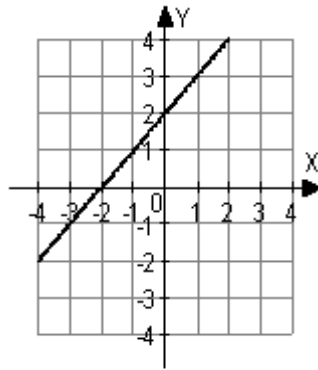
D) 160 г

21. Дар расмҳои А, В, С, D хатҳои рост тасвир карда шудаанд. Барои ҳар як хати рост функсияи мувофиқро (1, 2, 3, 4, 5) муайян намоед.

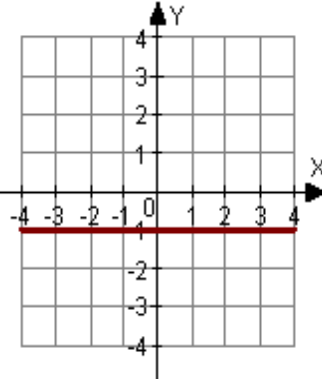
Графикҳо



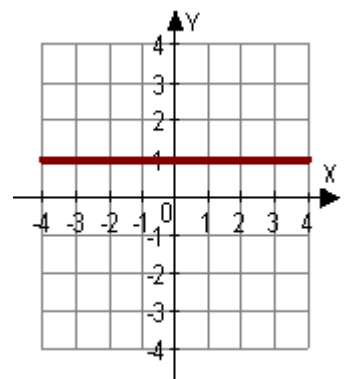
A)



B)



C)



D)

Функсияҳо

- 1) $y = x + 1$
- 2) $y = -1$
- 3) $y = 2x + 2$
- 4) $y = 1$
- 5) $y = x + 2$

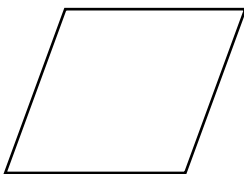
Ҷавоб:

	1	2	3	4	5
A					
B					
C					
D					

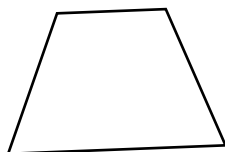
22. Муайян намоед, ки ҳар як таърифи додасуда ба кадом фигура тааллуқ дорад.

- A) Параллелограмме, ки ҳамаи кунҷҳои он рост, вале тарафҳои он баробар нестанд.
- B) Чоркунҷае, ки ду тарафаш параллел ва ду тарафаш нопараллел аст.
- C) Росткунҷае, ки ҳамаи тарафҳои он баробар аст.
- D) Параллелограмме, ки ҳамаи тарафҳои он баробар, вале кунҷҳои он рост нестанд.


1)



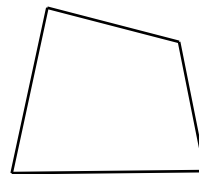
2)




3)



4)



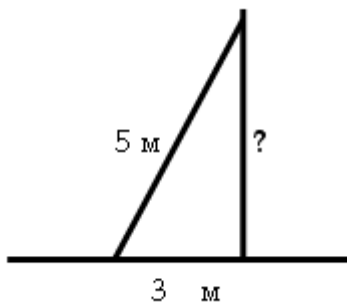
5)



Ҷавоб:

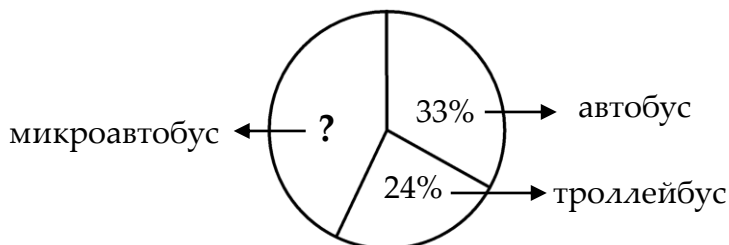
	1	2	3	4	5
A					
B					
C					
D					

23. Нардбони дарозияш 5 м ба девор ҳамин хел таъя кунонида шудааст, ки масофа аз нуғи поёнии он то девор ба 3 м баробар аст. Нуғи болоии нардбон аз замин дар кадом масофа воқеъ аст?



Ҷавоб:

24. Дар диаграмма аз кадом намуди нақлиёт бештар истифода намудани аҳоли нишон дода шудааст.



Аз диаграмма истифода бурда, муайян кунед, ки чанд фоизи аҳоли аз микроавтобус истифода мебарад.

Ҷавоб:

%

25. Қимати функсияи $f(x) = -\frac{1}{x}$ -ро дар нуқтаи $x = -0,5$ ёбед.

Ҷавоб:

26. Муодиларо ҳал кунед: $3x + 2 = 7x - 6$

Ҷавоб:

27. Ҳисоб кунед: $\frac{\sqrt{512}}{\sqrt{2}}$

Ҷавоб:

СУБТЕСТИ ТАЪРИХИ ХАЛҚИ ТОҶИК ВА АСОСҲОИ ДАВЛАТ ВА ҲУҚУҚ

Варинати 1

1. Ин суҳанон моҳияти кадом давраи таърихиро ифода менамоянд?


«Ба аҳли Бухоро фармуд, то як ними хонаҳо ва молу замини худро ба онҳо бидиҳанд, то ки ба онҳо рӯзаю намоз ёд бидиҳанд...».

- А) торочғариҳои ҳайтолиён
- В) забтқориҳои юнонию мақдуниҳо
- С) истилои арабҳо
- Д) лашкаркашии муғулҳо

2. Дар Ҳузистони Эрони аҳди Сосониён бо номи Гунди Шопур кадом маркази муҳим кушода шуда буд?

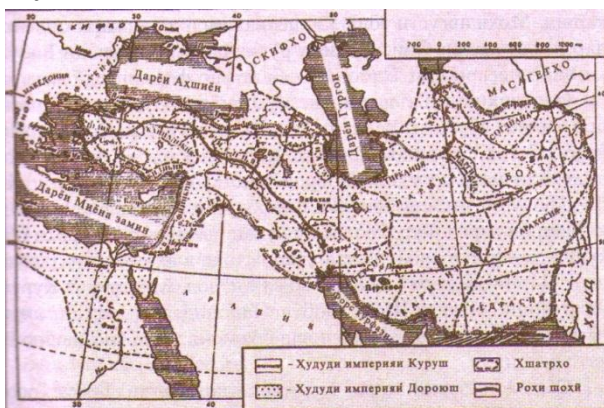
- А) маркази бузурги тиҷоратӣ
- В) маркази истеҳсолоти косибӣ
- С) маркази таълимию илмӣ
- Д) маркази табобати беморон

3. Дар ин акс мақбараи кадом шахсияти бузурги ниёғони халқи тоҷик тасвир ёфтааст?



- А) Спитамен
- В) Исмоили Сомонӣ
- С) Муқаннаъ
- Д) Ардашери Бобакон

4. Дар қисмати поёни харита “Ҳудудҳои империяҳои Куруш” ва “Ҳудудҳои империяи Дориюш” гуфта, қаламрави кадом империя дар назар дошта шудааст?



- А) Империяи Рими Ғарбӣ
- В) Империяи Византия
- С) Империяи Ҳахоманишиён
- Д) Империяи Сосониён

5. Иқтибоси зеринро хонда, муайян намоед, ки дар он суҳан дар бораи чӣ меравад?

«... Он ҷо ҳам монанди дӯзах воҳиманокӯ даҳшатангез буд. Оҳу фиғон аз ҳар гӯшаву канори арк ба гӯш мерасид, зеро ин мустабид (...) фармуда буд, ки ҳамаи занон ва кӯдаконро асир кунанд ва боқимондагон хоҳ диндору хоҳ бединро аз болои арк партоянд...».

- А) забтқориҳои арабҳо
- В) ваҳшонияти Темур
- С) ғоратғариҳои юнониҳо
- Д) куштори муғулҳо

6. Чаро дар ин харитаи солҳои 1924-1928-и ИҶШС номи ҶШС Тоҷикистон баён нагардидааст?



- А) Тоҷикистон ба ҳайати ҶШС Туркманистон дохил мешуд
 В) ҶШС Тоҷикистон фаромӯш шудааст
 С) ҶШС Тоҷикистон таъсис наёфта буд
 Д) Ҳанӯз тақсимои милли-марзӣ гузаронида нашуда буд

7. Лашкаркашии Русия баҳри ба даст овардани Осиёи Марказӣ ба кадом давраи таърихӣ рост омадааст?

- А) ба ибтидои асри XX
 В) ба нимаи аввали асри XIX
 С) ба нимаи дуюми асри XIX
 Д) ба солҳои 30-юми асри XIX

8. Дар ҳаракати ҷадидон кадом ҷараён хилофи ормонҳои халқи тоҷик буд?

- А) ҷараёни маорифпарварӣ
 В) ҷараёни озодихоҳӣ
 С) ҷараёни демократӣ
 Д) ҷараёни туркпарастӣ

9. Отряди экспедитсионии ҳарбии Ҳисор бо кадом мақсад ташкил карда шуда буд?

- А) барои барҳам додани Ҳокимияти Шӯравӣ дар Бухорои Шарқӣ
 В) барои барпо намудани Ҳокимияти Шӯравӣ дар Бухорои Шарқӣ
 С) барои паҳш намудани музаффариятҳои инқилоб
 Д) барои муваффақшавӣ ба истиқлолияти Ҳисор

10. Соли 1929 кадоме аз ин театрҳои касбии Тоҷикистон аввалин шуда ба фаъолият шурӯъ намудааст?

- А) Театри академии опера ва балети ба номи С. Айни
 В) Театри драмавии русии ба номи В. Маяковский
 С) Театри ҷавони Тоҷикистон ба номи М. Воҳидов
 Д) Театри академии драмавии ба номи А. Лоҳутӣ

11. Дар арафаи ҳучуми кӯшунҳои Русия дар Осиёи Марказӣ кадом давлатҳо вучуд доштанд?

- А) Аморати Бухоро, хонигари Кӯқанд ва хонигарии Хева
 В) Шоҳигарии Бадахшон, бекигарии Ҳисор ва Кӯлоб
 С) Бекигарии Қаротегин, Мастчоҳ ва хонигарии Шаҳрисабз
 Д) Хонии Кӯлоб, вилояти Ўротеппа, Мирии Балҷувон

12. Дар ин расм кадом шахсияти сиёсии Тоҷикистони солҳои 20-ум ва 30-юми асри XX инъикос гардидааст?

- А) Аббос Алиев
- В) Абдуқодир Муҳиддинов
- С) Чинор Имомов
- Д) Нусратулло Махсум



13. Дар солҳои 30-юми асри XX дар Тоҷикистон аввалин нерӯгоҳи барқи обӣ (НБО-ГЭС) ба истифода дода шуд. Ин НБО (ГЭС) дар кадом дарё сохта шуда буд?

- А) Вахш
- В) Варзоб
- С) Зарафшон
- Д) Панҷ

14. Плакати зерин ба кадом давраи таърихӣ дахл дорад?

- А) мубориза бар зидди босмачиён
- В) тайёри ба инқилоби Октябр
- С) Ҷанги шаҳрвандӣ дар Тоҷикистон
- Д) Ҷанги Бузурги Ватанӣ



15. Мушкилии асосии саноатикунониҳои ҶМШС Тоҷикистон дар солҳои 20-уми асри XX дар чӣ ифода ёфта буд?

- А) ин корро қариб аз сифр оғоз намудан лозим меомад
- В) набудани ашёи хом
- С) шароити иқлимии ҶМШС Тоҷикистон барои рушди саноат мусоид набуд
- Д) ҶМШС Тоҷикистон дар гузашта саноатӣ буд

16. Дар аҳди Темуриён кадом шаҳрҳо марказҳои муҳимтарини маъмурию фарҳангии ин давлат буданд?

- А) Бухоро ва Хуҷанд
- В) Самарқанд ва Ҳирот
- С) Балх ва Марв
- Д) Кобул ва Нишопур

17. Асосҳои сохтори конституционии Ҷумҳурии Тоҷикистон дар кадом санад муқаррар карда шудааст?

- А) Эълонияи истиқлолияти Ҷумҳурии Тоҷикистон ва қонунҳои конституционӣ
- В) Қонуни Ҷумҳурии Тоҷикистон “Дар хусуси даровардани тағйироту иловаҳо ба Конституция”
- С) Изҳороти Шӯрои Олӣ “Дар бораи истиқлолияти давлатии Ҷумҳурии Тоҷикистон”
- Д) Конституцияи (Сарқонуни) Ҷумҳурии Тоҷикистон

18. Қобилияти амалкунии шаҳрванде, ки то синни 18-солагӣ ба никоҳ даромадааст, чӣ гуна аст?

- А) қисман маҳдуд
- В) қисман нопурра
- С) пурра
- Д) ғайриқобили амал

19. Ҳукумати Ҷумҳурии Тоҷикистон ба кадом шоҳаи ҳокимият тааллуқ дорад?

- A) Қонунгузорӣ
B) Суд
C) Иҷроия
D) Намояндагӣ ва судӣ

20. Синни ба ҷавобгарии ҷиноятӣ кашидани шахсро муайян намоед.

- A) 15-солагӣ
B) 13-солагӣ
C) 16-солагӣ ва 14-солагӣ
D) 18-солагӣ ва 17-солагӣ

21. Ваколатҳои Президент кай қатъ мегарданд?

- A) баъд аз интишори натиҷаи овоздиҳӣ
B) баъд аз таъини интихоботи Президент
C) баъд аз савганд ёд кардани Президенти навинтихобшуда
D) баъд аз баҳисобгирии овозҳои интихобкунандагон

22. Ҳуқуқ ба ҳифзи судӣ ба кадом гурӯҳи ҳуқуқу озодиҳо дохил мешавад?

- A) ҳуқуқ ва озодиҳои шахсӣ
B) ҳуқуқ ва озодиҳои сиёсӣ
C) ҳуқуқ ва озодиҳои иҷтимоӣ
D) ҳуқуқ ва озодиҳои муҳофизатӣ

23. Никоҳ дар кадом мақомоти давлатӣ ба қайд гирифта мешавад?

- A) мақомоти САҲШ
B) суди ноҳиявӣ
C) мақомоти прокуратура
D) идораи нотариалӣ

24. Кадоме аз ин мақомот назорати умумии риояи ҳуқуқ ва озодии инсонро дар Тоҷикистон ба амал мебарорад?

- A) Ваколатдор оид ба ҳуқуқи инсон
B) Кумита оид ба ҳуқуқи инсонии СММ
C) прокуратура
D) адвокатура

25. Барои санаҳои сутуни якум ҷавобҳои мувофиқро аз сутуни дуюм муайян намоед.

- A) солҳои 661-750
B) солҳои 776-783
C) солҳои 874-999
D) солҳои 999-1186
- 1) Давлати Сосониён
2) Хилофати Уммавиён
3) Давлати Ғазнавиён
4) Давлати Сомониён
5) Шӯриши Муқаннаъ

	1	2	3	4	5
A					
B					
C					
D					

Ҷавоб:

26. Муайян намоед, ки воқеаҳои таърихии сутуни якум ба кадом санаҳо (сутуни дуюм) рост меояд.

- A) ҳамлаи лашкари Нодиршоҳи Афшор ба Бухоро
B) оғоз ёфтани давраи ҳукмронии сулолаи Ҷониён
C) ба сари қудрат омадани сулолаи Шайбониён
D) дар Бухоро ба сари қудрат омадани сулолаи Манғития
- 1) соли 1753
2) соли 1501
3) соли 1740
4) соли 1598
5) соли 1785

	1	2	3	4	5
A					
B					
C					
D					

Ҷавоб:

27. Вобаста ба ҳар як санаи сутуни яқум воқеаи таърихии мувофиқро аз сутуни дуюм интихоб намоед.

- | | |
|--------------|---|
| A) соли 1868 | 1) омада расидани қўшуни
Россия ба баҳри Арал |
| B) соли 1847 | 2) муҳорибаи Зирабулоқ |
| C) соли 1785 | 3) ташкил ёфтани империяи
Темуриёни Ҳинд |
| D) соли 1526 | 4) ба Аморати Бухоро
табдилёбии хонигарии Бухоро |
| | 5) Шӯриши Маҳмуди Торобӣ |

Ҷавоб:

	1	2	3	4	5
A					
B					
C					
D					

28. Алоқамандии номҳо ва мафҳумҳои ҳарду сутунро муайян кунед.

- | | |
|----------------------|-------------------------------|
| A) Абӯрайҳони Берунӣ | 1) қаҳрамони халқи тоҷик |
| B) Абулфазли Балъамӣ | 2) пайравони Муқаннаъ |
| C) Темурмалик | 3) олими забардаст |
| D) Насрулло | 4) вазири машҳури
Сомониён |
| | 5) амири қасоб |

Ҷавоб:

	1	2	3	4	5
A					
B					
C					
D					

29. Барои ҳар як мафҳуми сутуни яқум соҳаи ҳуқуқи мувофиқро аз сутуни дуюм интихоб намоед.

- | | |
|------------------------|-------------------|
| A) ҷазои маъмури | 1) ҳуқуқи суғурта |
| B) васоят ва парасторӣ | 2) ҳуқуқи андоз |
| C) изофакорӣ | 3) ҳуқуқи оилавӣ |
| D) боҷ ва хироч | 4) ҳуқуқи маъмури |
| | 5) ҳуқуқи меҳнатӣ |

Ҷавоб:

	1	2	3	4	5
A					
B					
C					
D					

30. Ҷавобҳои мувофиқро аз сутуни чап барои ҳар як мафҳуми ҳуқуқии сутуни рост муайян намоед.

- | | |
|---------------------------|---|
| A) таҷзияи ҳокимият | 1) яке аз шартҳои бастанӣ
ақди никоҳ |
| B) гунаҳкорӣ | 2) аломати давлати
ҳуқуқбунёд |
| C) мустақилияти модумулкӣ | 3) аломати давлат |
| D) розигии тарафайн | 4) аломати шахси ҳуқуқӣ |
| | 5) аломати ҷиноят |

Ҷавоб:

	1	2	3	4	5
A					
B					
C					
D					

СУБТЕСТИ ТАЪРИХИ ХАЛҚИ ТОҶИК ВА АСОСҲОИ ДАВЛАТ ВА ҲУҚУҚ

Варианти 2

1. Истилогарони Юнону Мақдунӣ аз ҳама бештар дар кадом минтақаи давлати Ҳахоманишиён ба муқобилият дучор гардиданд?

- A) Осиёи Хурд B) Миср C) Сурия D) Осиёи Миёна

2. Асосгузори сулолаи Сомониён кӣ буд?

- A) Куруш B) Сомонхудот C) Амр ибни Лайс D) Шайбониҳон

3. Солҳои мавҷудияти давлати Сосониёнро муайян намоед.

- A) солҳои 224-651 B) солҳои 821-873 C) солҳои 892-907 D) солҳои 873-903

4. Муаллифи “Таърихи Бухоро”-ро муайян намоед.

- A) Абӯбақри Наршаҳӣ C) Абулқосими Фирдавсӣ
B) Муҳаммади Табарӣ D) Бобочон Ғафуров

5. Сарвари шӯриши халқии сарбадорон дар Самарқанд кӣ буд?

- A) Қаландар B) Мавлонозода C) Рофеъ ибни Лайс D) Спитамен

6. Дар ин иқтибос аз китоби дарсӣ суҳан дар бораи кадом амири сулолаи Манғитиён меравад?

“...Ӯ аз унвони хонӣ даст кашида, худро амир эълон намуд. Ин чунин маъно дошт, ки вай ҳокими танҳо як пораи давлати мусулмонӣ, яъне хонигарии Бухоро мебошад. Аз ин давра сар карда, хонигарии Бухоро ба худ номи “Аморати Бухоро”-ро гирифт”.

- A) Абулфайзхон B) Шоҳмурод C) Муҳаммадҳақимбӣ D) Муҳаммадраҳимбӣ

7. Қарордод дар байни Русия ва аморати Бухоро дар Зирабулоқ кадом сол ба имзо расида буд?

- A) соли 1852 B) соли 1864 C) соли 1868 D) соли 1875

8. Дар мусаввараи рассом С. Пирумшоев кадом мубориз баҳри адолат тасвир ёфтааст?

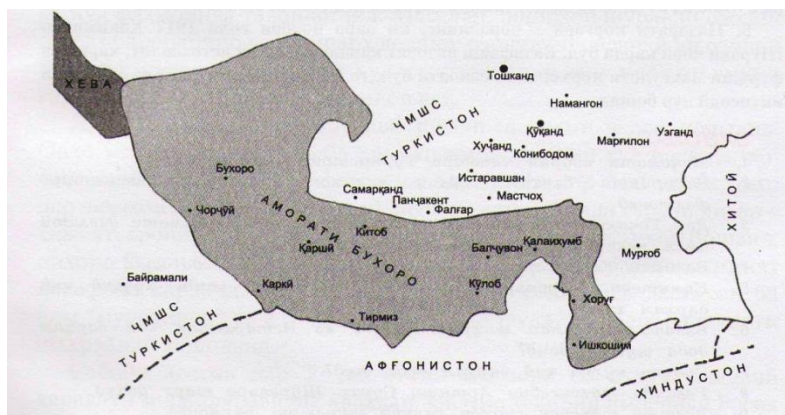


- A) Восеъ
B) Мавлонозода
C) Маҳмуди Торобӣ
D) Эшони Дукчӣ

9. Кадом маорифпарвари тоҷик муаллифи асари машҳури “Наводир-ул-вақоъ” аст?

- A) Абдулқодири Савдо C) Садри Зиё
B) Аҳмади Дониш D) Садриддин Айни

10. Вилоятҳои Генерал-губернатории Туркистонро муайян намоед.
 А) Қўқанд, Хева, Чимкент, Бухоро, Бойсун, Хоразм
 В) Сирдарё, Ҳафтруд, Закаспий, Самарқанд, Фарғона
 С) Ўротеппа, Помир, Каспий, Сурхондарё, Хатлон
 Д) Ҳисор, Қўрғонтеппа, Марв, Суғд, Тирмиз
11. ҶШС Тоҷикистон кай таъсис ёфтааст?
 А) 30 декабри 1922 В) 14 октябри 1924 С) 16 октябри 1929 Д) 5 декабри 1936
12. Бобоҷон Ғафуров кадом солҳо вазифаи Котиби якуми Кумитаи марказии ҳизби коммунисти ҶШС Тоҷикистонро бар дӯш дошт?
 А) 1957-1977 В) 1961-1981 С) 1946-1956 Д) 1939-1946
13. Артиши миллии Тоҷикистон кай ташкил шуд?
 В) 6 ноябри соли 1994 С) 23 феввали соли 1993
 А) 9 сентябри соли 1991 Д) 23 феввали соли 1999
14. Муаллифи матни Суруди миллии Ҷумҳурии Тоҷикистон кист?
 А) А. Лоҳутӣ С) С. Ҷавҳаризода
 В) Г. Келдӣ Д) М. Аминзода
15. Конститутсияи амалкунандаи Тоҷикистон кай қабул карда шудааст?
 А) 9 сентябри соли 1990 С) 5 октябри соли 1977
 В) 6 ноябри соли 1994 Д) 6 ноябри соли 2003
16. Харитаи зерин кадом марҳалаи таърихии Аморати Бухороро инъикос намудааст?



17. Шакли зоҳирии ифодаёбӣ ва мустаҳкамкунии меъёрҳои ҳуқуқро чӣ меноманд?
 А) сарчашмаҳои ҳуқуқ С) функцияҳои ҳуқуқ
 В) ҳуқуқи маъмурий Д) сарчашмаҳои ҳуқуқи меҳнатӣ
18. Номзад ба Президенти Ҷумҳурии Тоҷикистон бояд кадом забонро донад?
 А) забони модарӣ С) забони англисӣ
 В) забони русӣ Д) забони давлатӣ

19. Оё ҷавобгарии маъмури боиси доғи судӣ мегардад?

- A) мегардад
- B) намегардад
- C) тибқи қонун дар баъзе мавридҳо
- D) мақомоти татбиқкунандаи ҷазои маъмури хулоса мебарорад

20. Мафҳуми шахси ҷисмонӣ (воқеӣ)-ро муайян намоед.

- A) шахрванди ҶТ, шахрвандони хориҷӣ, шахсони бетабаа, шахсоне, ки шахрвандӣ доранд ва ҳоказо
- B) шахсоне, ки қобилияти пурраи амалкунӣ доранд
- C) тамоми касоне, ки дар ҳудуди давлат мебошанд, шахсони бетабаа
- D) шахрванди ҶТ, шахрвандони хориҷӣ, шахсони бешаҳрванд

21. Синни никоҳӣ барои занон ва мардон аз чандсолагии муқаррар карда шудааст?

- A) 16-солагии
- B) 20-солагии
- C) 15-солагии
- D) 18-солагии

22. Таърифи мафҳуми ҷазоро муайян намоед.

- A) ҷазо чораи маҷбурунии давлатие мебошад, ки бо қарори суд таъйин карда мешавад
- B) ҷазо чораи маҷбурунии давлатие мебошад, ки бо ҳалномаи суд таъйин карда мешавад
- C) ҷазо чораи маҷбурунии давлатие мебошад, ки бо ҳукми суд таъйин карда мешавад
- D) ҷазо чораи маҷбурунии давлатие мебошад, ки бо қарори муфаттиш ва суд таъйин карда мешавад

23. Мазмуни шартномаи граҷданӣ-ҳуқуқиро чӣ ташкил медиҳад?

- A) ҳуқуқи уҳдадорихои тарафҳои шартнома
- B) ризоияти тарафҳои шартнома
- C) маҷмуи ҳама шартҳои шартнома
- D) амали тарафҳо, ки ба иҷрои он равона шудааст

24. Дар кадом ҳолат муносибатҳои молу мулкӣ ҳамсарон қатъ мегардад?

- A) ҷудо зиндагонӣ кардан
- B) ҷавоб додани зан аз тарафи мард
- C) ҷавоб додани мард аз тарафи зан
- D) бекор кардани ақди никоҳ

25. Мутобиқати байни шӯришҳо ва таърихи саршавии онҳоро муайян намоед.

- A) Спитамен 1) соли 776
- B) Муқаннаъ 2) соли 1206
- C) Сарбадорон 3) соли 1365
- D) Фрада 4) соли 329 п.а.м.
- 5) соли 522 п.а.м.

Ҷавоб:

	1	2	3	4	5
A					
B					
C					
D					

26. Мувофиқати байни мафҳумҳои сутуни тарафи чап ва ҷавобҳои сутуни ростро муайян намоед.

- | | |
|------------|----------------|
| A) Сулола | 1) Яздигурд |
| B) Сосонӣ | 2) Шайбониҳон |
| C) Мубориз | 3) Бобур Мирзо |
| D) Темури | 4) Спитамен |
| | 5) Тоҳириён |

Ҷавоб:

	1	2	3	4	5
A					
B					
C					
D					

27. Мувофиқати байни шахсиятҳои таърихӣ ва мафҳумҳоро муайян намоед.

- | | |
|----------------------|--------------------------------------|
| A) Абдулаҳадхон | 1) Қаҳрамони Иттиҳоди Шӯравӣ |
| B) Нусратулло Махсум | 2) Амири Бухоро |
| C) Иброҳимбек | 3) Роҳбари шӯриши зидди манғитҳо |
| D) Ҳодӣ Кенҷаев | 4) Аввалин Раиси КИМ ҶМШС Тоҷикистон |
| | 5) Роҳбари ҳаракати зиддишӯравӣ |

Ҷавоб:

	1	2	3	4	5
A					
B					
C					
D					

28. Мафҳумҳои сутуни тарафи чапро бо ҷавобҳои сутуни рост мувофиқ кунед:

- | | |
|---------------------|---------------------|
| A) Вазир | 1) Эмомалӣ Раҳмон |
| B) Президент | 2) Абубакри Наршаҳӣ |
| C) Маҳмуди Торобӣ | 3) Олимхон |
| D) "Таърихи Бухоро" | 4) Низомулмулк |
| | 5) Шӯриши соли 1238 |

Ҷавоб:

	1	2	3	4	5
A					
B					
C					
D					

29. Барои ҳар яке аз мафҳумҳои сутуни якум соҳаи ҳуқуқи мувофиқро аз сутуни дуюм интихоб намоед.

- | | |
|------------------------|--------------------|
| A) иҷрои ҷазо | 1) ҳуқуқи |
| B) ҷавобгарии интизомӣ | конститутсионӣ |
| C) ҳифзи табиат | 2) ҳуқуқи экологӣ |
| D) низоми интиҳоботӣ | 3) ҳуқуқи граждани |
| | 4) ҳуқуқи ҷиноятӣ |
| | 5) ҳуқуқи меҳнатӣ |

Ҷавоб:

	1	2	3	4	5
A					
B					
C					
D					

30. Мувофиқан дар кадом моддаи Конститутсия оид ба ҳуқуқи озодиҳои инсон (сутуни якум) суҳан рафтааст, муайян намоед.

- | | |
|------------------------|------------------|
| A) ҳуқуқ ба таҳсил | 1) дар моддаи 18 |
| B) ҳуқуқ ба зиндагӣ | 2) дар моддаи 41 |
| C) ҳуқуқ ба истироҳат | 3) дар моддаи 19 |
| D) ҳуқуқ ба ҳифзи судӣ | 4) дар моддаи 37 |
| | 5) дар моддаи 58 |

Ҷавоб:

	1	2	3	4	5
A					
B					
C					
D					

ДАСТУРИ ИЧРОИ ТЕСТ (КОМПОНЕНТИ Б)

(Кластери 1)

Ин саволнома аз се бахш (субтест) иборат аст: математика, физика ва химия.

Барои ҷавоб додан ба саволҳо ва ҳалли масъалаҳои тест 135 дақиқа ҷудо шудааст.

Субтести «Математика» 27 саволу масъаларо дар бар мегирад ва се навъ аст.

Субтести «Физика» 22 саволу масъаларо дар бар мегирад ва се навъ аст.

Субтести «Химия» 25 саволу масъаларо дар бар мегирад ва се навъ аст.

Навъи якум – саволҳо бо интихоби як ҷавоби дуруст. Барои ҳар саволу масъала чор варианти ҷавоб дода мешавад, ки танҳо **яктоаш дуруст** аст. Ҷавоби дуруст интихоб ва дар варақаи ҷавобҳо ишора мешавад.

Масалан, агар Шумо варианти «В»-ро ҳамчун ҷавоби дурусти савол интихоб намоед, пас дар варақаи ҷавобҳо ин тарз ишора намоед:

	A	B	C	D
		X		

Навъи дуюм саволу масъалаҳо муайян кардани мувофиқат аст. Дар чунин навъ барои ҳар як масъала ба калимаҳо ва ҷумлаҳо (ва формулаҳо, функцияҳо), ки дар сутуни якум дода шудааст, аз сутуни дуюм ҷавоби мувофиқ ва дуруст интихоб карда мешавад.

Масалан, агар, ба фикри Шумо, ба варианти А ҷавоби мувофиқ рақами 2, ба варианти В рақами 4, ба варианти С рақами 1, ба варианти D рақами 5 бошад, дар варақаи ҷавобҳо ин тарз нишона гузорд:

	1	2	3	4	5
A		X			
B				X	
C	X				
D					X

Навъи сеюм саволу масъалаҳои кушода бо ҷавоби кӯтоҳ аст. Ҷавоби ҳар як саволи ин навъ бо адади бутун дар катакҳои махсуси варақаи ҷавобҳо навишта мешавад. Агар ҷавоб адади манфӣ (-2) бошад, ҳар аломат дар катаки алоҳида навишта мешавад, агар касри даҳӣ (25,3) бошад, онро то адади бутун яклухт кардан лозим аст.

Масалан, агар Шумо адади 25,3-ро ҷавоби дурусти масъала ҳисоб кунед, онро дар варақаи ҷавобҳо ба ин тарз нависед:

			2	5
--	--	--	---	---

ТАРТИБИ ПУР КАРДАНИ ВАРАҚАИ ҶАВОБҲО

- пеш аз ҷавоб додан ба саволҳо ва ҳалли масъалаҳои тест дар варақаи ҷавобҳо рақами варианти тести худро ишора намоед;
- дар варақаи ҷавобҳо танҳо як ҷавоби дурустро, ба фикри худатон, ишора намоед/нависед;
- ҷавобҳоро дуруст ва аз рӯи дастури иҷроии тест вобаста ба пурсиши ҳар саволу масъала ишора кунед/нависед;
- ҷавобҳои нодуруст ишорашуда ва хатзадашуда ва ё катакҳои пурнашуда ба ҳисоб гирифта намешаванд;
- агар Шумо ҷавоби ишоракардаатонро иваз кардан хоҳед, метавонед онро аз рӯи нишондоди варақаи ҷавобҳо ислоҳ намоед, ба ғайр аз саволҳои кушода, ки ислоҳи онҳо иҷозат дода намешавад;
- баъд аз иҷроии тест дар пушти варақаи ҷавобҳо ҷумлаи «Бо тартиби гузаронидани имтиҳон розӣ ҳастам»-ро навишта имзо гузоред.

Ба Шумо комёбӣ мехоҷем!

8. **Чумлаҳои “Ҳангоми қиём” ва “Сафедори баланди лаби ҷӯй сояи худро гум карда буд” чӣ пайванди маъноӣ доранд?**
- А) Ҳар ду чумла тасвири ними рӯз аст
 Б) Ҳар ду чумла тасвири ними шаб аст
 С) Чумлаи якум тасвири пагоҳӣ ва чумлаи дуюм тасвири бегоҳӣ аст
 Д) Чумлаи якум бемаъноӣ ва чумлаи дуюм тасвири баландии сафедор аст
9. **Кадом хели адабиёт пештар пайдо шудааст?**
- А) адабиёти илмӣ
 Б) адабиёти бадеӣ
 С) адабиёти шифоҳӣ
 Д) адабиёти илмӣ-оммавӣ
10. **Дар байти зерини Шамсиддини Шохин кадом санъати бадеӣ истифода шудааст?**
- Ай, лабат гул, орадат мул, турраат сунбул барин,
 Ғабгабат дар чарбу нармӣ тухми нимдунбул барин.*
- А) ташбеҳ
 Б) маҷоз
 С) истиора
 Д) киноя
11. **Мувофиқи таълимоти Зардушт (бар асоси “Тоҳон”) Аҳура Маздо кист?**
- А) нахустин шоҳи силсилаи Пешдодиён, ки додгар буд
 Б) фариштаи обҳои раво ва заминҳои қорам, ёвари кишоварзон
 С) ду менуи ҳамзод ва оғозини офариниш, ки бо ҳам созиш надоранд
 Д) офаридгори ягона ва роҳнамои офаридагон ба растагорӣ ва беҳрӯзӣ
12. **Ибни Сино дар кадом рубоӣ ба бемаъноӣ нотавонбинии ҳарифонаш ишорат кардааст?**
- А) «Аз қаъри гили сияҳ то авҷи Зухал...»
 Б) «Бо душмани ман чу дӯст бисёр нишаст...»
 С) «Май душмани масту дӯст бо хушёр аст...»
 Д) «Бо ин ду-се нодон, ки чунин медонанд...»
13. **Кадом асари Саъдии Шерозӣ бо байти зерин оғоз мешавад?**
- Дар ақсои олам бигаштам басте,
 Ба сар бурдам айём бо ҳар касе...*
- А) “Тулистон”
 Б) “Бӯстон”
 С) ғазалиёти “Тайибот”
 Д) ғазалиёти “Бадоеъ”
14. **Бадриддини Ҳилолӣ дар як ғазалаш мегӯяд: “Кори ман аз чумлаи олам ҳамин ишқ аст ба ман...”. Кадом шарҳ ба ин сухани шоир мувофиқ аст?**
- А) шоир достоне дар ишқ гуфтааст, ки то ҳол касе нагуфтааст
 Б) шоир ғазале дар ишқ гуфтааст, “ки Хусрав офарин карду Низомӣ”
 С) шоир ҳамеша аз ишқу муҳаббат сухан мегӯяд, мавзӯи эҷодиёташ ишқ аст
 Д) кори ҳаррӯзаи шоир ситоиши майи ноб ва хушгузаронии умр аст

15. Дар робита бо се иборати (маромномаи) Зардушт «Пиндори нек, гуфтори нек ва рафтори нек» кадоме аз шарҳҳои зерин дуруст аст?

- А) забон бо ҷомеа алоқаи ногузастанӣ дорад
 В) забон ба ҳамаи табақаҳои ҷомеа баробар хизмат мекунад
 С) забон ҷудо аз тафаккур ва амал қарор дорад
 Д) забон бо тафаккур ва амал робитаи зич дорад

16. Маъноии таъбирҳои сутуни якумро аз сутуни дуюм нишон диҳед.

- | | |
|------------------------------|--------------------------------|
| А) бар осмон бӯса задан | 1) кори номумкинро иҷро кардан |
| В) бар осмон тахт задан | 2) қад барафрохтан |
| С) тоқиро ба осмон партофтан | 3) кореро ошкор кардан |
| Д) осмонро бар замин овардан | 4) хушхӯли кардан |
| | 5) соҳиби мақоми баланд шудан |

Ҷавоб:

	1	2	3	4	5
A					
B					
C					
D					

17. Пайванди маъноии калимаҳои сутуни якум ва ибораҳои сутуни дуюмро нишон диҳед.

- | | |
|------------|--------------------|
| А) қиём | 1) гулҳои саҳро |
| В) худрӯй | 2) оби ҷӯй |
| С) зулол | 3) қадди баланд |
| Д) сафедор | 4) офтоби тобистон |
| | 5) шохи пурмева |

Ҷавоб:

	1	2	3	4	5
A					
B					
C					
D					

18. Муайян намоед, ки падидаҳо (ҳодисаҳо)-и дар асрҳои XV-XVI ба вуқӯъомада (сутуни якум) боиси кадом пайомадҳо (дар сутуни дуюм) гардиданд.

- | | |
|--|---|
| А) ҳамлаи Исмоили Сафавӣ ба Хуросон (соли 1512) | 1) кушта шудани шоирон Бадриддини Ҳилолӣ ва Камолиддини Биноӣ |
| В) сар задани низоъҳои мазҳабӣ дар Хуросону Мовароуннаҳр | 2) навишта шудани дostonҳои ирфонӣ |
| С) зиёд гардидани қувваҳои эҷодӣ, рушди тазкиранависӣ | 3) парокандагии қувваҳои илмию адабӣ, рӯ овардани онҳо ба Мовароуннаҳр |
| Д) рушди таърихнигорӣ, ба майдон омадани таърихнависон | 4) навишта шудани “Равзат-ус-сафо”-и Мирхонд ва “Ҳабиб-ус-сияр”-и Хондамир |
| | 5) навишта шудани “Нусхаи зебои Ҷаҳонгир”-и Мутрибии Самарқандӣ ва “Тухфаи Сомӣ”-и Соммирзои Сафавӣ |

Ҷавоб:

	1	2	3	4	5
A					
B					
C					
D					

19. Муайян кунед, ки ин таъкидҳо ва тасвирҳо (дар сутуни якум) дар кадом бахши эҷодиёти Устод Рӯдакӣ омадаанд.

- | | |
|---|---------------------------------|
| A) “Шод зӣ бо сиёҳчашмон, шод...” | 1) дар ғазалҳои содаву равон |
| B) “Қоҳ набуд ӯ, ки ба боде парид...” | 2) дар қасидаи “Шикоят аз пирӣ” |
| C) “Меҳи озодагону мафҳари Эрон...” | 3) дар қасидаи “Модари май” |
| D) “Шуд он замона, ки... мӯяш ба сони қатрон буд” | 4) дар маснави “Даврони офтоб” |
| | 5) дар марсия ба марги Муродӣ |

	1	2	3	4	5
A					
B					
C					
D					

Ҷавоб:

20. Муайян намоед, ки Фирдавсӣ паёмҳои зеринро (дар сутуни якум) дар кадом бахши «Шоҳнома» овардааст.

- | | |
|---|--|
| A) Некию бадӣ пайдор нест, вале беҳтар он аст, ки некӣ ёдгор бошад | 1) “Таърихи анҷоми “Шоҳнома”” |
| B) Поёни ҳама гуна хусумату душманӣ ҷанг, нохушӣ ва фӯҷиа аст | 2) “Достони Заҳҳок ва Коваи оҳангар” |
| C) Қоҳталабӣ ва ҷангхоҳӣ оқибат марг ба бор меоварад | 3) “Достони Сиёвуш” |
| D) Намирам аз ин пас, ки ман зиндаам, Ки тухми суханро парокандаам. | 4) “Достони Сӯҳроб” |
| | 5) “Достони разми Исфандиёр бо Рустам” |

	1	2	3	4	5
A					
B					
C					
D					

Ҷавоб:

5. Дар ин акс, ки ба амали рассом П.Д.Воронкин тааллуқ дорад, кадом шаҳри бостонию Осиёи Марказӣ инъикос гардидааст?

- A) Марв
- B) Самарқанд
- C) Бухоро
- D) Хучанд



6. Аз мазмуни матн муайян намоед, ки дар он кадом миллати сокини шаҳри Бухоро дар назар дошта шудааст:

“Дар пойтахти аморат – шаҳри Бухоро, бештар аз сеяки тамоми аҳолии шаҳрншини аморат истиқомат мекард. Нуфуси асосии ин шаҳр...буданд. Мувофиқи ҳисоби соли 1820 онҳо ба миқдори аз чор се ҳиссаи теъдоди умумии аҳолии пойтахти аморатро ташкил мекарданд”.

- A) ўзбекҳо
- B) русҳо
- C) туркманҳо
- D) тоҷикон

7. “Соли 1017 ўро зўран ба назди Султон Маҳмуд бурданд. Новобаста ба ҳамаи ин нокомиҳо ў асарҳои машҳураш, ба монанди “Осор-ул-боқия”, “Китоби таҳдид...” ва ғайраро офарид.

Муайян кунед, ки сухан дар бораи кадом олими асри миёна меравад?

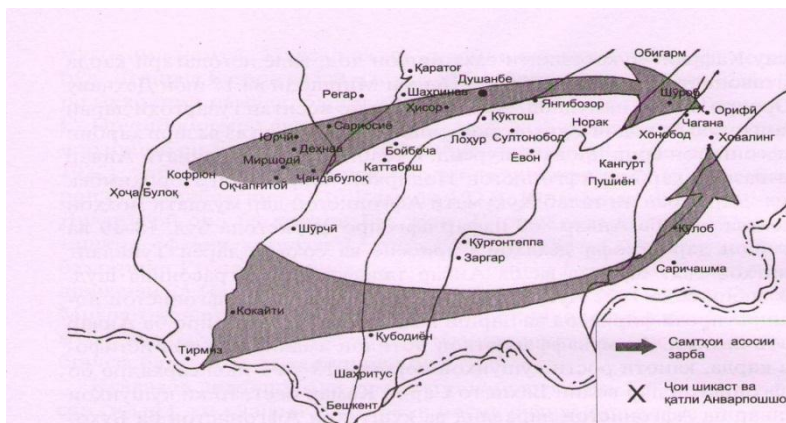
- A) Абӯбақри Розӣ
- B) Абӯалӣ ибни Сино
- C) Абӯрайҳони Берунӣ
- D) Умари Хайём

8. Баъди Осиёи Марказиро ишғол кардани Русия то охири асри XIX ба ин чо кадом намуди нақлиёт ворид гардид?

- A) қатора (поезд)
- B) корвони уштур
- C) автомобил
- D) ҳавопаймо (самолёт)

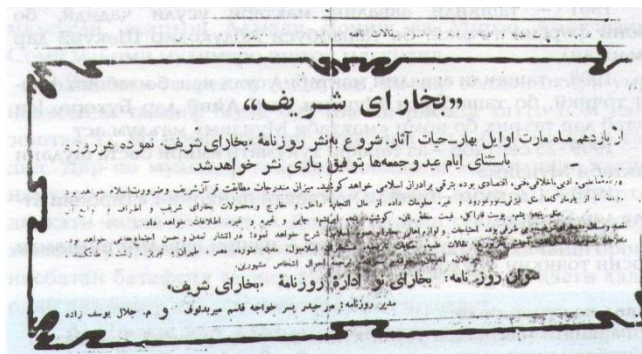
9. Ба харита нигариста ба ёд оред, ки лашкаркашии дастаҳои Артиши Сурх бар зидди Анварпошо ба кадом сол рост меояд?

- A) июни с. 1921
- B) июн-август с. 1922
- C) январ-март с. 1923
- D) март-июни с. 1924



10. Номи аввалин нашрияти даврии тоҷикиро, ки яке аз воҳидҳои чопии он дар ин ҷо инъикос ёфтааст, бо истифода аз матн муайян намоед.

- A) “Шафақ”
- B) “Бухорои Шариф”
- C) “Шуълаи инқилоб”
- D) “Иди тоҷик”



11. Дар соҳҳои 20-ум ва 30-юм Ҳокимияти Шӯравӣ барои савднок кардани мардуми калонсоли Тоҷикистон кадом тадбири оммавиरो амалӣ намуд?

- A) комиссариати маорифро ташкил намуд
- B) мактабҳои маҳви бесаводӣ кушод
- C) баҳри таҳсил мардумро аз кор озод кард
- D) номгӯи матбуоти давриво зиёд кард

12. Дар солҳои Ҷанги Бузурги Ватанӣ ҷанговарони беҳтарин ба кадом унвони олии ИҶШС сарфароз гардонда мешуданд?

- A) Генерал-полковник
- B) Генерал-майор
- C) Қаҳрамони Иттиҳоди Шӯравӣ
- D) Маршали Иттиҳоди Шӯравӣ

13. Ҷанги шахрвандӣ дар Тоҷикистон кадом солҳоро дар бар мегирад?

- A) 1917-1923
- B) 1918-1923
- C) 1919-1924
- D) 1920-1926

14. Баъди ба ҶМШС Тоҷикистон ҳамроҳ кардани кадом округи ҶШС Тоҷикистон таъсис дода шуд?

- A) округи Помир
- B) округи Хуҷанд
- C) округи Самарқанд
- D) округи Фарғона

15. Дар ҶШС Тоҷикистон аввалин шуда кадом мактаби олии (бо номи хозирашон) таъсис ёфтааст?

- A) Донишгоҳи давлатии омӯзгории Тоҷикистон ба номи С. Айни
- B) Донишгоҳи давлатии тиббии Тоҷикистон ба номи Абӯалӣ ибни Сино
- C) Донишгоҳи миллии Тоҷикистон
- D) Донишгоҳи техникии Тоҷикистон ба номи М. Осимӣ

16. Порчаи зеринро таҳлил карда, муайян намоед, ки дар он сухан дар бораи чӣ меравад?

“...Иттифоқчиён ният доштанд, ки артиши худро зуд ба маркази Аврупо расонанд. Вале баробари ба сарҳадҳои ғарбии Олмон расидан ба муқовимати пурзӯри артиши фашистӣ дучор шуданд. Артиши иттифоқчиён дар вазъияти ногувор монд. Черчилл ба Сталин барқия фиристода ёрӣ пурсид. Сталин ҳамон лаҳза дар бораи ҳамлаи густурдаи артиши дар ҷабҳаи шарқибуда фармон дод...”.

- A) муҳориба барои Курск
B) кушода шудани Фронти дююм
C) ишғол намудани Фаронса
D) шикасти Италия ва Ҷопон

17. Низоми ҷаҳонии сотсиализм дар кадом марҳалаи таърихӣ ба миён омадааст?

- A) баъди Ҷанги якуми ҷаҳонӣ
B) баъди бӯҳрони ҷаҳонӣ
C) баъди Ҷанги дююми ҷаҳонӣ
D) баъди фурӯпошии ИҶШС

18. Нерӯҳои ҳарбии шӯравӣ кадом сол ба Афғонистон дароварда шуданд?

- A) соли 1979
B) соли 1983
C) соли 1985
D) соли 1989

19. Кадоме аз ин шахсон барои инсоният ба Кайҳон роҳ кушод?

- A) Гагарин Ю.
B) Армстронг Л.
C) Попов Л.
D) Терешкова В.

20. Артиши Фаронсаро дар муҳорибаи Бородино, ки соли 1812 дар наздикии Маскав рух додааст, кадоме аз ин нафарон роҳбарӣ мекард?

- A) Кутузов
B) Наполеон Бонапарт
C) Адмирал Вилсон
D) Лудовики XVI

21. Мувофиқати мафҳумҳои сутуни якум ва сутуни дююмро муайян намоед.

- A) илме, ки ба омӯзиши қавму миллатҳо машғул аст
B) одамоне, ки аз тамоми ҳуқуқҳо маҳрум буданд
C) тамаддуни юнонӣ
D) илме, ки таърихро бар асоси ҳафриёт (ковишҳо) меомӯзад
- 1) эллинӣ
2) этнография (мардумшиносӣ)
3) бостоншиносӣ
4) ғуломон
5) адабиёт

Ҷавоб:

	1	2	3	4	5
A					
B					
C					
D					

22. Алоқамандии номҳо ва мафҳумҳои таърихии ҳарду сутунро муайян кунед.

- A) Спитамен
B) Мирзо Улуғбек
C) Исмоили Сафавӣ
D) Амир Шоҳмурод
- 1) Тасарруфи Ҳирот (асри XVI)
2) Шӯриш дар Суғд
3) Давлати Дуррониён
4) Расадхонаи Самарқанд
5) Аморати Бухоро

Ҷавоб:

	1	2	3	4	5
A					
B					
C					
D					

23. Барои санаҳои таърихӣ воқеаҳои таърихӣ мувофиқро интихоб намоед.

- | | |
|--------------|---|
| A) соли 1867 | 1) забти Тошканд аз тарафи кӯшуни Русия |
| B) соли 1865 | 2) таъсисёбии давлати Ҷониён |
| C) соли 1916 | 3) нашри шумораи якуми “Бухорои Шариф” |
| D) соли 1912 | 4) шӯриш дар Хучанд |
| | 5) ташкили Генерал-губернатории Туркистон |

Ҷавоб:

	1	2	3	4	5
A					
B					
C					
D					

24. Санаҳои барпо гардидани Ҳокимияти Шӯравиро дар ҳудуди Тоҷикистон муайян намоед.

- | | |
|--|-------------------------|
| A) ғалабаи инқилоби халқӣ дар Бухоро | 1) 21 феввали соли 1921 |
| B) барпошавии Ҳокимияти Шӯравӣ дар Хучанд | 2) 11 ноябри соли 1917 |
| C) барпошавии Ҳокимияти Шӯравӣ дар Душанбе | 3) 15 марти соли 1921 |
| D) барпошавии Ҳокимияти Шӯравӣ дар Кӯлоб | 4) 18 феввали соли 1919 |
| | 5) 2 сентябри соли 1920 |

Ҷавоб:

	1	2	3	4	5
A					
B					
C					
D					

25. Ҷавобҳои мувофиқро аз сутуни дуюм оид ба мафҳуми шахсиятҳои сутуни якум ёбед.

- | | |
|---------------------------------|--|
| A) совхоз | 1) ҳаракат дар охири асри XIX ва аввали асри XX |
| B) чорабиниҳои фарҳангии Шӯравӣ | 2) муассисаи давлатии хоҷагии қишлоқ |
| C) қушбегӣ | 3) иваз намудани алифбои арабиасос ба алифбои лотинӣ |
| D) маорифпарварӣ | 4) воҳиди маъмурӣ дар Туркистон |
| | 5) номи вазифа дар Аморати Бухоро |

Ҷавоб:

	1	2	3	4	5
A					
B					
C					
D					

СУБТЕСТИ ТАЪРИХ

(таърихи халқи тоҷик ва таърихи умумӣ)

Варианти 2

1. Дар ин порчаи матни таърихӣ суҳан дар бораи кадом сол меравад?

“...замоне ба ӯ хабар доданд, ки Искандар хеле наздик аст, вай аз дарёи Омӯ гузашта, киштиҳоро сӯзонд ва ба сарзамини Суғд, ба Навитак рафт. Аз қафои вай Спитамен, Оксиарт бо ҷанговарони суғдӣ ва ҷанговарон аз Танаис раҳсипор гардиданд...”

А) 522 пеш аз милод

С) 329 пеш аз милод

В) 334 пеш аз милод

Д) 250 пеш аз милод

2. Ардашери Бобакон кадом шаҳрро пойтахти давлати навтаъсиси Сосониён интихоб намуд?

А) Ҳирот

С) Марв

В) Исфаҳон

Д) Тайсафун

3. Солшумории мусулмони ҳиҷрӣ аз кай сар шудааст?

А) соли 632, аз ҷавҳи Муҳаммад пайғамбар

С) соли 644, аз ҳилофати Усмон

В) соли 622, аз ҳиҷрати Муҳаммад ба Ясриб

Д) соли 651, аз забти Эрон

4. Матро хонда, муайян кунед, ки суҳан дар бораи кӣ меравад.

“...волии Хуросону Мовароуннаҳр таъйин мешавад. Мувофиқи фармони... ҳангоми хутбаи намози ҷумъа дигар номи халифаро ба забон намегирифтанд. Ин маънои канда шудани робита ба Бағдодро дошт...”

А) Ардашери Бобакон

С) Тоҳир ибни Ҳусайн

В) Ҳоруннарашид

Д) Абдуллоҳ ибни Тоҳир

5. Исмоили Сомонӣ кадом сол қўшуни Амр ибни Лайси Саффориро шикаст дода, Хуросонро ба Давлати Сомониён ҳамроҳ намудааст?

А) соли 1005

С) соли 900

В) соли 875

Д) соли 999

6. Кадоме аз ин шахсиятҳо дар нимаи дуҷуми асри XIV ба давлате асос гузошт, ки қаламрави бузургро дар Шарқу Ғарб ишғол намудааст.

А) Темурланг

Д) Чингизхон

В) Султон Маҳмуд

С) Шохрух

7. Шоир ва мутафаккири тоҷик дар асри XV ва шогирди ӯро аз ҷавобҳои пешниҳодшуда муайян намоед.

А) Зайниддин Маҳмуди Восифӣ ва Бадриддин Ҳилолӣ

В) Камолиддин Биноӣ ва Ҳусайн Воизи Кошифӣ

С) Абдурахмони Ҷомӣ ва Алишери Навоӣ

Д) Абдураззоқи Самарқандӣ ва Дарвешӣ Деҳакӣ

8. Сулолаи манғит бо кӯмаки кадом шоҳ ба тахти Бухоро соҳиб шуданд?

- А) бо кӯмаки Нодиршоҳ
- В) бо кӯмаки Бобур
- С) бо кӯмаки Амир Олимхон
- Д) бо кӯмаки Шайбонихон

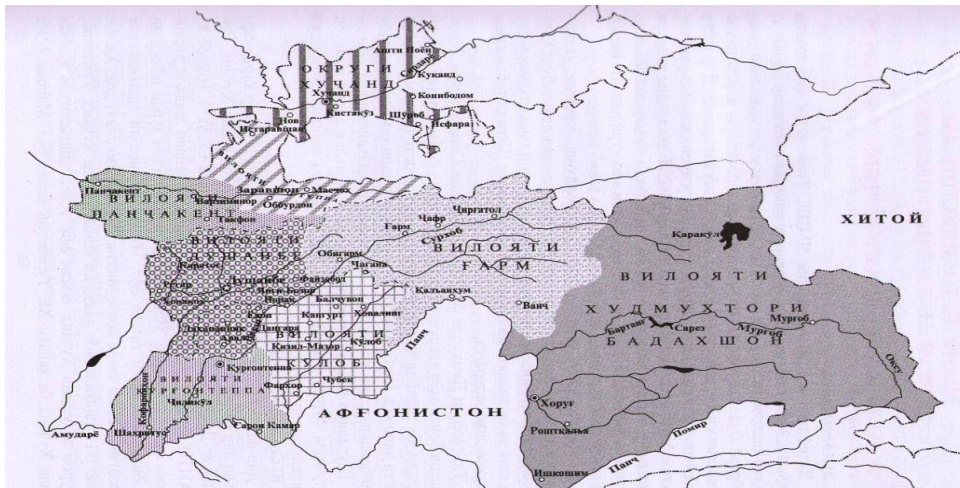
9. Кадом воқеа сабабгори исёни Абдумаликтура бар зидди падараш амир Музаффар шуд?

- А) барои ҳокимияти Ҳисорро ба даст овардан
- В) аз вазифаи ҳокими Қуқанд маҳрум шудани ӯ
- С) бар зидди падараш иғво андохтани англисҳо
- Д) ба имзо расидани созишнома дар Зирабулоқ

10. То соли 1895 кадоме аз ин қисмати Осиёи Марказӣ расман ба ҳайати Русия дохил нагардида буд?

- А) Вилояти Закаспий
- В) Помир
- С) Хонигарии Қўқанд
- Д) Вилояти Фарғона

11. Аз рӯи он ки округи Хуҷанд дар ҳайати Тоҷикистон нишон дода нашудааст, муайян намоед, ки он харитаи кадом марҳалаи таърихӣ замони шӯравиро инъикос кардааст?



- А) то 2 сентябри соли 1920
- В) то 21 феввали соли 1921
- С) то 16 октябри соли 1929
- Д) то 14 октябри соли 1924

12. Аввалин раиси Президиуми Кумитаи инқилобии ҶМШС Тоҷикистон кӣ буд?

- А) Нусратулло Махсум
- В) Нисор Муҳаммад
- С) Чинор Имомов
- Д) Фузайл Махсум

13. Дар солҳои 1918-1937 дар Тоҷикистон барои саводнок кардани мардуми кадом намуди мактабҳо амал мекарданд?

- А) мактабҳои низомӣ ва аскарӣ
- В) мактабҳои маҳви бесаводӣ
- С) мадрасаҳои анъанавӣ
- Д) мактабҳои ҷадидӣ

14. Дар ин расм кадом сарвари ташкилоти ҳизбии ҶШС Тоҷикистон акс ёфтаст?

- А) Чинор Имомов
- В) Бобочон Ғафуров
- С) Нусратулло Махсум
- Д) Шириншо Шотемур



15. Дар Фаронса дар мансаби президенти Шарл де Голлро кӣ иваз кард?

- А) Ҷорҷ Помпиду
- В) Валери Жескар д'Эстен
- С) Франсуа Миттеран
- Д) Жак Ширак

16. Ин шахс чӣ ном дорад ва президенти кадом давлат буд?

- А) Шарл де Голл, президенти Фаронса
- В) Вилли Брандт, канслери ҶФО
- С) Ҷон Кеннеди, президенти ИМА
- Д) Гарри Трумэн, президенти ИМА



17. Давлатҳои сотсиалистии Аврупо бо сардории ИҶШС паймони ҳарбии "Муоҳидаи Варшава"-ро кадом сол таъсис доданд?

- А) соли 1945
- В) соли 1948
- С) соли 1949
- Д) соли 1955

18. "Инқилоби маданӣ" ва сиёсати "Ҷаҳиши бузург" дар кадом давлати Осиё амалӣ карда шуд?

- А) дар Ҳиндустон
- В) дар Ҷумҳурии Халқии Чин
- С) дар Ҷумҳурии Халқӣ-Демократии Корея
- Д) дар Иттиҳоди Шӯравӣ

19. Соли 1973 дар давлати Чили кадом воқеа рух дод?

- А) Инқилоби халқӣ ба амал омад.
- В) Генерал Пиночет табaddулоти ҳарбӣ ба амал баровард.
- С) Бӯҳрони иқтисодӣ ба амал омад.
- Д) Дар интиҳобот нерӯҳои ифротӣ ғолиб омаданд.

20. Дар байни давлатҳои Ҳиндустон ва Покистон дар кадом масъала низоъ ба миён омад, ки он то имрӯз ҳам ҳалли худро наёфтааст?

- А) оид ба Ҷамму ва Кашмир
- В) оид ба Бангладеш
- С) оид ба тиҷорати сарҳадӣ
- Д) оид ба Синд

21. Мувофиқати китобҳои динӣ ва шарҳи онҳоро ёбед.

- | | |
|------------|--------------------------------|
| A) Авесто | 1) китоби муқаддаси масеҳиён |
| B) Библия | 2) китоби муқаддаси мусулмонон |
| C) Ригведа | 3) китоби мазҳабии чиниён |
| D) Қуръон | 4) китоби мазҳабии ҳиндуҳо |
| | 5) китоби ойини зардуштӣ |

Ҷавоб:

	1	2	3	4	5
A					
B					
C					
D					

22. Санаҳои воқеаҳои марбут ба солҳои ҷанги якуми ҷаҳонро бо ҳам мувофиқ намоед.

- | | |
|------------------------|---|
| A) 1 августи соли 1914 | 1) Шӯриши Қаландаршо |
| B) 25 июни соли 1916 | 2) Инқилоб дар Русия |
| C) 4 июли соли 1916 | 3) оғози шӯриш дар Хуҷанд |
| D) феввали соли 1917 | 4) фармони Николаи II оид ба сафарбаркунӣ |
| | 5) оғози Ҷанги якуми ҷаҳонӣ |

Ҷавоб:

	1	2	3	4	5
A					
B					
C					
D					

23. Муайян намоед, ки ба мансабҳои роҳбарикунандаи давлатҳо кадом шахсиятҳо нисбат доранд.

- | | |
|-------------------------|-----------------|
| A) Президенти Индонезия | 1) Шарл де Голл |
| B) Президенти ИМА | 2) Сукарно |
| C) Сарвазири Ҳиндустон | 3) Хо Ши Мин |
| D) Президенти Фаронса | 4) Гарри Трумен |
| | 5) Индира Ганди |

Ҷавоб:

	1	2	3	4	5
A					
B					
C					
D					

24. Воқеаҳои таърихӣ ва санаҳои ба вуқӯъ омадани онҳоро дар нимаи дуҷуми асри XIX-аввали асри XX бо ҳам мувофиқ намоед.

- | | |
|-------------------------------|--------------|
| A) Шӯриш дар Хуҷанд | 1) соли 1888 |
| B) Шӯриши Восеъ | 2) соли 1910 |
| C) Ғалабаи инқилоб дар Бухоро | 3) соли 1916 |
| D) ба тахт нишастани Олимхон | 4) соли 1868 |
| | 5) соли 1920 |

Ҷавоб:

	1	2	3	4	5
A					
B					
C					
D					

25. Мувофиқати номи сардорони давлатҳоро бо давлатҳои марбута муайян намоед.

- | | |
|----------------------------|--------------------|
| A) Маҳатма Карамчанд Ганди | 1) Туркия |
| B) Дуайт Эйзенхауэр | 2) Иттиҳоди Шӯравӣ |
| C) Мустафо Камол Отатурк | 3) ИМА |
| D) Шарл де Голл | 4) Ҳиндустон |
| | 5) Фаронса |

Ҷавоб:

	1	2	3	4	5
A					
B					
C					
D					

СУБТЕСТИ ҲУҚУҚИ ИНСОН

Варианти 1

- 1. Рамзҳои давлатиро кадом мақомот тасдиқ мекунад?**
А) Ҳукумат
В) Суд Олӣ
С) Маҷлиси Олӣ
Д) Прокуратура
- 2. Иттиҳодияҳои ҷамъиятӣ дар кадом мақомот ба қайд гирифта мешаванд?**
А) Ҳокимияти маҳаллӣ
В) Суди Олии иқтисодӣ
С) Мақомоти нотариалӣ
Д) Вазорати адлия
- 3. Шахс аз кадом вақт дар содир намудани ҷиноят гунаҳкор дониста мешавад?**
А) аз лаҳзаи дастгир шуданаш ба сифати айбдоршаванда
В) аз рӯзи оғоз намудани парвандаи ҷиноятӣ нисбати ӯ
С) аз рӯзи ба қувваи қонунӣ даромадани ҳукми суд
Д) аз рӯзи пешниҳод кардани қарори айбдоркунӣ
- 4. Сарқонуни амалкунандаи Ҷумҳурии Тоҷикистон чӣ тавр қабул карда шудааст?**
А) ба тариқи раёйпурсӣ
В) аз ҷониби Маҷлиси Олӣ
С) бо фармони Президент
Д) бо роҳи интихобот
- 5. Шаклҳои идоракунии давлатро муайян созед**
А) давлати демократӣ, дунявӣ ва ҳуқуқбунёд
В) давлати мусолиҳаи миллӣ
С) ҷумҳурӣ ва монархия
Д) унитарӣ ва федеративӣ
- 6. Лоихаи қонунро дар бораи авф ба Маҷлиси намояндагон кӣ пешниҳод мекунад?**
А) Президенти Ҷумҳурии Тоҷикистон
В) Вакили Маҷлиси намояндагон
С) Суди конституционӣ
Д) Маҷлиси миллии Маҷлиси Олӣ
- 7. Дар Ҷумҳурии Тоҷикистон рӯзи ҳимояи ҳуқуқи кӯдак кай ҷашн гирифта мешавад?**
А) 19-июн
В) 1-июн
С) 1-сентябр
Д) 1-июл
- 8. Ҳуқуқ ба озодии суҳан ва изҳори ақида чӣ гуна ҳуқуқ аст?**
А) ҳуқуқи шахсӣ
В) ҳуқуқи иҷтимоӣ
С) ҳуқуқи фарҳангӣ
Д) ҳуқуқи сиёсӣ
- 9. Кадом мақомот метавонад шахрвандро бо сабаби бемории рӯҳӣ ё сустаклӣ ғайри қобили амал эътироф намояд?**
А) мақомоти васоияту парасторӣ
В) прокуратура
С) суд
Д) мақомоти ҳифзи иҷтимоӣ
- 10. Функсияи муҳофизатӣ ба кадом гурӯҳи функсияи ҳуқуқ дохил мешавад?**
А) дохилӣ
В) соҳавӣ
С) асосӣ
Д) иловагӣ

11. Қонунҳои конституционӣ дар кадом маврид қабул карда мешаванд?
 А) зарурият ҷой дошта бошад
 В) дар Конститутсия пешбинӣ шуда бошад
 С) Маҷлиси Оли ташаббус нишон диҳад
 Д) лоиҳаи қонунро Ҳукумати Ҷумҳурӣ пешниҳод намояд.
12. Назорати риояи қонунгузорӣ “Дар бораи мурочиати шахрвандон” ба зиммаи кӣ вогузошта шудааст?
 А) Раиси Суди Олии Ҷумҳурии Тоҷикистон
 В) Вазири корҳои дохилаи Ҷумҳурии Тоҷикистон
 С) Муовини аввали Сарвазири Ҷумҳурии Тоҷикистон
 Д) Прокурори Генералӣ ва прокурорҳои тобеи ӯ
13. Ҳуқуқ ба дахлнопазирии шахс дар кадом моддаи Конститутсияи Ҷумҳурии Тоҷикистон дарҷ гардидааст?
 А) моддаи 18 ва 19 В) моддаи 5 С) моддаи 84 Д) моддаи 21
14. Ҷазои маъмурии маҳрум кардан аз ҳуқуқи махсусро кӣ таъйин менамояд?
 А) Судя В) Прокурор С) Раиси шахр Д) Сардори ШҚД
15. Ҳуқуқ ба муттаҳидшавӣ ба кадом гурӯҳи ҳуқуқ ва озодиҳо дохил аст?
 А) ҳуқуқ ва озодиҳои сиёсӣ С) ҳуқуқҳои насли сеюм
 В) ҳуқуқ ва озодиҳои иқтисодӣ Д) ҳуқуқҳои мутлақ
16. Кадом мақомот ёри ҳуқуқиро таъмин менамояд?
 А) прокуратура, суд В) суд С) адвокатура Д) милитсия
17. Кадом намудҳои гузаронидан ба кори дигарро қонун пешбинӣ намудааст?
 А) доимӣ, мавсимӣ, воқеӣ С) бо фармони маъмурият, мавсимӣ
 В) муваққатӣ ва мавсимӣ Д) доимӣ ва муваққатӣ
18. Судяҳо парвандаро чӣ тавр дида мебароянд?
 А) бо иштироки машваратчиёни халқӣ
 В) ба таври дастаҷамъӣ ва ё танҳо дида мебароянд
 С) бо иштироки прокурор ё бо таври дастаҷамъӣ
 Д) дастаҷамъӣ бо иштироки адвокат
19. Мазмуни ҳуқуқ ба озодии ҳаракат ва интихоби ҷойи зистро чӣ ташкил медиҳад?
 А) тарки давлатҳои дигар ва интихоби маҳалли зист
 В) реимпорт, импорт, реэкспорт ва экспорт шудан
 С) ҳуқуқ ба озодии ҳаракат дар дохили кишвар ва ҳаракат накардан ба кишварҳои дигар
 Д) ҳуқуқ ба озодии ҳаракат дар дохили кишвар ва интихоби маҳалли зист, ҳуқуқи тарки ҷумҳурӣ ва бозгашт ба он
20. Ҳуқуқ ба ҳифзи судӣ ба кадом гурӯҳи ҳуқуқҳо дохил мешавад?
 А) ҳуқуқ ва озодиҳои шахсӣ С) ҳуқуқ ва озодиҳои иҷтимоӣ
 В) ҳуқуқ ва озодиҳои сиёсӣ Д) ҳуқуқ ва озодиҳои фарҳангӣ

21. Муайян намоед, ки навъҳои ҳуқуқ ба кадом низомҳо мансубанд.

- | | |
|--|-----------------------------|
| A) ҳуқуқ ба озодии вичдон | 1) низоми ҳуқуқҳои шахсӣ |
| B) ҳуқуқи иштирок дар идоракунии давлатӣ | 2) низоми ҳуқуқҳои сиёсӣ |
| C) ҳуқуқ ба ширкат дар ҳаёти фарҳангӣ | 3) низоми ҳуқуқҳои иқтисодӣ |
| D) ҳуқуқ ба истироҳат | 4) низоми ҳуқуқҳои иҷтимоӣ |
| | 5) низоми ҳуқуқҳои фарҳангӣ |

Ҷавоб:

	1	2	3	4	5
A					
B					
C					
D					

22. Барои ҳар як мафҳуми ҳуқуқӣ шарҳи мувофиқро интихоб намоед.

- | | |
|---------------------------|-------------------------------|
| A) таҷзияи ҳокимият | 1) яке аз шартҳои бастанӣ |
| B) мукаллаф будан | ақди никоҳ |
| C) мустақилияти молумулкӣ | 2) аломати давлати ҳуқуқбунёд |
| D) розигии тарафайн | 3) аломати давлат |
| | 4) аломати шахси ҳуқуқӣ |
| | 5) субъекти ҷиноят |

Ҷавоб:

	1	2	3	4	5
A					
B					
C					
D					

23. Ба кадом бобҳои Конститутсия (Сарқонун) мувофиқат доштани мақомоти сутуни якумро муайян намоед.

- | | |
|----------------------|-----------|
| A) Маҷлиси Олӣ | 1) боби 8 |
| B) Суд | 2) боби 6 |
| C) Прокуратура | 3) боби 3 |
| D) Ҳокимияти маҳаллӣ | 4) боби 9 |
| | 5) боби 2 |

Ҷавоб:

	1	2	3	4	5
A					
B					
C					
D					

24. Барои ҳар яке аз истилоҳоти сутуни якум соҳаи ҳуқуқи мувофиқро аз сутуни дуюм интихоб намоед.

- | | |
|----------------------|-------------------------|
| A) шарикӣ дар ҷиноят | 1) ҳуқуқи меҳнатӣ |
| B) музди меҳнат | 2) ҳуқуқи ҷиноятӣ |
| C) раъйпурсӣ | 3) ҳуқуқи конституционӣ |
| D) аҳдномаи никоҳ | 4) ҳуқуқи граждани |
| | 5) ҳуқуқи оилавӣ |

Ҷавоб:

	1	2	3	4	5
A					
B					
C					
D					

25. Барои ҳар як истилоҳи сутуни якум мувофиқатро аз сутуни дуюм интихоб намоед.

- | | |
|--------------------------------|------------------------------|
| A) ҷумҳуриявӣ ва монархӣ | 1) меъёрҳои ҳуқуқӣ |
| B) ўҳдадоркунанда, манъкунанда | 2) шаклҳои идоракунии давлат |
| C) демократӣ ва ғайридемократӣ | 3) ҳуқуқи конституционӣ |
| D) дохилӣ ва берунӣ | 4) режимҳои сиёсӣ |
| | 5) функсияҳои далаат |

Ҷавоб:

	1	2	3	4	5
A					
B					
C					
D					

СУБТЕСТИ МАТЕМАТИКА

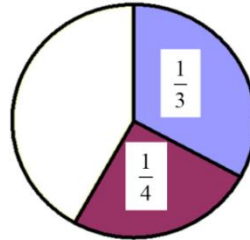
Варианти 1

1. Каратии умумии хурдтарини ададҳои 12, 15 ва 45-ро ёбед.

- A) 60 B) 90 C) 180 D) 900

2. Қисми рангкарданашуда кадом ҳиссаи доираро ташкил медиҳад?

- A) $\frac{1}{3}$ C) $\frac{5}{12}$
 B) $\frac{3}{8}$ D) $\frac{2}{7}$



3. Барои тай намудани роҳи дарозияш 350 км автобус назар ба мошини сабуқрав 2 соат бештар вақт сарф кард. Агар суръати автобус аз суръати мошини сабуқрав 20 км/соат камтар бошад, суръати автобусро ёбед.

- A) 40 B) 75 C) 55 D) 50

4. Массаи якто нок ва якто себ 230 г, массаи сето ҳамин гуна нок ва якто ҳамин гуна себ 590 г мебошад. Массаи якто нохро ёбед.

- A) 180 г B) 540 г C) 360 г D) 690 г

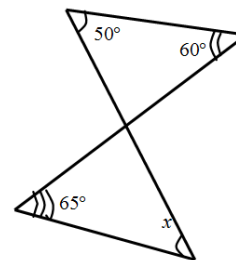
5. Муодила чанд реша дорад?

$$(|x| - 1) \cdot (|x| + 2) = 0$$

- A) фақат якто B) фақат дуто C) фақат сето D) аз сето зиёд

6. Бузургии кунҷи x -ро аз фигураи геометрӣ ёбед.

- A) 45° C) 65°
 B) 50° D) 70°



7. Қимати ифодаро ёбед: $\sin^4 \alpha + \sin^2 \alpha \cdot \cos^2 \alpha - \sin^2 \alpha$.

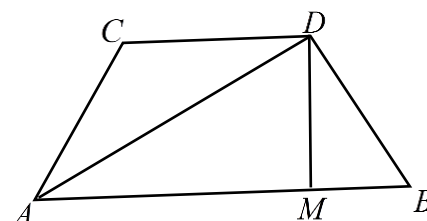
- A) -1 B) 0,5 C) 0 D) 1

8. Барои кадом қимати m муодилаи $4x^2 + 2x - m = 0$ ҳалли ягона дорад?

- A) -0,25 B) -0,5 C) 0,25 D) 0,5

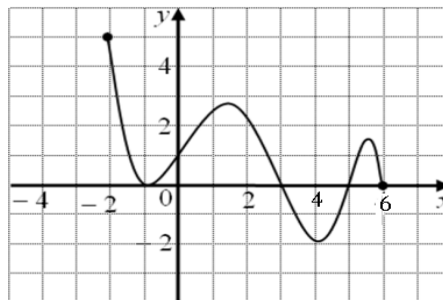
9. Диагонали трапетсияи баробарпахлу 17 см буда, баландии он 8 см аст. Масоҳати трапетсияро ёбед.

- A) 136 см^2 C) 120 см^2
 B) 50 см^2 D) 225 см^2



10. Графики функция дода шудааст. Фосилаеро нишон диҳед, ки дар он функцияи додашуда фақат қиматҳои манфиро қабул менамояд.

- A) $(-2; 6)$ C) $(-1; 6)$
 B) $(3; 5)$ D) $[3; 6]$



11. Периметри росткунҷаеро ёбед, ки дарозияш аз бараш 4 см зиёд буда, масоҳаташ 60 см^2 бошад.

- A) 15 см B) 56 см C) 32 см D) 64 см

12. Қимати ифодаи $3\sin \frac{\pi}{6}$ -ро ёбед.

- A) $\frac{3\sqrt{2}}{2}$ B) $\frac{3\sqrt{3}}{2}$ C) 1 D) 1,5

13. Нуқтаи $A(3; 1)$ дар давраи марказаш $O(-2; 1)$ ҷойгир аст. Радиуси ин давраро ёбед.

- A) 2 B) 5 C) 3 D) 10

14. Соҳаи муайянии функцияро ёбед: $y = \sqrt{4 - x^2}$

- A) $[-2; 2]$ C) $[-2; 2]$
 B) $(-\infty; -1] \cup [2; +\infty)$ D) $(-2; 2)$

15. Қимати ифодаро ёбед: $\frac{0,9^2 - 0,18 + 0,1^2}{1,8^2 - 1,8}$.

- A) $\frac{25}{36}$ B) $3\frac{5}{9}$ C) $-\frac{4}{9}$ D) $\frac{4}{9}$

16. Қимати мусбати тағйирёбандаи x -ро ёбед, ки барои он ҳосилаи функцияи $y = x^3 - 6x^2 + 36$ ба нол баробар аст.

- A) -4 B) 2 C) 3 D) 4

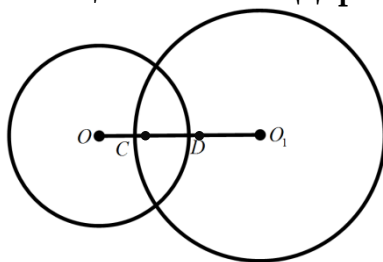
17. Сутунҳо дорой дарозиҳои гуногун мебошанд. Кӯтоҳтарини онҳо 5 м буда, ҳар як сутуни минбаъда аз пештара 2 м дарозтар аст. Дарозии сутуни даҳумро ёбед.

- A) 23 B) 10 C) 21 D) 25

18. Ҳосилаи функцияро ёбед: $y = (2x - 4)^4$.

- A) $4(2x - 4)^3$ B) $\frac{2(2x - 7)^5}{5}$ C) $-16(2x - 4)^3$ D) $8(2x - 4)^3$

19. Радиусҳои ду даврае, ки ҳамдигарро мебуранд 9,5 см ва 13,2 см буда, масофаи байни марказҳои онҳо 19 см аст. Дарозии порчаи CD -ро ёбед.



- A) 5,8 см B) 9,5 см C) 3,7 см D) 22,7 см

20. Агар $\frac{x}{y} = 2$ бошад, он гоҳ қимати ифодаи $\frac{x-y}{y}$ -ро ёбед.

- A) $-\frac{1}{2}$ B) $\frac{1}{2}$ C) 2 D) 1

21. Барои ҳар як муодилаи тригонометрӣ ҳалли мувофиқро муайян намоед.

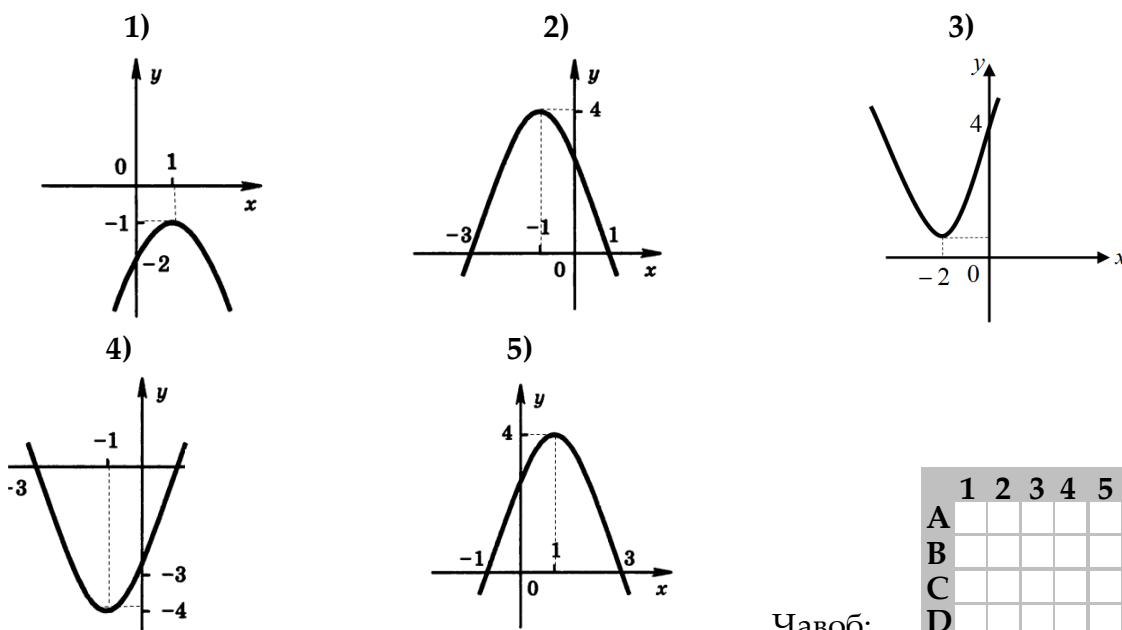
- | | |
|---------------------------|--|
| A) $\sin 2x = a$ | 1) $x = (-1)^n \cdot \frac{1}{2} \cdot \arcsin a + \frac{\pi n}{2}, n \in Z$ |
| B) $\cos \frac{x}{2} = a$ | 2) $x = (-1)^{n+1} \cdot \arcsin a + \pi n, n \in Z$ |
| C) $\sin x = -a$ | 3) $x = \pm 2 \arccos a + 4\pi n, n \in Z$ |
| D) $\cos x = -a$ | 4) $x = \pm(\pi - \arccos a) + 2\pi n, n \in Z$ |
| | 5) $x = \pm \arccos a + 2\pi n, n \in Z$ |

	1	2	3	4	5
A					
B					
C					
D					

Ҷавоб:

22. Барои ҳар як функция графיקи мувофиқро ёбед.

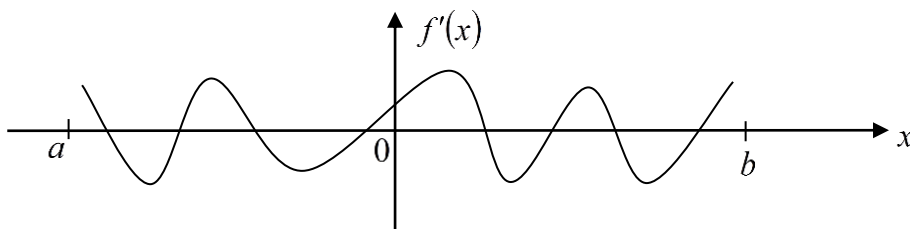
- A) $y = -(x-1)^2 + 4$ B) $y = (x+1)^2 - 4$ C) $y = -(x+1)^2 + 4$ D) $y = -(x-1)^2 - 1$



	1	2	3	4	5
A					
B					
C					
D					

Ҷавоб:

23. Шумораи фосилаҳои афзуншавии функцияи $f(x)$ -ро дар порчаи $[a; b]$ ёбед, агар графики ҳосилаи он $f'(x)$ дар ин порча намуди зеринро дошта бошад.

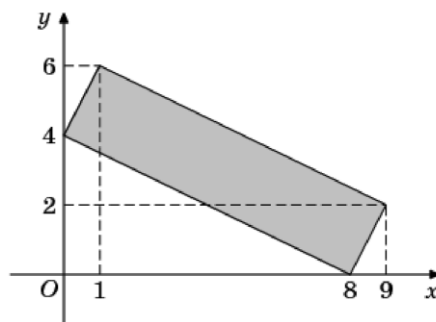


Ҷавоб:

24. Решаи муодилаи $x + \sqrt{2-x} = 0$ чанд аст?

Ҷавоб:

25. Масоҳати чоркунҷаеро ёбед, ки қуллаҳои дорой координатҳои $(8; 0)$, $(9; 2)$, $(1; 6)$, $(0; 4)$ бошанд.



Ҷавоб:

26. Соати 7^{00} гурӯҳи мактаббачагон аз шаҳр ба деҳа бо суръати 4,8 км/соат ба роҳ баромад. Пас аз 3 соат аз дунболи онҳо гурӯҳи дигари мактабиён бо велосипедҳо, ки суръати ҳаракаташон 12 км/соат буд, равона шуданд. Агар ҳар ду гурӯҳ ба деҳа дар як вақт расида бошад, масофаи байни шаҳр ва деҳаро ёбед.

Ҷавоб:

27. Адади $a = 13^{13}$ бо кадом рақам тамоми мешавад?

Ҷавоб:

СУБТЕСТИ МАТЕМАТИКА

Варианти 2

1. Қимати ифодаро ёбед: $0,(16)+\frac{1}{9}$

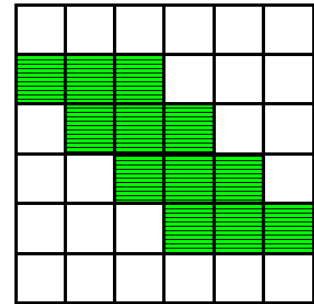
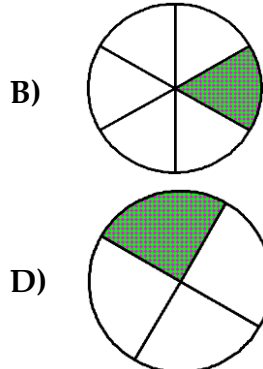
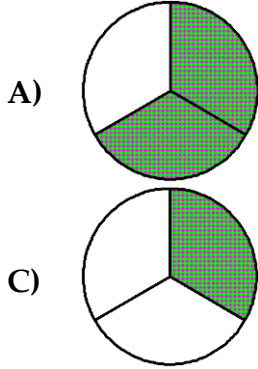
A) $\frac{3}{11}$

B) $\frac{17}{99}$

C) $\frac{9}{11}$

D) $\frac{61}{225}$

2. Дар кадом расм қисми рангкардашудаи доира ба қисми рангкардашудаи квадрат баробар аст?



3. Деворҳои ҳавзи шиноварӣ бо кошӣ (кафел) рӯйпӯш карда мешаванд. Барои аз фарш то баландии 30 см рӯйпӯш намудан девор 80 дона кошӣ сарф шуд. Барои девори ҳавзро аз фарш то баландии 180 см рӯйпӯш намудан чанд дона кошӣ лозим аст?

A) 480 дона

B) 450 дона

C) 400 дона

D) 360 дона

4. Назир, Аъзам ва Дилшод дар болои тарозу истодаанд. Агар аз тарозу Назир фарояд, нишондоди тарозу ба 100 кг баробар мешавад. Агар аз тарозу Аъзам фарояд тарозу 94 кг ва агар Дилшод фарояд, 90 кг – ро нишон медиҳад. Вазни умумии бачаҳоро муайян намоед.

A) 284 кг

B) 194 кг

C) 184 кг

D) 142 кг

5. Қимати ифодаи $\sqrt{x^2 - 4x + 4}$ - ро, ҳангоми $x = 1,999$ будан, муайян намоед.

A) -0,001

B) 0,001

C) 0,01

D) 1,001

6. Муодилаи $\frac{3|x|}{x} = x$ чанд реша дорад?

A) реша надорад

B) фақат якто

C) фақат дуто

D) фақат се то

7. Кадоме аз ин функцияҳо хаттӣ мебошад?

A) $y = -\frac{12}{x}$

B) $y = 9 - 3x$

C) $y = 2x^7 - 5$

D) $y = 2x^2 + 1$

8. Муодиларо ҳал кунед. $x + (\sqrt{x-1})^2 = -7$

A) -4

B) -3

C) 1

D) \emptyset

9. Нобаробариро ҳал кунед. $(x+1)(1-x) > 0$

A) $(-1; 1)$

B) $(-\infty; -1) \cup (1; +\infty)$

C) $(1; +\infty)$

D) $(-\infty; -1)$

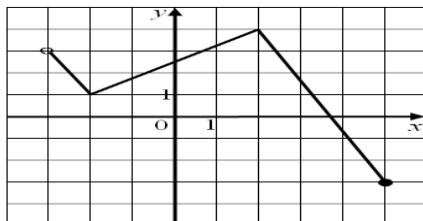
10. Решаҳои муодиларо нишон диҳед: $\cos x = \operatorname{ctg} \frac{\pi}{4}$.

- A) $\pi + 2\pi n, n \in Z$ B) $\frac{\pi}{2} + 2\pi n, n \in Z$ C) $\pm \frac{\pi}{4} + 2\pi n, n \in Z$ D) $2\pi n, n \in Z$

11. Ададҳои $a = \operatorname{tg} 36^\circ, b = \operatorname{tg} 93^\circ, c = \operatorname{tg} 180^\circ$ -ро бо тартиби афзуншавӣ нависед.

- A) b, c, a B) c, b, a C) a, b, c D) b, a, c

12. Соҳаи муайяни функсияро ёбед, ки графикаш дар зер тасвир шудааст.



- A) $[-3; 5)$ B) $[-3; 4)$ C) $(-3; 3) \cup (3; 4)$ D) $(-3; 5]$

13. Функсияро нишон диҳед, ки ҳосилааш, ҳангоми $x = 2$ будан, ба 1 баробар аст.

- A) $y = x^2 + 1$ B) $y = x^2 - 3x$ C) $y = 2x - 1$ D) $y = 3 - x$

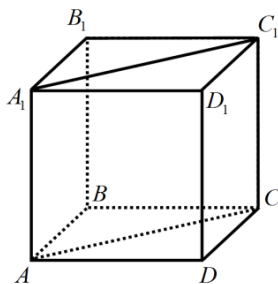
14. Агар $y = x - 2$ бошад, қимати ифодаи $|x - y| - |2x - 2y|$ -ро ёбед.

- A) -2 B) 2 C) 3 D) 4

15. Нуқтаҳои критикии функсияи $y = x^2 - 6x + 5$ -ро ёбед.

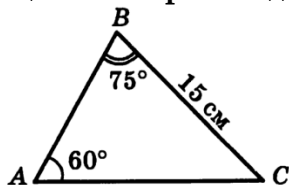
- A) $\frac{1}{2}$ B) 3 C) $1; 5$ D) 12

16. Дар расм куб тасвир шудааст. Нишон диҳед, ки кадоме аз хатҳои рости дар зер овардашуда параллеланд.



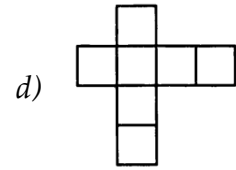
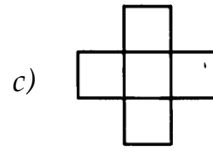
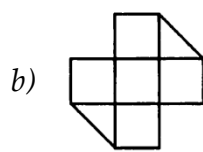
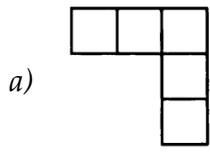
- A) AB ва A_1C_1 B) BB_1 ва AC C) A_1B_1 ва AC D) DD_1 ва BB_1

17. Дарозии тарафи AB -и секунҷаи ABC -ро ёбед.



- A) $7,5\sqrt{2}$ см B) $6\sqrt{3}$ см C) $5\sqrt{6}$ см D) $\frac{15}{\sqrt{2}}$ см

18. Тарафи квадратҳои ҳар як шакл ба 1 см баробар аст. Шаклро нишон диҳед, ки масоҳаташ 7 см² аст.



A) d

B) a ва b

C) c ва d

D) c

19. Росткунҷаро ба се квадрати баробаре бурида ҷудо карданд, ки суммаи периметрҳои онҳо 24 см аст. Масоҳати росткунҷаи додашударо ёбед.

A) 18 см²

B) 16 см²

C) 12 см²

D) 6 см²

20. Диагонали куб ба 15 см баробар аст. Ҳаҷми кубро ёбед.

A) $225\sqrt{3}$ см³

B) $375\sqrt{3}$ см³

C) $625\sqrt{2}$ см³

D) 450 см³

21. Муайян намоед, ки ҳар як муодилаи додашуда, мувофиқан, чанд реша дорад.

A) $|x| = 2$

B) $x^2 + 1 = 0$

C) $(x^2 - 1)(x - 2) = 0$

D) $(\sqrt{x} + 1)(x + 1) = 0$

1) фақат як реша

2) ду решаҳои гуногун

3) фақат се реша

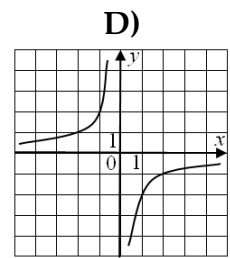
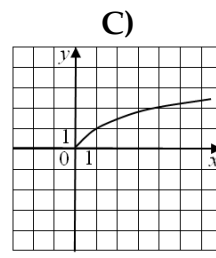
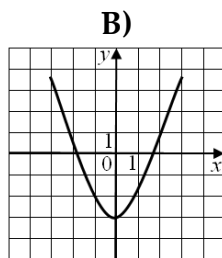
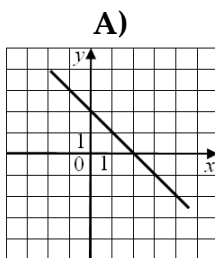
4) реша надорад

5) ду решаҳои баробар

	1	2	3	4	5
A					
B					
C					
D					

Ҷавоб:

22. Барои ҳар як графиги функсия формулаи мувофиқро муайян намоед.



1) $y = \sqrt{x}$

2) $y = -\frac{2}{x}$

3) $y = 2 - x$

4) $y = 2x$

5) $y = x^2 - 3$

	1	2	3	4	5
A					
B					
C					
D					

Ҷавоб:

23. Қимати ифодаро ёбед: $\sin 45^\circ \cos 45^\circ + \cos 45^\circ \sin 45^\circ$.

Ҷавоб:

24. Масштаби харита 1:100 000 аст. Ба дарозии порчаи 3 см-и харита дарозии кадом порчаи сатҳи замин мувофиқ меояд?

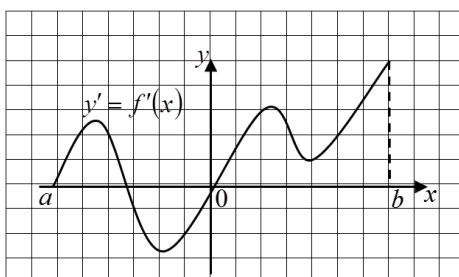
Ҷавоб: км

25. Дар олимпиада аз фанни математика 32%-и иштирокчиён сазовори ифтихорнома шуданд. Агар 416 нафар соҳиби ифтихорнома гардида бошад, ҳамагӣ дар олимпиада чанд нафар иштирок дошт?

Ҷавоб:

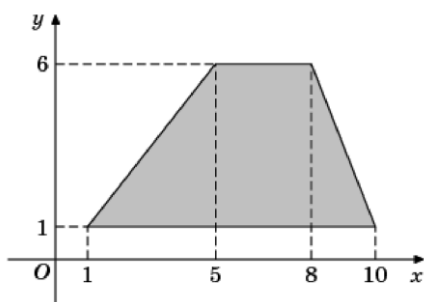
26. Функцияи $y = f(x)$ дар порчаи $[a; b]$ дода шудааст. Дар расм графики ҳосилаи он $y' = f'(x)$ нишон дода шудааст.

Шумораи фосилаҳои афзуншавии функцияро нависед.



Ҷавоб:

27. Агар қуллаҳои трапетсия нуқтаҳои (1; 1), (10; 1), (8; 6), (5; 6) бошанд, масоҳати онро ёбед.



Ҷавоб:

СУБТЕСТИ ФИЗИКА

Варианти 1

1. Варзишгар ҳангоми давидан суръаташро то 3 м/с зиёд намуд. Дар ин маврид энергияи кинетикии он баробари 240 Ҷ шуд. Массай \bar{y} чӣ қадар аст?

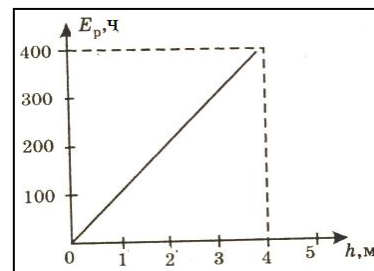
- A) 0,5 кг B) 5 кг C) 53 кг D) 500 кг

2. Одами массааш 50 кг ба сатҳи масоҳаташ 1 м² чӣ қадар фишор меорад? Шитоби афтиши озод $g = 10 \text{ м/с}^2$ қабул карда шавад.

- A) 0,5 Па B) 5 Па C) 50 Па D) 500 Па

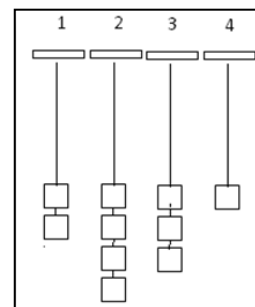
3. Дар расм графики вобастагии энергияи потенциалӣ ба баландӣ тасвир ёфтааст. Массай ҷисм чӣ қадар аст? Шитоби афтиши озод $g = 10 \text{ м/с}^2$ қабул карда шавад.

- A) 0,1 кг C) 50 кг
B) 10 кг D) 1600 кг



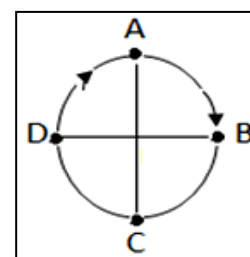
4. Ба симҳои дар расм нишондодашуда борҳои массаашон якхела пайваст карда шудаанд. Кадоме аз симҳо дорои саҳтии зиёдтарин мебошад?

- A) 1 C) 3
B) 2 D) 4



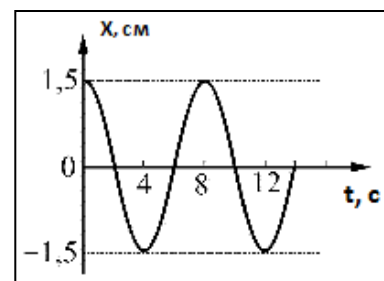
5. Нуқтаи материалӣ аз рӯйи давраи дар расм тасвирёфта ҳаракат мекунад. Ҳангоми гузаштани қитъаи AC нуқта ба кадом кунҷ гардиш мекунад?

- A) 60° C) 180°
B) 90° D) 360°



6. Дар расм графики вобастагии координатаи ҷисм x ба вақт t тасвир ёфтааст. Амплитудай лапиши чӣ қадар аст?

- A) 1,5 см C) 8 см
B) 4 см D) 12 см



7. Чойники обдорро болои манқали электрӣ (плитка) монда, то ҷӯш омаданаш нигоҳ доштанд. Энергияи дохилии об ба кадом восита тағйир меёбад?

- A) бо воситаи гармигузаронӣ C) бо воситаи кам шудани ҳарорат
B) ҳангоми иҷрошавии қор D) бо воситаи камшавии фишор

15. Мувофиқати байни ҳодисаҳои термодинамикӣ ва равандҳои тавсифдиҳандаи онҳоро муайян намоед.

- | | |
|---------------------------------------|--------------------|
| A) ҳосилшавии шабнам | 1) буғшавӣ |
| B) обшавии барф | 2) кристаллизатсия |
| C) хушкшавии ҳавзчаҳо
баъди борон | 3) конвексия |
| D) ҳосилшавии шӯшаҳои
ях дар бомҳо | 4) конденсатсия |
| | 5) гудозиш |

Ҷавоб:

	1	2	3	4	5
A					
B					
C					
D					

16. Мувофиқати байни бузургиҳои физикӣ ва воҳидҳои онҳоро муайян намоед.

- | | |
|----------|-----------------------|
| A) Ом | 1) тавоноии ҷараён |
| B) Ватт | 2) муқовимати электрӣ |
| C) Вольт | 3) қувваи ҷараён |
| D) Ампер | 4) шиддат |
| | 5) заряд |

Ҷавоб:

	1	2	3	4	5
A					
B					
C					
D					

17. Мувофиқати байни бузургиҳои физикӣ ва асбобҳои ченкунандаи онҳоро муайян намоед.

- | | |
|------------------|----------------|
| A) заряд | 1) вольтметр |
| B) қувваи ҷараён | 2) ваттметр |
| C) шиддат | 3) электрометр |
| D) тавоноӣ | 4) амперметр |
| | 5) реостат |

Ҷавоб:

	1	2	3	4	5
A					
B					
C					
D					

18. Варзишгар ҳангоми ба баландии 2,5 метр бардоштани штанга энергияи 2500 Ҷ-ро сарф намуд. Массайи штанга чӣ қадар будааст?

Шитоби афтиши озод $g = 10 \text{ м/с}^2$ қабул карда шавад.

Ҷавоб:

□	□	□	□
---	---	---	---

 кг

19. 200 мол оби дар зарф мавҷудбуда ба сатҳи масоҳаташ 200 см^2 чӣ қадар фишор меорад?

Массайи молии об $18 \cdot 10^{-3} \text{ кг/мол}$ ва шитоби афтиши озод $g = 10 \text{ м/с}^2$ қабул карда шавад.

Ҷавоб:

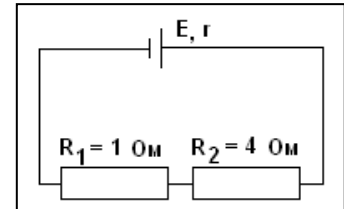
□	□	□	□
---	---	---	---

 Па

20. Ноқил ба манбаи ҷараёнаш 22 А пайваст карда шудааст. Дар фосилаи вақти 10 с аз буриши арзии он чӣ қадар заряд мегузарад?

Ҷавоб: Кл

21. Дар расм схемаи занҷири электрӣ тасвир ёфтааст. Муқовимати умумии занҷирро муайян намоед.



Ҷавоб: Ом

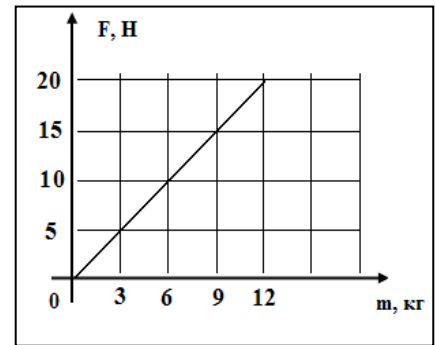
22. Дарозии ноқили пӯлодини массааш 13 кг-ро муайян кунед, ки ба шабака пайваст карда шудааст. Муқовимати ноқил 0,5 Ом, муқовимати хоси ноқил ба $15 \cdot 10^{-8} \text{ Ом} \cdot \text{м}$ ва зичии пӯлод ба $7800 \text{ кг} / \text{м}^3$ баробар мебошанд.

Ҷавоб: м

СУБТЕСТИ ФИЗИКА

Варианти 2

1. Кайҳонавардон дар сатҳи Моҳ вобастагии қувваи вазнинӣ ба массаи ҷисмро омӯхта, натиҷаи онро дар намуди графикӣ тасвир намуданд. Аз график истифода бурда, шитоби афтиши озодро дар сатҳи Моҳ муайян кунед.

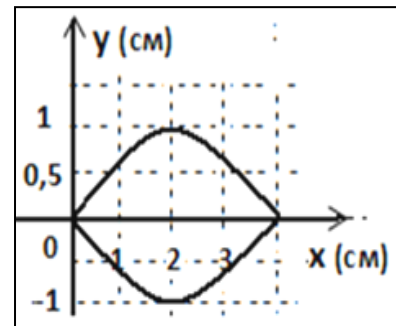


- A) $0,6 \text{ м/с}^2$ C) 8 м/с^2
 B) $1,67 \text{ м/с}^2$ D) 32 м/с^2

2. Варзишгари массааш 60 кг ҳангоми давидан суръаташро то 3 м/с зиёд намуд. Дар ин маврид энергияи кинетикии ӯ чӣ қадар меафзояд?

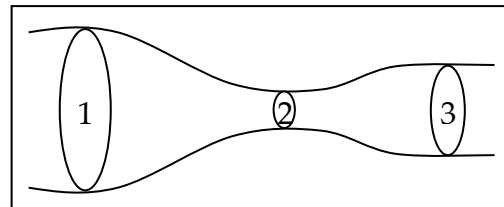
- A) 90 Ҷ B) 180 Ҷ C) 270 Ҷ D) 540 Ҷ

3. Дар расм лапшиши иҷрокардаи тори гитор дар фосилаҳои дилхоҳи вақт тасвир ёфтааст. Амплитудаи лапшиши онро ёбед.



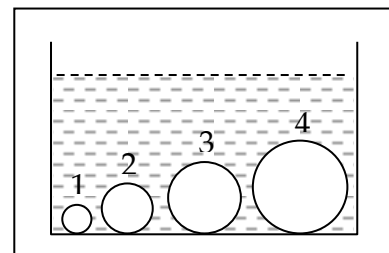
- A) 0,5 см C) 8 см
 B) 1 см D) 4 см

4. Аз дохили лӯла моеъ чорӣ мешавад. Дар кадом бурриши лӯла фишори моеъ зиёдтар аст?



- A) 1 C) 3
 B) 2 D) 4

5. Дар дохили зарфи обдор чор саққои пӯлодин гузошта шудаанд. Ба кадоми онҳо қувваи архимедӣ зиёдтар таъсир мекунад?

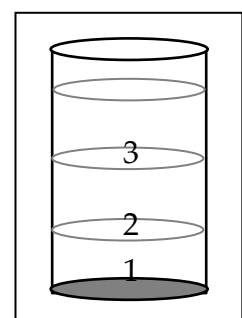


- A) 1 C) 3
 B) 2 D) 4

6. Кадоме аз ҳодисаҳои физикии зерин барнагарданда мебошад?

- A) диффузия B) конденсатсия C) кристаллизатсия D) гудохташавӣ

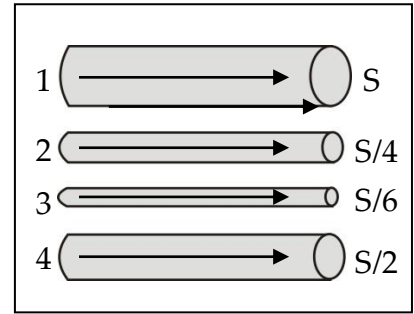
7. Дар зарф (нигаред ба расм) об, керосин ва симоб рехта шудаанд. Ҷойгиршавии моеъҳоро аз таги зарф нишон диҳед. Зичии об - 1000 кг/м^3 , керосин - 800 кг/м^3 , симоб - 13600 кг/м^3 аст.



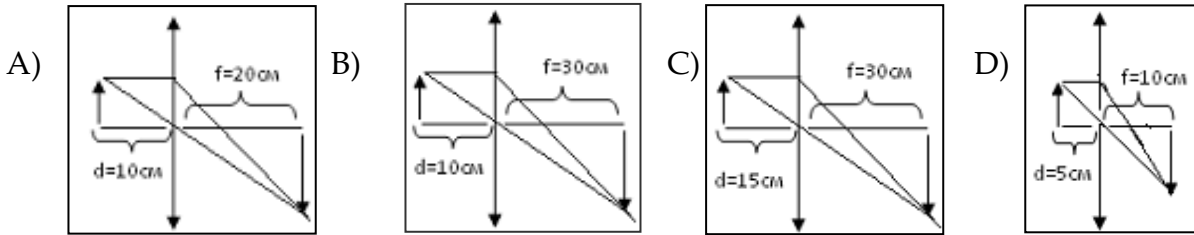
- A) симоб, керосин, об C) симоб, об, керосин
 B) керосин, об, симоб D) об, керосин, симоб

8. Ноқилҳои дар расм нишондодашуда аз як материал сохта шудаанд. Кадоме аз онҳо дорои муқовимати электрии зиёдтар мебошад?

- A) 1 C) 3
B) 2 D) 4



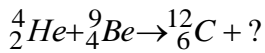
9. Қалонкунии кадоме аз линзаҳои ҷамъоварандаи дар расм тасвирёфта зиёдтар мебошад?



10. Энергияи фотонро ёбед, ки массааш ба массаи оромии электрон баробар бошад ($m_e = 9,1 \cdot 10^{-31}$ кг, $c = 3 \cdot 10^8$ м/с).

- A) $8,2 \cdot 10^{-15}$ Ҷ B) $82 \cdot 10^{-15}$ Ҷ C) $92 \cdot 10^{-15}$ Ҷ D) $820 \cdot 10^{-15}$ Ҷ

11. Дар протсесси реаксияи додашуда кадом зарра аз ядро хорич мешавад?



- A) ${}_1^1\text{P}$ B) ${}_2^4\text{He}$ C) ${}_0^1n$ D) ${}_0^0\gamma$

12. Ядрои барий ${}^{143}_{56}\text{Ba}$ аз худ як нейтрон ва як электрон хорич кард. Дар натиҷа кадом элемент ҳосил шуд?

- A) ${}^{143}_{56}\text{Ba}$ B) ${}^{143}_{58}\text{Ba}$ C) ${}^{142}_{57}\text{La}$ D) ${}^{144}_{55}\text{Cs}$

13. Мувофиқати байни таърифҳо ва мафҳумҳои ба онҳо мансубро муайян намоед.

- | | |
|---|-----------------------|
| A) ҷисме, ки андозаҳои дар шароитҳои додашуда назарногиранд | 1) траектория (масир) |
| B) ҷисме, ки нисбат ба он ҳаракати дигар ҷисмҳо муоина карда мешавад | 2) нуқтаи материалӣ |
| C) ҷисми сарҳисоб, системаи координатии декартӣ ва олоқи андозгирии вақт дар маҷмӯъ | 3) ҷисми сарҳисоб |
| D) ҳате, ки аз рӯи он нуқтаи материалӣ ҳаракат мекунад | 4) системаи сарҳисоб |
| | 5) ҷисми мутлақо саҳт |

	1	2	3	4	5
A					
B					
C					
D					

Ҷавоб:

14. Мувофиқати байни таърифҳо ва равандҳои газиро муайян намоед.

- | | |
|--|---|
| <p>A) раванди газӣ ҳангоми доимӣ мондани ҳаҷм</p> <p>B) раванди газӣ ҳангоми доимӣ мондани ҳарорат</p> <p>C) раванди газӣ ҳангоми доимӣ мондани фишор</p> <p>D) раванди газӣ бе мубодилаи гармӣ бо ҷисмҳои атроф</p> | <p>1) изотермӣ</p> <p>2) изохорӣ</p> <p>3) адиабатӣ</p> <p>4) изобарӣ</p> <p>5) гармигузаронӣ</p> |
|--|---|

Ҷавоб:

	1	2	3	4	5
A					
B					
C					
D					

15. Мувофиқати байни таърифҳои қувваҳои дар зер овардашуда ва номҳои ба онҳо хосро муайян намоед.

- | | |
|--|---|
| <p>A) қувваи аз тарафи майдони магнитӣ ба ноқили ҷараёндор таъсиркунанда</p> <p>B) қувваи аз тарафи майдони магнитӣ ба зарраи заряднокӣ ҳаракатнок таъсиркунанда</p> <p>C) қувваи аз тарафи майдони электрӣ ба зарраи заряднок таъсиркунанда</p> <p>D) қувваи аз тарафи майдони ҷозоба ба ҷисм таъсиркунанда</p> | <p>1) қувваи кулонӣ</p> <p>2) қувваи амперӣ</p> <p>3) қувваи ҷозоба</p> <p>4) қувваи лоренсӣ</p> <p>5) қувваҳои ядрой</p> |
|--|---|

Ҷавоб:

	1	2	3	4	5
A					
B					
C					
D					

16. Мувофиқати байни таърифҳо ва бузургиҳои физикии ба онҳо мансубро муайян намоед.

- | | |
|--|--|
| <p>A) бузургие, ки ба нисбати заряди ноқил бар потенциали он баробар аст</p> <p>B) бузургие, ки кори қувваҳои электрӣ ҳангоми кӯчиши заряди мусбати воҳидӣ муайян мекунад</p> <p>C) бузургие, ки кори қувваҳои берунаро ҳангоми кӯчиши заряди мусбати воҳидӣ муайян мекунад</p> <p>D) миқдори заряди аз буриши арзии ноқил дар воҳиди вақт гузаранда</p> | <p>1) муқовимати электрӣ</p> <p>2) шиддат</p> <p>3) ҚЭҲ</p> <p>4) ғунҷоиши электрӣ</p> <p>5) қувваи ҷараён</p> |
|--|--|

Ҷавоб:

	1	2	3	4	5
A					
B					
C					
D					

17. Мувофиқати байни таърифҳо ва ҳодисаҳои оптикиро муайян намоед.

- | | |
|---|--|
| <p>A) болои ҳам хобидани ду мавҷи когерентӣ, ки дар натиҷа лаппиши ҳиссаҷаи муҳит пурзӯр ё суғ мешавад</p> <p>B) майлқунии мавҷ аз паҳншавии ростхатта</p> <p>C) вобастагии нишондиҳандаи шикасти рӯшноӣ ба басомад</p> <p>D) гузариши энергияи мавҷи рӯшноӣ ба намудҳои дигари энергияи дохилӣ</p> | <p>1) интерференсияи рӯшноӣ</p> <p>2) дифраксияи рӯшноӣ</p> <p>3) дисперсияи рӯшноӣ</p> <p>4) фурӯбарии рӯшноӣ</p> <p>5) поляризацияи рӯшноӣ</p> |
|---|--|

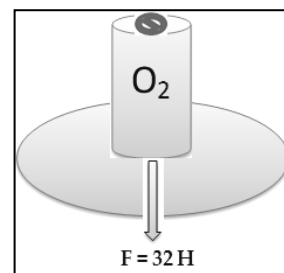
Ҷавоб:

	1	2	3	4	5
A					
B					
C					
D					

18. Ронанда дар кадом масофа то истоғ бояд ба тормоздиҳӣ шуруъ кунад, то ки шитоби ба троллейбус бахшидаи \bar{y} аз 1 м/с^2 зиёд нашавад?

Ҷавоб: м

19. Хонандагон бо мақсади муайян намудани шитоби афтиши озод дар лаборатория чунин таҷриба гузарониданд (нигаред ба расм): ба сатҳе зарфи пур аз газро, ки адади молекулаҳои ба $6 \cdot 10^{25}$ баробар аст, гузоштанд. Онҳо дар натиҷаи таҷриба кадом қиматро ба даст оварданд? ($N_A = 6 \cdot 10^{23} \text{ мол}^{-1}$).



Ҷавоб: м/с²

20. Реостати лампавӣ аз панҷ фурӯзонаки пайдарпай васлшуда иборат аст, ки муқовимати ҳар кадомаш 30 Ом мебошад. Муқовимати реостатро ёбед.

Ҷавоб: Ом

21. Бо кадом шиддат конденсатори ғунҷошпаш 6 мкФ -ро то ба 72 мкКл заряднок кардан мумкин аст?

Ҷавоб: В

22. Ноқили дарозияш 1 м, ки аз он ҷараёни 20 А ҷорист, дар майдони магнитии якҷинсаи индуксияш 2 Тл ба самти хатҳои индуксияи магнитӣ перпендикуляр ҷой иваз мекунад. Массайи ноқилро муайян намоед ($g = 10 \text{ м/с}^2$).

Ҷавоб: кг

СУБТЕСТИ ХИМИЯ

Вариант 1

1. Дар молекулаи атсетилен чанд банди химиявӣ мавҷуд аст?
A) 2 B) 3 C) 4 D) 5
2. Дар кадом қатор танҳо оксидҳои асосӣ ҷойгир шудаанд?
A) MgO , CrO_3 , Na_2O C) SO_2 , N_2O , NO
B) Li_2O , CaO , Al_2O_3 D) MgO , CrO , Li_2O
3. Пайвастагии таркибаш $Э_2O$ ва $NaЭO_3$ -ро кадоме аз ин ду элемент ҳосил карда метавонад?
A) фтор ва хлор C) нитроген ва фосфор
B) хлор ва нитроген D) фосфор ва литий
4. Дар вақти таъсир кардани 11,2 литр гидрогенсулфид дар (ш.м.) бо газии сулфит чанд грамм сулфур ҳосил мешавад?
A) 12 B) 32 C) 96 D) 24
5. Суръати реаксияи $2NO_2=N_2O_4$ чанд маротиба меафзояд, агар фишори система 6 маротиба зиёд карда шавад?
A) 6 B) 12 C) 24 D) 36
6. 200 грамм маҳдули 24%-а ва 500 грамм маҳдули 10%-аи глюкозаро бо ҳам омехтанд. Ҳиссаи массаи глюкозаро дар маҳдули ҳосилшуда (бо %) ҳисоб кунед.
A) 7 B) 14 C) 21 D) 28
7. Аз 44,8 л аммиак дар (ш.м.) чанд грамм кислотаи нитрат ҳосил кардан мумкин аст, агар баромади маҳсулоти реаксия дар ҳар зина 100%-ро ташкил диҳад?
A) 63 B) 126 C) 60,5 D) 12,6
8. Кадоме аз ин ду атом миқдори якхелаи S-электрон дорад?
A) натрий ва калий C) хлор ва натрий
B) хлор ва оҳан D) фосфор ва хлор
9. Дар вақти таъсир кардани рӯҳ бо 1,3-дибромпропан кадом пайвастагӣ ҳосил мешавад?
A) пропан B) циклопропан C) гексан D) пропен

10. Ҳангоми пурра сӯхтани 2 литр карбоген 8 литр буғи об (дар як ҳел шароит) ҳосил шуд. Ин карбогенро муайян намоед.
- A) этан B) пропан C) метан D) бутан
11. Барои ҳосил кардани 70 грамм оҳан аз оксиди оҳан (III) чанд литр гидроген дар (ш.м.) сарф мешавад?
- A) 42 B) 21 C) 36 D) 67,2
12. Валентнокии хромо дар оксиди хром, ки 68,42% металл дорад, муайян намоед.
- A) I B) II C) III D) IV
13. Ҳиссаи массаи оксиген дар кадом модда аз ҳама зиёд аст?
- A) Na_2SO_4 B) MgSO_4 C) HgSO_4 D) BaSO_4
14. Дар вақти сӯхтани 3 г моддаи содаи номаълум 5,67 г оксид ҳосил шуд. Кадом модда сӯзонида шудааст?
- A) Fe B) C C) S D) Al
15. Дар кадом пайвастагӣ ҳиссаи массаи металл аз ҳиссаи массаи ғайриметалли баъди металл ҷойгиршуда ду маротиба калон аст?
- A) Na_2SO_4 B) CaCO_3 C) $\text{Ba}(\text{NO}_3)_2$ D) CuSO_4
16. Намакҳои аммонийро бо кадом реактив мешиносанд?
- A) кислотаҳо B) оксидҳо C) намакҳо D) ишқорҳо
17. Дар эвдиометр омехтаи 24мл H_2 ва 15 мл O_2 тарконда шуд. Баъди таркиш кадом газ ва чанд мл боқӣ монд?
- A) 3мл H_2 B) 3 мл O_2 C) 2 мл O_2 D) 9 мл H_2
18. Ба алкане, ки формулаи структуриаш дар зер оварда шудааст, ном гузоред.
- $$\begin{array}{c} \text{CH}_3-\text{CH}-\text{CH}-\text{CH}_3 \\ | \quad | \\ \text{CH}_3 \quad \text{CH}_3 \end{array}$$
- A) 1,2-диметилбутан C) 1,4-диметилбутан
B) 1,3-диметилбутан D) 2,3-диметилбутан
19. Дар формулаи $\text{CH}_3 - \text{CH}_2 - \text{CH}_2 - \text{CH}_3$ гибридшавиро бо тартиби муайян нависед.
- A) $sp^2 - sp^2 - sp^2 - sp^3$ B) $sp^3 - sp^2 - sp^2 - sp^3$ C) $sp - sp^2 - sp - sp^2$ D) $sp^3 - sp^3 - sp^3 - sp^3$

20. Мувофиқати ном ва миқдори изомерро муайян намоед.

- A) гептан 1) 3
B) гексан 2) 9
C) бутан 3) 4
D) пентан 4) 5
5) 2

Ҷавоб:

	1	2	3	4	5
A					
B					
C					
D					

21. Мувофиқати аломати элемент ва конфигурацияи электронии онро муайян намоед.

- A) Na 1) $1S^22S^1$
B) C 2) $1S^22S^22P^2$
C) O 3) $1S^22S^22P^63S^1$
D) Mg 4) $1S^22S^22P^63S^2$
5) $1S^22S^22P^4$

Ҷавоб:

	1	2	3	4	5
A					
B					
C					
D					

22. Мувофиқатро муайян кунед.

- A) Fe 1) гурӯҳи I
B) Cl 2) даври IV
C) N 3) даври III
D) Ag 4) гурӯҳи V
5) гурӯҳи III

Ҷавоб:

	1	2	3	4	5
A					
B					
C					
D					

23. Ҳангоми сӯختани 14 грамм бутен чанд литр (ш.м.) ҳаво сарф мешавад, агар ҳиссаи ҳаҷмии оксиген дар ҳаво баробари 21% бошад?

Ҷавоб:

--	--	--	--	--

24. Барои ҳосил кардани маҳдули 5 %-а ба 140 грамм маҳдули 20%-а чанд грамм об илова кардан лозим аст?

Ҷавоб:

--	--	--	--	--

25. Дар натиҷаи гидролизи 2,5 мол эфири мураккаби этилии кислотаи атсетат чанд грамм кислота ҳосил мешавад?

Ҷавоб:

--	--	--	--	--

СУБТЕСТИ ХИМИЯ

Вариант 2

1. Чорвалентагии атоми карбонро кадом олим муайян кардааст?
А) Бутлеров В) Кекуле С) Либих D) Вёлер
2. Сиклопентан чанд изомер дорад?
А) 2 В) 3 С) 4 D) 5
3. Суммаи коэффитсиентҳои реаксияи сӯзиши алюминий дар муҳити оксиген ба чанд баробар аст?
А) 6 В) 7 С) 8 D) 9
4. Дар молекулаи оксиди литий кадом намуди банди химиявӣ мавҷуд аст?
А) ионӣ С) металлӣ
В) ковалентии беқутб D) ковалентии қутбӣ
5. 62 грамм фосфати калсий чанд молро ташкил медиҳад?
А) 0,1 В) 0,2 С) 0,3 D) 0,4
6. Ду атоми алюминий аз се атоми бор чанд нейтрон зиёдтар дорад?
А) 8 В) 9 С) 10 D) 11
7. Массаи молекулавии карбогидрогени ҳаднокеро нишон диҳед, ки дар таркибаш 75% карбон дошта бошад.
А) 30 В) 16 С) 44 D) 58
8. Ба 392 кг кислотаи ортофосфат чанд килограмм оксиди фосфор (V) рост меояд?
А) 142 В) 284 С) 71 D) 355
9. Як молекулаи бутан чанд атоми карбони дуҷома (дуюмин) дорад?
А) 1 В) 2 С) 3 D) 4
10. Муодилаи электролизи маҳлули обии нитрати мис (II)-ро нависед ва массаи молекулавии моддаеро, ки ҳангоми электролиз дар маҳлул мемонад, нишон диҳед.
А) 2 В) 63 С) 64 D) 98
11. Ҳиссаи массаи нитрогенро дар таркиби селитраи аммоний ҳисоб кунед.
А) 35 В) 45 С) 55 D) 60
12. Дар атоми калий чанд s-электрон мавҷуд аст?
А) 19 В) 13 С) 7 D) 5

13. Муодилаи реаксияи ҷойгириро нишон диҳед.
 А) бутен-2+HCl В) бутен-1+ Cl₂ С) пропен +H₂ D) пропан + Cl₂
14. Ҳангоми таъсири 10 грамм карбиди алюминий ба 10 грамм об чанд литр
 гази метан дар (ш.м) хориҷ мешавад?
 А) 3,1 В) 6,2 С) 9,3 D) 4,6
15. Молекулаи панҷатомаро нишон диҳед.
 А) Бутан В) Пропан С) Этан D) Метан
16. Дар таркиби 1,1 диметил-сиклопропан чанд фоиз карбон мавҷуд аст?
 А) 78,5 В) 85,7 С) 58,7 D) 75,8
17. Алкени номаълум, ки массааш 0,84 г аст, 1,6 г бромобро беранг мегардонад.
 Формулаи алкенро муайян намоед ва миқдори атомҳои карбони онро
 нишон диҳед.
 А) 4 В) 5 С) 6 D) 7
18. Барои карбогидрогенҳои қатори этилен ҳодисаи изомерия аз карбони
 чандум сар мешавад?
 А) 1 В) 2 С) 3 D) 4
19. Дар реаксияи ҳосилшавии аммиак аз нитроген ва гидроген ҳангоми паст
 кардани фишор мувозинат ба кадом тараф мелағжад?
 А) рост С) чап
 В) бетағйир D) ба мувозинат вобаста нест
20. Мувофиқати байни ном ва формулаи молекулавии карбогидрогенҳои
 этиленро муайян намоед.
- | | |
|-----------|-----------------------------------|
| А) бутен | 1) C ₅ H ₁₀ |
| В) пропен | 2) C ₆ H ₁₂ |
| С) гексен | 3) C ₄ H ₈ |
| Д) пентен | 4) C ₃ H ₆ |
| | 5) C ₂ H ₄ |
- Ҷавоб:

	1	2	3	4	5
A					
B					
C					
D					

21. Мувофиқати байни формула ва номи намакро нишон диҳед.

Формулаи намак

A) K_2SO_4

B) $NaCl$

C) NaI

D) $AlCl_3$

Номи пайвастагӣ

1) хлориди натрий

2) хлориди алюминий

3) сулфати калий

4) йодиди натрий

5) сулфати натрий

Ҷавоб:

	1	2	3	4	5
A					
B					
C					
D					

22. Мувофиқати байни формулаи моддаҳо ва дараҷаи оксидшавии атоми фосфорро дар онҳо муайян намоед.

A) HPO_3

B) P_2O_3

C) PH_3

D) P

1) +2

2) -3

3) +3

4) 0

5) +5

Ҷавоб:

	1	2	3	4	5
A					
B					
C					
D					

23. Реаксия дар $30^\circ C$ дар 48 дақиқа ба охир мерасад. Агар ҳароратро ду маротиба зиёд кунем, реаксия дар чанд дақиқа ба охир мерасад? Коэффитсиенти ҳароратии суръати реаксия ба 2 баробар аст.

Ҷавоб:

--	--	--	--

24. Ҳангоми таркиши 3 грамм ҳидроген ва 40 грамм оксиген чанд грамм об ҳосил мешавад?

Ҷавоб:

--	--	--	--

25. Омехтаи этилен ва этан аз зарфи бромдор гузаронида шуд. Дар натиҷаи реаксия массаи зарф ба 16 г зиёд шуд. Чанд литр газ дар (ш.м.) ба реаксия дохил шудааст?

Ҷавоб:

--	--	--	--

СУБТЕСТИ БИОЛОГИЯ

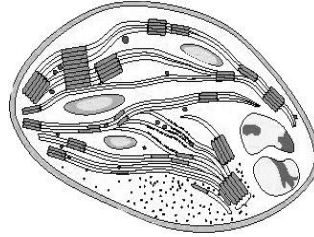
Варианти 1

1. Кадоме аз ин моддаҳо ғайриорганикӣ мебошад?

- А) сафеда В) об С) оҳар D) равған

2. Дар расм кадом органоиди ҳуҷайра нишон дода шудааст?

- А) митохондрия
В) ядро
С) рибосома
D) хлоропласт



3. Маҷмӯи мубодилаҳои пластикӣ ва энергетикӣ чӣ ном дорад?

- А) транскриптсия В) хемосинтез С) метаболизм D) транслятсия

4. Равандеро, ки бо он растанӣ аз ҳайвон фарқ мекунад, нишон диҳед.

- А) бордоршавӣ В) инкишоф С) афзоиш D) фотосинтез

5. Дар кадом органоиди ҳуҷайра синтези сафеда мегузарад?

- А) рибосома С) маҷмаи Голҷӣ
В) митохондрия D) тӯри эндоплазмавӣ

6. Дар фардҳои генотипашон ААВв чӣ гуна гаметаҳо пайдо мешаванд?

- А) АВ, Ав В) АА, Вв С) АВ, АВ D) АВ, ав

7. Генҳо дар кадом қисми ҳуҷайра ҷойгиранд?

- А) митохондрия В) хромосома С) ҷилди ҳуҷайра D) ситоплазма

8. Маҷмӯи аломатҳои морфологию физиологии организм чӣ ном дорад?

- А) генотип С) генофонд
В) фенотип D) мутатсия

9. Дар вақти ҷуфтikuнонии гулҳои сафед ва сурхи шомусаҳар дар насли якум кадом ранги гулҳо пайдо мешавад?

- А) 100% сурх С) 100% гулобӣ
В) 100% сафед D) 50% сурх, 50% сафед

10. Растании худрӯйро нишон диҳед.

- А) гандум В) бобуна С) зағир D) офтобпараст

11. Аз байни ин растаниҳо кадомаш ба гурӯҳи яксола дохил мешавад?

- А) тарбуз В) пиёз С) шалғам D) карам

12. Моддаҳои захиравии сабзӣ дар кучо ҷойгир шудаанд?

- A) реша B) бехмева C) поя D) барг

13. Аз пахта чӣ истеҳсол карда мешавад?

- A) равған B) шакар C) орд D) оҳар

14. Афзоиши бебордоршавии организмро чӣ меноманд?

- A) нашвӣ B) партеногенез C) чинсӣ D) тухмӣ

15. Тортанаки салибдор ба кадом типии ҳайвонот мансуб аст?

- A) рӯдаковокҳо B) хордадорон C) бандпойҳо D) нармбаданҳо

16. Хитин ба рӯйпӯши бадани бандпойҳо чӣ гуна хусусият медиҳад?

- A) шаффофӣ B) луобӣ C) сахтӣ D) нафисӣ

17. Маҷроии чигар дар кадом қисми ҳозима кушода мешавад?

- A) рӯдаи борик C) рӯдаи дувоздаҳангушта
B) кӯррӯда D) рӯдаи ғафс

18. Кадом ғадуд ҳормони йоддоштаро ҳосил мекунад?

- A) зери меъда C) ҳипофиз
B) болои гурда D) сипаршакл

19. Чашми одам аз рӯйи иҷроии вазифа ба кадом гурӯҳи узвҳо дохил мешавад?

- A) аъзои ҳис B) ҳозима C) нафаскашӣ D) ҳаракат

20. Омилии паҳншавии қутос дар баландкӯҳҳои Тоҷикистон кадом аст?

- A) микробиологӣ B) физиологӣ C) географӣ D) генетикӣ

21. Номи илмҳои биологиро бо мавзӯи омӯзиши онҳо мувофиқ намоед.

- A) ситология 1) илм дар бораи растаниҳо
B) ботаника 2) илм дар бораи ҳайвонҳо
C) зоология 3) илм дар бораи ҳуҷайра
D) биология 4) илм дар бораи ҳаёт
5) илм дар бораи бофтаҳо

	1	2	3	4	5
A					
B					
C					
D					

Ҷавоб:

22. Мувофиқати байни номҳои растаниҳо ва шаклҳои меваҳоро муайян намоед.

- A) турб 1) мағзакмева
B) ҷуворимакка 2) ғилофак
C) пахта 3) кӯсак
D) лӯбиё 4) ғӯза
5) дона

	1	2	3	4	5
A					
B					
C					
D					

Ҷавоб:

23. Аз рӯи расм номи ҳайвонҳоро муайян намоед.

A)



B)



C)



D)



- 1) хорпушт
- 2) чайра
- 3) хокканак
- 4) қундузи дарёӣ
- 5) санҷоб

Ҷавоб:

	1	2	3	4	5
A					
B					
C					
D					

24. Муайян намоед, ки ҳар як узв ба кадом системаи аъзо тааллуқ дорад.

- | | |
|--------------|-----------------------------|
| A) мағзи сар | 1) системаи хунгард |
| B) меъда | 2) системаи асаб |
| C) тухмдон | 3) системаи ҳозима |
| D) хирной | 4) системаи нафаскашӣ |
| | 5) системаи афзоишу инкишоф |

Ҷавоб:

	1	2	3	4	5
A					
B					
C					
D					

25. Барои ҳар намуди беморӣ аломатҳои мувофиқро муайян намоед.

- | | |
|---------------|------------------------------------|
| A) кариес | 1) ранги зарди пӯст ва пардаи чашм |
| B) зуком | 2) луоби зиёд аз биниву чашм |
| C) табларза | 3) пӯсидани бофтаи дандон |
| D) зардпарвин | 4) ҳарорати баланди бадан |
| | 5) камшавии миқдори гемоглобин |

Ҷавоб:

	1	2	3	4	5
A					
B					
C					
D					

26. Муносибати мутақобилаи организмҳоро (сутуни 1) бо мисолҳои овардашуда (сутуни 2) мувофиқ намоед.

- | | |
|----------------|-----------------------|
| A) кооператсия | 1) замбӯруғ ва тӯс |
| B) мутуализм | 2) гург ва заргӯш |
| C) муфтхӯрӣ | 3) чигармак ва гов |
| D) даррандагӣ | 4) кафтор ва рӯбоҳ |
| | 5) харчанг ва актиния |

Ҷавоб:

	1	2	3	4	5
A					
B					
C					
D					

СУБТЕСТИ ГЕОГРАФИЯ

Вариант 1

1. Масоҳати умумии пирияхҳои Тоҷикистон чанд км² – ро ташкил медиҳад?

- A) 5,8 ҳаз. км² B) 9,0 ҳаз. км² C) 8,5 ҳаз. км² D) 12,3 ҳаз. км²

2. Ҷазираи калонтарини ҷаҳон кадом аст?

- A) Гренландия B) Мадагаскар C) Исландия D) Куба?

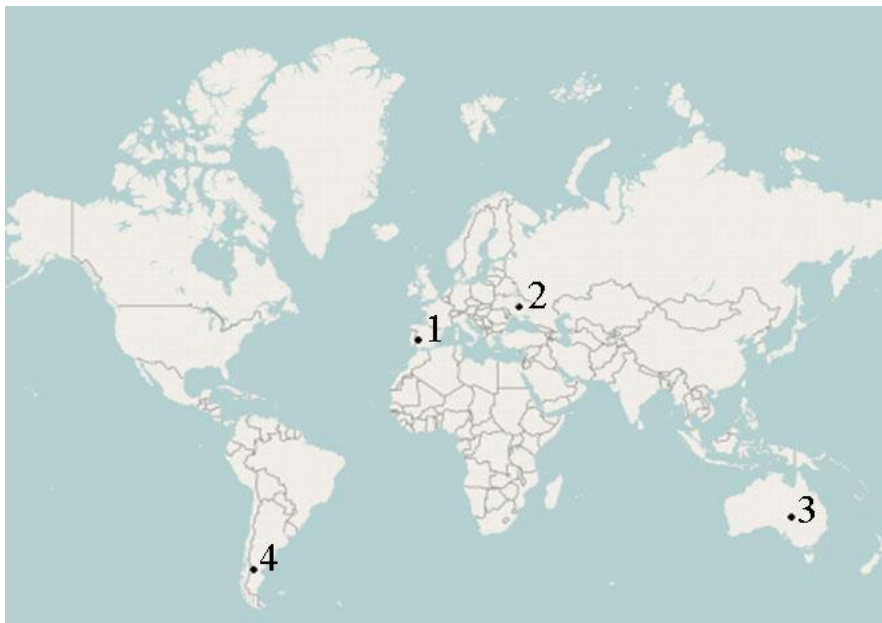
3. Асосгузори илми география кист?

- A) Эратосфен B) Бехайм C) Арасту D) Архимед

4. Дар Тоҷикистон кадом ноҳияи иқтисодӣ 2 ноҳияи табииро дар бар мегирад?

- A) Вахш B) Ҳисор C) Суғд D) Кӯлоб

5. Дар харитаи контурӣ давлати Испания бо кадом рақам ишора шудааст?



- A) 1 B) 2 C) 3 D) 4

6. Кадом баҳр Австралияро аз Зеландияи Нав ҷудо мекунад?

- A) баҳри Фиджи B) баҳри Тасман C) баҳри Марҷон D) баҳри Арафур

7. Кадоме аз ин давлатҳо аз ҷиҳати бузургии масоҳат дар дунё ҷойи аввалро ишғол менамояд?

- A) ИМА B) Канада C) Россия D) Австралия

8. Кашфи Антарктида ба кадом аз ин сайёҳон таалуқ дорад?

- A) Лазарев ва Беллинсгаузен C) Христофор Колумб ва Бехайм
B) Абел Тасман ва Магеллан D) Арасту ва Эротосфен

9. Арзи географӣ чист?

- A) масофаи нуқтае, ки аз хатти нисфирӯзии асосӣ ба самти Ғарб ва ё Шарқ бо дараҷа ифода ёфтааст
- B) масофаи нуқтае, ки аз хатти истиқво ба самти Шимол ва ё Ҷануб бо дараҷа ифода ёфтааст
- C) фарқияти байни арз ва тӯли географӣ
- D) масофаи байни тропики ҷанубӣ ва шимолӣ

10. Масоҳати тамоми хушкии кураи Замин ба чанд км² баробар аст?

- A) 510 млн. км²
- B) 310 млн. км²
- C) 149 млн. км²
- D) 260 млн. км²

11. Дар кадоме аз ҷавобҳо ҳамаи биёбонҳо дар материкаи Аврусиё ҷойгир шудаанд?

- A) Саҳрои Кабир, Намибия, Калахари
- B) Такла - Макан, Намибия, Калахари
- C) Гоби, Саҳрои Кабир, Рубен – Хали
- D) Такла - Макан, Гоби, Қизилқум

12. Кадом аз ин метерикҳоро ҳамаи чор уқёнус ихота кардааст?

- A) Африқо
- B) Аврусиё
- C) Австралия
- D) Антарктида

13. Минтақаи гармтарини Тоҷикистон кадом аст?

- A) Айваҷ
- B) Тоҷикистони Марказӣ
- C) Ромит
- D) Помири Ғарбӣ

14. Масоҳати умумии оби сатҳи Замин чӣ қадар аст?

- A) 149 млн. км²
- B) 510 млн. км²
- C) 361 млн. км²
- D) 143 млн. км²

15. Дар қитъаи Амрико кадоме аз ин системаи кӯҳҳо дар ҷаҳон дарозтарин ба шумор меравад?

- A) Кордилер
- B) Анд
- C) Аппалачи
- D) Паҳнкӯҳи Бразилия

16. Кадоме аз минтақаҳои иқлимии номбаршуда ба Тоҷикистон тааллуқ дорад?

- A) субтропикаи муътадил, биёбонӣю баландкӯҳӣ
- B) экваторӣ, муътадил, биёбонӣю даштӣ
- C) субтропикӣ, тропикӣ
- D) субтропикаи муътадил, субэкваторӣ, биёбонӣю баландкӯҳӣ

17. Дарозии хатти экватор (истиво) чанд километр аст?

- A) 150 млн. км
- B) 149 ҳаз. км
- C) 400 млн. км
- D) 40 ҳаз. км

18. Аврупо ро аз Осиё кадом қаторкӯҳҳо ҷудо мекунанд?

- A) Байка
- B) Карпат
- C) Кавказ
- D) Урал

19. Захираи меҳнатӣ чист?

- A) хоҷагии халқ
- B) хоҷагии қишлоқ
- C) заводу фабрика
- D) аҳолии қобили меҳнат

20. Кадом давлат аз ҷиҳати захираи гази табиӣ дар дунё дар ҷойи аввал меистад?

- A) Хитой
- B) Канада
- C) Русия
- D) Австралия

21. Муайян намоед, ки кадом кӯл дар кадом материк ҷойгир аст?

Кӯлҳо

- A) Сарез
- B) Эйр
- C) Чад
- D) Титикака

Материкҳо

- 1) Аврусиё
- 2) Африқо
- 3) Австралия
- 4) Амрикои Ҷанубӣ
- 5) Амрикои Шимолӣ

Ҷавоб:

	1	2	3	4	5
A					
B					
C					
D					

22. Муайян намоед, ки ба ҳар як саноат кадом соҳа мувофиқан мансуб аст.

Саноат

- A) саноати вазнин
- B) саноати сабук
- C) саноати озуқа (хӯрокворӣ)
- D) саноати сохтмон

Соҳаҳо

- 1) бофандагӣ
- 2) мошинсозӣ
- 3) оҳану бетон
- 4) қаннодӣ
- 5) атторӣ

Ҷавоб:

	1	2	3	4	5
A					
B					
C					
D					

23. Муайян намоед, ки дар харита кадом шаҳр мувофиқан бо кадом рақам ишора шудааст.

- A) Кӯлоб
- B) Душанбе
- C) Хуҷанд
- D) Хоруғ



Ҷавоб:

	1	2	3	4	5
A					
B					
C					
D					

24. Муайян намоед, ки кадом обанбор мувофиқан дар кадом дарё ҷойгир аст.

Обанборҳо

- A) Каттасой
- B) Фарҳод
- C) Селбур
- D) Норак

Дарёҳо

- 1) Қизилсу
- 2) Вахш
- 3) Сир
- 4) Зарафшон
- 5) Каттасой

Ҷавоб:

	1	2	3	4	5
A					
B					
C					
D					

25. Барои ҳар як давлат пойтахти дурустро интихоб намоед.

Давлатҳо

- A) Ҷопон
- B) Индонезия
- C) Олмон
- D) Молдова

Пойтахтҳо

- 1) Берлин
- 2) Тошкент
- 3) Токио
- 4) Ҷакарта
- 5) Кишинёв

Ҷавоб:

	1	2	3	4	5
A					
B					
C					
D					

ENGLISH LANGUAGE

Version 1

Read the text and choose the right answer. (1-8)

Princess Goldenhair

There was once a King's daughter who was the most beautiful thing in the world. Her hair was fair and very long. They called her the Princess Goldenhair.

A handsome young King in the neighbourhood fell deeply in love with her. He could neither eat nor sleep. So he sent an ambassador with more than a hundred horses, to bring the Princess to the King. He wanted to marry her. But the Princess Goldenhair sent a message to the young King. She thanked him and said that she did not wish to marry.

When the King heard of her rejection he wept like a child.

At his Court there was a young man called Avenant. He was as beautiful as the sun. Everybody loved him except a few envious people. One day, Avenant said in front of these people:

"If the King sends me to fetch the Princess Goldenhair, I am certain she will come." Soon, these bad envious people repeated his words to the King. It made him very angry, and he wanted to speak to Avenant.

"You mocked me," said the King. "You say that you will bring the princess."

"It is true, sir," replied Avenant, "I say so, because I will be a good representative and bring the princess for you."

1. What is the main idea of the story?

- A) Unanswered love. B) Future love. C) Family love. D) Cruel love.

2. Why couldn't the young King eat and sleep?

- A) He had a terrible illness. C) He had feelings for a young lady.
B) He had such a habit. D) He had no time.

3. What was the mission of ambassador?

- A) Agreement with the lady. C) Agreement with Avenant.
B) Agreement with the King. D) Agreement with the representative.

4. Princess Goldenhair ... the young King.

- A) agreed with B) loved C) hated D) refused

5. What was Avenant like?

- A) A handsome young man. C) A modern young man.
B) An old fashioned man. D) A jealous young man.

6. The king became angry with Avenant because of Avenant's ...?

- A) self-confidence B) envy C) love D) beauty

7. What did Avenant promise the King?

- A) To praise him. C) To be his friend.
B) To bring the old king. D) To bring the lady.

8. Who fell in love in the tale?

- A) The young man.
 B) The young Princess.
 C) The young King.
 D) The young ambassador.

Read the text and choose the right answer. (9-16)

Sympathy

A beggar thought of ___9___ new scheme for working on the sympathy of the housewife. After ___10___ rang the front door bell, he got ___11___ his knees, and ___12___ eating the grass of the lawn. The woman opened the door, and, in surprise ___13___ she saw him asked what he ___14___ there. The beggar stood up, put his hand onto his stomach and explained:

“Dear madam, I am so hungry that I just started to eat grass.”

“Well, well, now that ___15___ horrible!” the woman cried. “You poor thing, go right into the back yard the grass there is ___16___ and seems fresher.”

9. A) - B) the C) a D) an
 10. A) he B) she C) it D) they
 11. A) in B) on C) at D) of
 12. A) begins B) begin C) began D) begun
 13. A) where B) when C) how D) what
 14. A) were doing B) was doing C) is doing D) are doing
 15. A) are B) were C) is D) was
 16. A) longer B) longest C) the longest D) the long

17. Match the sentences in column A with their continuations in column B.

- | | |
|--------------------------------|--------------------------------------|
| A) I have a bedroom which | 1) to make sand castles. |
| B) I usually go to the library | 2) to go to Takob for the weekend. |
| C) My family decided | 3) to prepare my report. |
| D) The children ran home | 4) to watch their favourite cartoon. |
| | 5) I use as a study. |

Answer:

	1	2	3	4	5
A					
B					
C					
D					

18. Match the sentences in column A with their continuations in column B.

- | | |
|-----------------------|-------------------------------------|
| A) We often meet | 1) him to be brave. |
| B) They usually show | 2) her about his travelling. |
| C) Akbar always tells | 3) she finishes the short stories. |
| D) Amina wants | 4) us the right way of translation. |
| | 5) them in the park. |

Answer :

	1	2	3	4	5
A					
B					
C					
D					

19. Match the sentences in column A with their continuations in column B.

- | | |
|---|---------------------------------------|
| A) The course of study at the university is | 1) the largest city in the world. |
| B) Tokyo is one of | 2) the smallest country in the world. |
| C) This narrow path is | 3) warmer than May. |
| D) Vatican is | 4) longer than at college. |
| | 5) the shortest one to the river. |

Answer :

	1	2	3	4	5
A					
B					
C					
D					

20. Match the sentences in column A with the replies in column B.

- | | |
|--|-------------------------------|
| A) What a beautiful summer day! | 1) Great! |
| B) Hey, I've an idea. Can I invite you to my lovely place? | 2) See you tomorrow. |
| C) Do you see all those people? | 3) Sure, I'd love to. |
| D) Let's join them. | 4) Yes it's really wonderful. |
| | 5) Yes, they are dancing. |

Answer :

	1	2	3	4	5
A					
B					
C					
D					

ENGLISH LANGUAGE

Version 2

Read the text and choose the right answer. (1-8)

Blind and kind

Philip is 55 and blind. He has been blind since birth. He says he does not feel like he is missing anything, because he cannot imagine what sight is like. He can smell a rose, but he cannot tell if it is red, white, or blue. It does not matter to him. He enjoys the beauty of the scent itself.

People sometimes take pity on him, but he tells them he is a contented man. He does not feel cheated by Mother Nature. The doctors never figured out why he was born blind. It is difficult for him to travel. He cannot drive, of course. He travels by bus. At home, he cannot just look out of the window to see what the weather is like, and then dress appropriately. He can't look at the clock on the wall to see what time it is. He uses his Braille watch or a special radio for that.

1. What is the main idea of the story?

- A) Disrespect for a blind man. B) Sympathy for a blind man.
C) Dislike to a blind man. D) Cooperation with a blind man.

2. Philip has been blind....

- A) since he was 55 C) since he felt cheated by Mother Nature
B) since his birth D) since people took pity on him

3. Philip always feels....

- A) anger B) displeased C) happiness D) pleased

4. Why does Philip always travel by bus?

- A) He doesn't have his own car. C) He isn't allowed to drive.
B) He can't drive a car. D) He doesn't like to drive.

5. Philip is blind because of....

- A) neglect for him B) a disease C) genetic factor D) the doctors

6. What does he feel about Mother Nature?

- A) Not positive emotions. C) Disagreement.
B) Not negative emotions. D) Aggressive.

7. What does he enjoy?

- A) The beauty of thoughts. C) The beauty of nature.
B) The beauty of roses. D) The beauty of smell.

8. What kind of watch and radio did he use?

- A) A particular one B) A difficult one C) An ordinary one D) A strange.

Read the text and choose the right answer. (9-16)

The greatest epidemic

The greatest epidemic was the infection which broke out ___9___1665. It was a sad time for London. The streets were empty, shops were close and there were few boats on the Thames. Every house in which there were sick people was shut up, no one ___10___ to go in or out, and the door of the house was marked with a red cross.

The following year the Great Fire took place. It ___11___ out late on Saturday night in a street not far from London Bridge. The summer ___12___ dry, a hot east wind ___13___ and the fire spread quickly. This is what we read in the diary of John Evelyn who saw the terrible fire with ___14___ own eyes. "The Thames was covered with boats full of people. On the other side one ___15___ see carts carrying the saved goods out into the fields and people putting up tents. At night the fire could be seen ten miles away". The fire burned for five days and destroyed ___16___ greater part of the ill city. But it did the city good, as it cleared away the old wooden house and the dirty, narrow streets.

- | | | | | |
|-----|----------------|-----------------|-----------------|----------------|
| 9. | A) on | B) in | C) at | D) of |
| 10. | A) was allowed | B) were allowed | C) is allowed | D) are allowed |
| 11. | A) break | B) broke | C) broken | D) breaks |
| 12. | A) have been | B) been | C) had been | D) be |
| 13. | A) was blowing | B) is blowing | C) were blowing | D) are blowing |
| 14. | A) it | B) him | C) its | D) his |
| 15. | A) must | B) can | C) should | D) could |
| 16. | A) a | B) an | C) - | D) the |

17. Match the sentences in column A with the replies in column B.

- | | |
|---|--------------------------|
| A) Hello, Rustam! | 1) Yes, of course. |
| B) I haven't seen you for ages.
Where have you been? | 2) Good-bye. |
| C) Were you at Big Ben? | 3) Hi, Karim. |
| D) How did you like it? | 4) I've been to Britain. |
| | 5) I liked it very much. |

Answer :

	1	2	3	4	5
A					
B					
C					
D					

18. Match the sentences in column A with the replies in column B.

- | | |
|--|--|
| <p>A) What's the matter, David?
You look very unhappy.</p> <p>B) You had better go and see your dentist, hadn't you?</p> <p>C) How about trying to find another dentist who can see you today?</p> <p>D) Recover soon.</p> | <p>1) I'd rather wait until tomorrow.</p> <p>2) Bad toothache. It's been hurting me all day.</p> <p>3) Thank you.</p> <p>4) I have both.</p> <p>5) I was unable to make an appointment with him for today.</p> |
|--|--|

Answer :

	1	2	3	4	5
A					
B					
C					
D					

19. Match the definitions in column A with the replies in column B.

- | | |
|---|--|
| <p>A) An area of grassland.</p> <p>B) The two companions.</p> <p>C) Very small.</p> <p>D) Very large.</p> | <p>1) Huge.</p> <p>2) Tiny.</p> <p>3) Medium.</p> <p>4) Close friends.</p> <p>5) Meadow.</p> |
|---|--|

Answer :

	1	2	3	4	5
A					
B					
C					
D					

20. Match the sentences in column A with the replies in column B.

- | | |
|--|--|
| <p>A) A polyglot is a person who</p> <p>B) A storyteller is a person who</p> <p>C) A speaker is a person who</p> <p>D) A record holder is a person who</p> | <p>1) rebuilds houses.</p> <p>2) breaks records.</p> <p>3) speaks at a meeting.</p> <p>4) tells stories.</p> <p>5) speaks and uses many languages.</p> |
|--|--|

Answer :

	1	2	3	4	5
A					
B					
C					
D					

DEUTSCHE SPRACHE

1. Version

Lesen Sie bitte den Text. Wählen Sie danach die richtige Antwort aus (1-8).

Meine Pläne für die Zukunft

Vor jedem Menschen steht irgendwann die Frage, welchen Beruf er sich wählt. Ich bin Thomas und als ich auch noch klein war, träumte ich davon möglichst schnell groß zu werden. In der Kindheit wollte ich wie mein Vater Ingenieur werden. Aber in der Schule änderten sich meine Interessen. Ich trieb gern Sport, fuhr Motorrad, malte gern, aber am meisten interessierte ich mich für Deutsch. Vor dem Schulabschluss habe ich mir vorgenommen Dolmetscher zu werden. Meiner Meinung nach muss ein moderner Mensch wenigstens eine Fremdsprache gut kennen. Das Interesse für die Fremdsprachen ist bei uns sehr groß. Nicht nur Schüler und Studenten, sondern auch Tausende von Erwachsenen lernen im Fernunterricht und auch individuell Deutsch, Englisch, Französisch oder eine andere Fremdsprache. Die Kenntnis der Fremdsprachen spielt eine sehr große Rolle im Leben des Menschen. Die Dolmetscher helfen den Menschen sich miteinander zu verständigen. Die Fremdsprache lehrt die eigene Sprache besser zu verstehen und sie zu lieben. Auch hilft die Fremdsprache die Kultur und das Leben eines anderen Volkes besser kennenzulernen. Ich habe vor mindestens Deutsch und Englisch zu erlernen.

Was passt am besten für jede Frage?

1. Worum geht es in diesem Text?

- | | |
|---|-------------------------------|
| A) Um die zukünftigen Pläne eines Schülers. | C) Um die Erwachsenen. |
| B) Um die Kultur eines anderen Landes. | D) Um die deutsche Literatur. |

2. Was wollte er früher werden?

- | | |
|-------------------|-----------------|
| A) Deutschlehrer. | C) Dolmetscher. |
| B) Sportler. | D) Ingenieur. |

3. Für welche Sprache hatte er in der Schulzeit am meisten Interesse?

- | | |
|------------------|------------------------|
| A) Für Deutsch. | C) Für Französisch. |
| B) Für Englisch. | D) Für andere Sprache. |

4. Was wollte er später werden?

- | | |
|-------------------|---------------|
| A) Dolmetscher. | C) Ingenieur. |
| B) Deutschlehrer. | D) Sportler. |

5. Wofür interessieren sich die Menschen?

- | | |
|----------------------------|---------------------------|
| A) Für den Sport. | C) Für die Fremdsprachen. |
| B) Für den Fernunterricht. | D) Für den Motorrad. |

6. Welche Rolle spielt die Fremdsprachenkenntnis für die Menschen?

- | | |
|-------------|---------------------|
| A) Riesige. | C) Wenige. |
| B) Kleine. | D) Nicht besonders. |

7. Ist seiner Meinung nach der Beruf des Dolmetschers für die Gesellschaft nützlich?

- A) Nein. C) Auf keinen Fall.
B) Sicher. D) Nie.

8. Auf das Lernen welcher Sprachen schenkt er mehr Aufmerksamkeit?

- A) Deutsch und Französisch. C) Deutsch und andere Fremdsprache.
B) Englisch und Französisch. D) Deutsch und Englisch.

Lesen Sie bitte den Text. Wählen Sie danach die richtige Antwort aus (9-16).

Meine Ferien

Ich habe meine Ferien auf dem Lande verbracht. Unser Landhaus 9 im Wald. Die Gegend ist dort schön. Dort gibt es einen großen See 10 viele Wiesen. Der See ist sehr hübsch. Das Landhaus liegt günstig: man läuft zur Bushaltestelle nur 10 Minuten. Das Haus 11 klein. Es hat nur ein Zimmer und 12 Küche im Erdgeschoss. Wir haben keinen Keller, aber wir haben einen Sportplatz und ein Schwimmbad. Das Schwimmbad liegt in 13 Nähe. Ich war im Landhaus in diesem Sommer mit meinem Bruder. Dort gibt es kein Kino, deshalb 14 wir mit unseren Freunden Fußball und Tennis gespielt. Auch habe ich interessante Bücher gelesen. Zum Beispiel, habe ich ein deutsches Lehrbuch gelesen. Wenn 15 regnete, habe ich Musik gehört und Filme gesehen. Zweimal bin ich in den Wald gegangen 16 Beeren zu sammeln. Es war sehr lustig.

- | | | | | |
|-----|----------|------------|------------|------------|
| 9. | A) legt | B) hat | C) liegt | D) gibt es |
| 10. | A) und | B) aus | C) kein | D) zum |
| 11. | A) hat | B) gibt es | C) ist | D) legt |
| 12. | A) ein | B) eine | C) einen | D) eines |
| 13. | A) das | B) die | C) der | D) dem |
| 14. | A) haben | B) sind | C) spielen | D) seid |
| 15. | A) er | B) sie | C) es | D) wir |
| 16. | A) um | B) weil | C) denn | D) sind |

17. Was passt? Ordnen Sie bitte zu.

- | | |
|---------------------------------|---------------------------|
| A) Woran denken Sie? | 1) Auf ihn |
| B) Was ist dein Lieblingsfach? | 2) Freitag |
| C) Auf wen warten Sie? | 3) Danke, es geht mir gut |
| D) Welcher Wochentag ist heute? | 4) An meine Zukunft |
| | 5) Deutsch |

	1	2	3	4	5
A					
B					
C					
D					

Antwort:

18. Was passt? Ordnen Sie bitte zu.

- | | |
|--------------------------|-------------------------|
| A) Mit wem sprechen Sie? | 1) Fotima. |
| B) Wann kommen Sie? | 2) Mit meiner Freundin. |
| C) Wo arbeiten Sie? | 3) Am Freitag. |
| D) Wie ist Ihr Vorname? | 4) In der Schule. |
| | 5) Danke schön. |

Antwort:

	1	2	3	4	5
A					
B					
C					
D					

19. Was passt? Ordnen Sie bitte zu.

- | | |
|---------------------------------|-------------------------------|
| A) Haben Sie Kinder? | 1) 992 935851 |
| B) Welche Sprache sprechen Sie? | 2) Ja, ich habe eine Tochter. |
| C) Wohin gehen die Kinder? | 3) Am Montag. |
| D) Wie ist Ihre Telefonnummer? | 4) In die Schule. |
| | 5) Tadschikisch. |

Antwort:

	1	2	3	4	5
A					
B					
C					
D					

20. Was passt? Ordnen Sie bitte zu.

- | | |
|---------------------|-------------------------|
| A) Wo ist hier | 1) am Flughafen ab? |
| B) Seit wann lernen | 2) eine Bushaltestelle? |
| C) Ist der Zug | 3) Sie Deutsch? |
| D) Holen Sie mich | 4) pünktlich? |
| | 5) 8 Uhr? |

Antwort:

	1	2	3	4	5
A					
B					
C					
D					

DEUTSCHE SPRACHE

2. Version

Lesen Sie bitte den Text. Wählen Sie danach die richtige Antwort aus (1-8).

Familie

Die Familie Lumsden wohnt in Berlin. Sie ist nicht groß. Das sind vier Personen: Lutz, Marina und ihre zwei Kinder. Lutz ist 41 Jahre alt und seine Frau ist 38. Er ist als Ingenieur in einem Betrieb tätig. Marina ist Lehrerin und unterrichtet Deutsch und Literatur in einer Schule. Sie sind seit 15 Jahren verheiratet. Die Tochter heißt Sarah. Sie ist 14 Jahre alt, sie lernt noch in der Schule in der 9. Klasse. Ihr Lieblingsfach ist Geschichte. Sarah will Geschichte auch weiter an einer pädagogischen Hochschule studieren und in der Zukunft Geschichtslehrerin werden. Lutz und Marina haben noch einen Sohn. Er heißt Knut. Er ist 4 Jahre jünger als Sarah. Knut geht in die 6. Klasse und treibt gern Sport. Er spielt gut Fußball. Das macht ihm Spaß.

Die Eltern von Marina wohnen bei Berlin auf dem Lande. Ihr Vater arbeitet noch als Wächter. Die Mutter von Marina ist schon Rentnerin. Sie kommt oft nach Berlin und hilft ihrer Tochter beim Haushalt. Lutz hat eine Schwester. Sie heißt Veronika. Sie arbeitet als Buchhalterin. Veronika ist ledig und wohnt allein. Aber ihre Nichte Sarah und ihr Neffe Knut kommen oft zu ihr in den Ferien.

Was passt am besten für jede Frage?

1. Worum geht es in diesem Text?

- A) Um eine Frau B) Um eine Familie C) Um eine Mutter D) Um einen Sohn

2. Was ist der Vater von Sarah und Knut von Beruf?

- A) Ingenieur B) Lehrer C) Wächter D) Buchhalter

3. Aus wie vielen Personen besteht die Familie Lumsden?

- A) Aus 14 Personen B) Aus 4 Personen C) Aus 15 Personen D) Aus 9 Personen

4. Wie heißen die Kinder?

- A) Veronika und Knut B) Sarah und Marina C) Knut und Marina D) Sarah und Knut

5. Was will ihre Tochter werden?

- A) Buchhalterin B) Deutschlehrerin C) Geschichtslehrerin D) Ingenieurin

6. Wie alt ist Knut?

- A) 4 Jahre alt B) 14 Jahre alt C) 15 Jahre alt D) 10 Jahre alt

7. Wie viele Kinder hat Veronika?

- A) Ein Kind B) Zwei Kinder C) Kein Kind D) Vier Kinder

8. Wann besuchen die Kinder von Lutz ihre Tante?

- A) Niemals B) In der Schulzeit C) In 4 Jahren D) In den Ferien

Lesen Sie bitte den Text. Wählen Sie danach die richtige Antwort aus (9-16).

Umweltschutz

Die Natur ist eine natürliche Umwelt, die uns umgibt. Das sind Tiere und Pflanzen, Bodenschätze und Luft, Flüsse, Seen und Meere. In 9 letzten Jahrzehnten diskutiert man viel 10 den Umweltschutz. Das Ozonloch, 11 Waldsterben, die Luft -und Wasserverschmutzung bedrohen unser Leben.

Die Natur 12 in der modernen Welt stark belastet. Städte, Industriewerke, Verkehrswege nehmen viel Platz ein. Autos vergiften Luft, Wasser und Boden. 13 stoßen viele Schadstoffe aus.

Der Wald ist nicht gesund. Das Leben 14 Gesundheit der Menschen, Tiere und Pflanzen sind in Gefahr. Viele Tiere und Pflanzen stehen unter dem Naturschutz, 15 sie selten geworden sind. Einige 16 verschwunden. Darum bekommt jetzt der Umweltschutz eine große Bedeutung.

- | | | | | |
|-----|---------|---------|-------------|----------|
| 9. | A) den | B) dem | C) des | D) die |
| 10. | A) auf | B) über | C) zum | D) oben |
| 11. | A) das | B) der | C) den | D) des |
| 12. | A) ist | B) bist | C) seid | D) bin |
| 13. | A) Du | B) Ihr | C) Er | D) Sie |
| 14. | A) und | B) aufs | C) zum | D) ins |
| 15. | A) denn | B) weil | C) außerdem | D) wegen |
| 16. | A) sind | B) seid | C) habt | D) sein |

17. Was passt? Ordnen Sie bitte zu.

- | | |
|-----------------------------------|------------------------------|
| A) Haben Sie Kinder? | 1) Danke, es geht mir gut. |
| B) Woran haben Sie gedacht? | 2) Deutsch. |
| C) Welcher Wochentag war gestern? | 3) Ja, ich habe zwei Kinder. |
| D) Wie geht es Ihnen? | 4) An meine Zukunft |
| | 5) Freitag |

	1	2	3	4	5
A					
B					
C					
D					

Antwort:

18. Was passt? Ordnen Sie bitte zu.

- | | |
|----------------------------------|-----------------------------------|
| A) Mit wem haben Sie gesprochen? | 1) Deutsch. |
| B) Was war Ihr Lieblingsfach? | 2) Ja, ich möchte Wasser trinken. |
| C) Haben Sie Durst? | 3) Nein, ich habe es eilig. |
| D) Haben Sie Zeit zum Essen? | 4) Mit meinem Freund. |
| | 5) In die Schule. |

	1	2	3	4	5
A					
B					
C					
D					

Antwort:

19. Was passt? Ordnen Sie bitte zu.

- | | |
|--------------------------------|-----------------------------------|
| A) Ich fahre am liebsten | 1) ist sehr wichtig. |
| B) Dieses Buch | 2) den Kindern. |
| C) Zweimal bin ich in den Wald | 3) Danke, es geht mir gut. |
| D) Er spricht mit | 4) nach Deutschland. |
| | 5) gegangen um Beeren zu sammeln. |

Antwort:

	1	2	3	4	5
A					
B					
C					
D					

20. Was passt? Ordnen Sie bitte zu.

- | | |
|---|-------------------------------|
| A) Auf wen haben Sie gewartet? | 1) Am Freitag. |
| B) Fahren Sie auch nach
Duschanbe? | 2) Guten Morgen! |
| C) Wie war Ihr Name? | 3) Nein, ich bleibe zu Hause. |
| D) Wann fahren Sie mit Lutz
nach Berlin? | 4) Auf ihn. |
| | 5) Franke. |

Antwort:

	1	2	3	4	5
A					
B					
C					
D					

LE FRANÇAIS

Variante 1

Lisez le texte et choisissez une bonne réponse (1 – 8)

Voyage

Pour faire un voyage nous avons beaucoup de moyens de transports à notre disposition. On peut voyager par avion, en chemin de fer, en bateau et en voiture. Un jour de grandes vacances les trois amis Anvar, Salim et Charif ont voulu faire un voyage à Moscou. Charif proposait voyager par le train, mais Anvar aimait le faire par avion. Quand à Salim, il préfère la voiture. Les amis discutaient longtemps et à la fin ils se sont décidés. Chacun faisait comme il voulait. Ils étaient très contents de leurs voyages.

Mais voilà que les grandes vacances finissent et commence la rentrée. A la première leçon Anvar a parlé des beaux paysages de montagnes, des villes qu'il a vu par l'avion. Charif a raconté qu'il a vu beaucoup de pays et de choses intéressants. Le voyage par la voiture était long et fatiguant, mais en dépit de tout Salim était très content.

1. Les moyens de transports sont ...

- A) le train, le vent, l'avion
B) l'avion, la voiture, le bateau
C) la voiture, le bateau, la campagne
D) le train, le bateau, le bus

2. Les trois amis voulaient partir pour Moscou comme ...

- A) étudiants
B) voyageurs
C) visiteurs
D) passagers

3. Salim voulait voyager par ...

- A) le train
B) le bateau
C) l'avion
D) la voiture

4. Charif préfère ...

- A) la voiture
B) le train
C) le bateau
D) l'avion

5. La voiture était le transport préféré de ...

- A) Salim
B) Charif
C) Anvar
D) Salim et Anvar

6. Qui aimait voyager ?

- A) Charif
B) Anvar et Salim
C) personne
D) tous les trois

7. La rentrée commence ...

- A) en janvier
B) en septembre
C) en novembre
D) en août

8. De quoi s'agit il dans ce texte?

- A) du transport
B) de l'amitié
C) du voyage
D) de la rentrée

Lisez le texte et choisissez une bonne réponse (9 - 16)

Une promenade

Nous rentrions toujours de 9__heure de 10__promenades, pour 11__faire une visite à ma tante Léonie avant le diner.

Au commencement 12___saison, où le jour finit tôt, quand nous arrivons rue de Saint - Esprit, il y avait encore un reflet du couchant 13___ vitres de la maison et un bandeau de pourpre au fond des bois du Calvaire, qui 14___ plus loin dans l'étang...

Dans l'été, 15___, quand nous rentrions, le soleil ne se couchait encore; et pendant la visite que nous faisons 16___ ma tante Léonie, sa lumière qui s'abaissait et touchait la fenêtre était arrêtée entre les grands rideaux...

- | | | | |
|-----------------------|-------------------|-----------------|-------------------|
| 9. A) bonne | B) bon | C) bons. | D) bonnes |
| 10. A) notre | B) mon | C) nos. | D) mes |
| 11. A) peut | B) pouvons | C) peux. | D) pouvior |
| 12. A) sur les | B) de la | C) sur la. | D) à la |
| 13. A) dans les | B) dans la | C) sur les | D) sur la |
| 14. A) se refléter | B) se reflétaient | C) se reflétais | D) se reflétait |
| 15. A) pour contraire | B)de contraire | C) au contraire | D) à la contraire |
| 16. A) près de | B) chez | C) vers | D) devant |

17. Accordez les propositions de première colonne avec la deuxième colonne.

- | | |
|----------------------------|------------------------|
| A) je n'est pas le temps | 1) je suis très occupé |
| B) Pierre n'est pas occupé | 2) tu est Parisien |
| C) Depêche - toi | 3) il est libre |
| D) je suis né à Paris | 4) elle est malade |
| | 5) tu est en retard |

	1	2	3	4	5
A					
B					
C					
D					

Réponse:

18. Accordez les propositions de première colonne avec la deuxième colonne.

- | | |
|------------------------------|--------------------------|
| A) Monsieur Martin? | 1) Oui, merci |
| B) La gare, s'il vous plait? | 2) Non, c'est sa soeur |
| C) C'est toi, Marie? | 3) Oui, c'est moi |
| D) La question est claire? | 4) C'est à gauche |
| | 5) Non, c'est trop grand |

	1	2	3	4	5
A					
B					
C					
D					

Réponse:

19. Accordez les propositions de première colonne avec la deuxième colonne

- | | |
|------------------------------------|------------------------|
| A) Le texte était difficile | 1) la reponse qui est |
| B) Le train n'arrive pas encore | difficile |
| C) la question n'est pas difficile | 2) ils sont beaux |
| D) j'aime les fleurs | 3) il n'a rien compris |
| | 4) il est en retard |
| | 5) elles sont belles |

	1	2	3	4	5
A					
B					
C					
D					

Réponse:

20. Accordez les propositions de première colonne avec la deuxième colonne

- | | |
|--------------|---------------|
| A) un livre | 1) bien élevé |
| B) une balle | 2) lu |
| C) un garçon | 3) éclairée |
| D) une salle | 4) ronde |
| | 5) gaie |

	1	2	3	4	5
A					
B					
C					
D					

Réponse:

LE FRANÇAIS

Variante 2

Lisez le texte et choisissez une bonne réponse. (1-8)

Chère Sophie,

Comme vous allez passer un mois chez nous, je veux vous donner une petite description de notre maison.

J'habite maintenant à 10 km de Nancy, dans une grande maison avec un rez-de-chaussée et un étage. Devant la maison, il y a un petit jardin et derrière, un garage.

Au rez-de-chaussée, on entre dans un couloir. A gauche, il y a une petite cuisine et une salle à manger. A droite, il y a un grand bureau, très clair avec quatre fenêtres. Ce bureau est aussi utilisé comme chambre d'amis. Au fond du couloir, à droite, il y a des toilettes et une douche.

Les trois chambres sont au premier étage. Quand on arrive en haut de l'escalier, on trouve à gauche, les toilettes et à droite une salle de bain.

Notre jardin est petit, mais on peut y trouver les différentes sortes de fleurs, comme des roses, des narcisses, des œillets. Ma mère aime les roses et moi, j'aime surtout les œillets.

Cordialement

Michel.

1. De quoi s'agit-il dans ce texte ?

- A) d'un restaurant B) d'un garage C) d'un logement D) d'un magasin

2. Où se trouve sa maison ?

- A) Non loin de Nancy C) très loin de Nancy
B) à Nancy D) à côté de théâtre de Nancy

3. Un petit jardin se trouve ...

- A) derrière un garage C) à côté d'une cuisine
B) près du logement D) devant la salle de bain

4. Quelle est la première chose qu'on parcourt en arrivant à la maison ?

- A) la salle de bain B) le garage C) le bureau D) le jardin

5. Où peut – on accueillir les amis ?

- A) dans le bureau B) dans la salle à manger C) dans la cuisine D) dans le couloir

6. Moi et ma mère, nous aimons ...

- A) les fruits B) les légumes C) les fleurs D) les pommes

7. Combien de personnes habitent la maison ?

- A) trois B) deux C) une D) une famille entière

8. Quel est le genre de ce texte ?

- A) une lettre B) une annonce C) un article D) un essai

Lisez le texte et choisissez une bonne réponse. (9-16)

Dans l'autobus

Je suis 9___ dans l'autobus de la porte Champerret. Il y avait beaucoup 10___ monde, des jeunes, des vieux, des femmes, des militaires. J'ai payé ma place et puis j' 11___ autour de moi. Ce n'était pas très intéressant. J'ai quand même fini par 12___ un jeune homme dont j'ai trouvé le cou trop long. J'ai examiné son chapeau et je me suis aperçu qu' 13___ lieu d'un ruban il y avait une corde. Chaque fois qu'un nouveau voyageur 14___ il y a eu de la bousculade. Je n'ai rien dit mais interpellé son voisin. Je n'ai pas 15___ ce qu'il lui a dit, mais ils se sont regardés d'un sale œil. Alors le jeune homme au long cou est allé s'asseoir précipitamment.

En 16___ de la porte Champerret, je suis passé devant la gare Sain-Lazare. J'ai vu mon type qui n'ai pas pensé avec un copain. Celui-ci a designé du doigt un bouton juste au-dessus de son pardessus. Puis l'autobus m'a emmené je ne les ai plus vus. J'étais assis et je n'ai pas pensé à rien.

- | | | | | |
|-----|---------------|----------------|----------------|---------------|
| 9. | A) monté | B) monte | C) monter | D) montai |
| 10. | A) pour | B) à | C) de | D) sur |
| 11. | A) as regardé | B) est regardé | C) ai regarder | D) ai regardé |
| 12. | A) remarquer | B) ai remarqué | C) remarques | D) remarqua |
| 13. | A) aux | B) à | C) au | D) en |
| 14. | A) es monté | B) as monté | C) a monté | D) est monté |
| 15. | A) entende | B) entendu | C) entend | D) entends |
| 16. | A) revient | B) revenu | C) revenant | D) reviens |

17. Accordez les propositions de première colonne avec la deuxième colonne

- | | |
|-----------------------------|------------------------------|
| A) je peux allumer la télé? | 1) Non, je n'ai pas le temps |
| B) Allo ? C'est Marie? | 2) Oui, je le vois |
| C) Veux-tu aller au cinéma? | 3) Non, c'est mon frère |
| D) Est-ce votre photo? | 4) Fais ce que tu veux |
| | 5) Oui, c'est moi |

Réponse:

	1	2	3	4	5
A					
B					
C					
D					

18. Accordez les propositions de première colonne avec la deuxième colonne

- | | |
|--------------------------|---------------------------|
| A) pour aller à la gare | 1) la musique légère |
| B) veux-tu l'acouté ? | 2) C'est très loin |
| C) je n'aime pas | 3) je prends un taxi |
| D) Notre école est situé | 4) à 5 km de Nancy |
| | 5) C'est très intéressant |

Réponse:

	1	2	3	4	5
A					
B					
C					
D					

19. Accordez les propositions de première colonne avec la deuxième colonne

- | | |
|-------------------------|---|
| A) Tu a le temps | 1) mais je voudrais rentrer vite |
| B) Tu m'excuse, | 2) C'est entendu. A dix heures au bistrot |
| C) On se voit ce soir ? | 3) Ici Maurice. |
| D) Allo ? Jacques ? | 4) d'aller prendre un café ? |
| | 5) A ce soir |

Réponse:

	1	2	3	4	5
A					
B					
C					
D					

20. Accordez les propositions de première colonne avec la deuxième colonne

- | | |
|--------------------|---------------|
| A) une jeune fille | 1) chaleureux |
| B) un accueil | 2) connu |
| C) un jour | 3) sérieuse |
| D) une maison | 4) long |
| | 5) en pierre |

Réponse:

	1	2	3	4	5
A					
B					
C					
D					

اقْرَأِ النَّصَّ وَ اخْتَرِ الْجَوَابَ الصَّحِيحَ (1-8)

مَدِينَتُنَا

تَقَعُ مَدِينَتُنَا عَلَى شَاطِئِ الْبَحْرِ. فِي الْمَدِينَةِ مَرْفَأٌ كَبِيرٌ هُنَاكَ تَقِفُ الْبُؤَاخِرُ الضَّخْمَةُ. شَوَارِعُ الْمَدِينَةِ عَرِيضَةٌ وَ نَظِيفَةٌ. الْمَخَازِنُ الْكَبِيرَةُ وَ الْمَبَانِي الْعَالِيَةُ عَلَى جَانِبِي كُلِّ شَارِعٍ. فِي الْمَخَازِنِ كَثِيرٌ مِنَ الْبَضَائِعِ الْوَطَنِيَّةِ وَ الْأَجْنَبِيَّةِ.

الْمَبَانِي مُؤَلَّفَةٌ مِنْ طَوَائِقَ كَثِيرَةٍ. يَقَعُ بَيْتُ صَدِيقِي فِي وَاحِدٍ مِنْ هَذِهِ الْمَبَانِي. الْبَيْتُ مُشْرِقٌ وَ صَحِيٌّ وَ الْمَرَافِقُ الْعَصْرِيَّةُ مُتَوَافِرَةٌ فِيهِ، هُنَاكَ عُرْفٌ لِلْإِسْتِقْبَالِ وَ النَّوْمِ وَ الطَّعَامِ وَ هُنَاكَ الْمَطْبُخُ وَ الْحَمَّامُ. فِي عُرْفَةِ الْإِسْتِقْبَالِ عَدَدٌ مِنَ الْكِرَاسِيِّ وَ الْأَرَائِكِ وَ الْمَزْهَرِيَّاتِ وَ الصُّوْرِ. الْأَرْضُ مَفْرُوشَةٌ بِسَجَادَةٍ كَبِيرَةٍ جَمِيلَةٍ. فِي الْمَزْهَرِيَّةِ وَرُودٌ جَمِيلَةٌ. سَتَائِرُ النَّوَافِدِ رَزَقَاءٌ وَ حَضْرَاءٌ. الشَّرْفَةُ تَطُلُّ عَلَى مَنَظَرٍ جَمِيلٍ وَ مِنْهَا يَظْهَرُ قِسْمٌ كَبِيرٌ مِنَ الْمَدِينَةِ وَ الْبَحْرِ. الْأَشْجَارُ الْعَالِيَةُ الْخَضْرَاءُ عَلَى جَانِبِي الشَّارِعِ الرَّئِيسِيِّ وَ السِّيَارَاتُ الْكَبِيرَةُ وَ الصَّغِيرَةُ تَسِيرُ مُسْرَعَةً فِي الْجِهَاتِ الْمُخْتَلَفَةِ وَ الْمَصَابِيحُ الْكَهْرَبَائِيَّةُ تُنِيرُ الطَّرِيقَ وَ تُزِينُ السَّاحَاتِ الْوَاسِعَةَ وَ الصَّغِيرَةَ

1. ماذا يُوجَدُ فِي شَاطِئِ الْبَحْرِ؟

- (A) سِيَّارَاتٌ؛
(B) قَوَارِبٌ؛
(C) مَنَارَةٌ؛
(D) الْمَدِينَةُ؛

2. أَيْنَ تَقِفُ الْبُؤَاخِرُ؟

- (A) عَلَى الشَّاطِئِ؛
(B) فِي الْمَرْفَأِ؛
(C) عَلَى السَّاحِلِ؛
(D) عَلَى الضَّفَّةِ؛

3. ماذا تُوجَدُ فِي الْمَخَازِنِ؟

- (A) الْمَلَابِيسُ؛
(B) الْأَحْذِيَّةُ؛
(C) الْبَضَائِعُ؛
(D) الْكُتُبُ؛

4. أَيْنَ يَقَعُ بَيْتُ صَدِيقِكَ هَذَا؟

- (A) فِي وَاحِدٍ مِنَ هَذِهِ الْمَبَانِي؛
(B) فِي الشَّارِعِ الْعَرِيضِ؛
(C) فِي الْقَرْيَةِ؛
(D) فِي بِنَايَةٍ صَغِيرَةٍ؛

5. ذَلِكَ الْبَيْتُ عِبَارَةٌ عَنْ:

- (A) شِقَّةٌ؛
(B) عُرْفَةُ النَّوْمِ؛
(C) بَيْتٌ مُشْرِقٌ؛
(D) عُرْفَةُ الْإِسْتِقْبَالِ؛

6. مِنْ أَيْنَ تَظْهَرُ الْمَدِينَةُ وَالْبَحْرُ؟

- (A) مِنَ الشَّرْقِيَّةِ؛
(B) مِنَ الْبَابِ؛
(C) مِنَ النَّوَاذِيهِ؛
(D) مِنَ السَّقْفِ؛

7. مَا لَوْنُ سَتَائِرِ النَّوَاذِيهِ؟

- (A) سَوْدَاءٌ؛
(B) بَيْضَاءٌ؛
(C) حَمْرَاءٌ؛
(D) زَرْقَاءٌ؛

8. كَيْفَ تَتَحَرَّكُ السِّيَّارَاتُ؟

- (A) بِبُطْءٍ؛
(B) بِمُسْرَعَةٍ؛
(C) بِإِسْتِعْجَالٍ؛
(D) بِغَيْرِ سَرِيحٍ؛

إِفْرَأِ النَّصَّ وَ إِخْتَرِ الْجَوَابَ الصَّحِيحَ (9-16)

الرَّحْلَةُ بِالطَّائِرَةِ

9..... زَيْنَبُ بَعْدَ تَخْرُجِهَا مِنْ 10..... الثَّانَوِيَّةِ بِجَامِعَةِ الْقَاهِرَةِ الدُّوَلِيَّةِ. وَ 11..... إِسْتِعْدَادَهَا إِلَى السَّفَرِ قَبْلَ بَدَايَةِ الْعَامِ الدِّرَاسِيِّ بِأَسْبُوعٍ. 12..... زَيْنَبُ إِلَى 13..... دُوشَنْبِهِ الدُّوَلِيِّ. وَ 14..... وَصُولِ طَائِرَةِ الْخُطُوطِ الْجَوِيَّةِ الْمِصْرِيَّةِ. بَعْدَ قَلِيلٍ 15..... الطَّائِرَةُ الْمِصْرِيَّةُ فِي مَطَارِ دُوشَنْبِهِ الدُّوَلِيِّ. بَعْدَ إِفْلَاحِ الطَّائِرَةِ 16..... إِلَيْهَا الْمُضِيْفَةُ لِتُقَدِّمَ الْخِدْمَاتِ الْمَطْلُوبَةَ لَهَا.

9. (A) تَخَرَّجَتْ؛ (B) الْكُلِّيَّةِ؛ (C) دَخَلَتْ؛ (D) اِلْتَحَقَتْ؛
10. (A) الْمَدْرَسَةِ؛ (B) الْكُلِّيَّةِ؛ (C) الْجَامِعَةِ؛ (D) الْمَعْهَدِ؛
11. (A) شَرَعَتْ؛ (B) بَدَأَتْ؛ (C) تَهَيَّأَتْ؛ (D) قَامَتْ؛
12. (A) وَصَلَتْ؛ (B) جَاءَتْ؛ (C) خَرَجَتْ؛ (D) ذَهَبَتْ؛
13. (A) مَحَطَّةٍ؛ (B) مَطَارٍ؛ (C) مَوْقِفٍ؛ (D) مَرَّابٍ؛
14. (A) اِنْتَضَرَتْ؛ (B) رَأَتْ؛ (C) تَوَقَّعَتْ؛ (D) مُنْتَظِرًا؛
15. (A) هَبَطَتْ؛ (B) نَزَلَتْ؛ (C) أَنْزَلَتْ؛ (D) أَقْلَعَتْ؛
16. (A) اِقْتَرَبَتْ؛ (B) نَزَلَتْ؛ (C) جَاءَتْ؛ (D) ذَهَبَتْ؛

17. اِخْتَرِ الْجَوَابَ الصَّحِيحَ وَ صِلْ بَيْنَ جُزْأَيِ الْجُمْلَةِ:

- (A) فِي حَيِّ الْجَامِعَةِ. (1) يَغْسِلُ...
 (B) الْعُرْفَةَ. (2) يُشَاهِدُ...
 (C) التَّلْفَازَ (3) يَذْهَبُ إِلَى...
 (D) الْمَلَابِسِ وَالْأَطْبَاقِ (4) يَكْنُسُ...
 (5) يَسْكُنُ...

الْجَوَابُ:

	1	2	3	4	5
A					
B					
C					
D					

18. اِخْتَرِ الْجَوَابَ الصَّحِيحَ وَ صِلْ بَيْنَ جُزْأَيِ الْجُمْلَةِ:

- (A) مُعْجِزَةٌ لُغَوِيَّةٌ وَ عِلْمِيَّةٌ. (1) الْأُمِّيُّ هُوَ الشَّخْصُ...
 (B) تَطَوُّرَ الْجَنِينِ فِي بَطْنِ أُمِّهِ. (2) كَانَ الْقُرْآنُ لِلْعَرَبِ...
 (C) فِي بَيْتَةِ صَحْرَاوِيَّةٍ. (3) نَشَأَ مُحَمَّدٌ صَلَّى اللَّهُ عَلَيْهِ وَ سَلَّمَ...
 (D) الَّذِي لَا يَقْرَأُ وَ لَا يَكْتُبُ. (4) أَشَارَ الْقُرْآنُ إِلَى عَمَلِيَّةٍ...
 (5) بَصَمَاتِ الْأَصَابِعِ تَنْشَابُهُ...

الْجَوَابُ:

	1	2	3	4	5
A					
B					
C					
D					

19. اِخْتَرِ الْجَوَابَ الصَّحِيحَ وَ صِلْ بَيْنَ جُزْأَيِ الْجُمْلَةِ:

- (A) بِالسَّمَاعَةِ. (1) يَدْخُلُ التَّلَامِيذُ...
 (B) وَرَاءَ الْقَفْصِ. (2) غَرَسَ الْبُسْتَانِيُّ الْأَشْجَارَ...
 (C) فِي الْحَقْلِ. (3) يَجْلِسُ الْحَارِسُ...
 (D) إِلَى غُرْفَةِ التَّدْرِيسِ. (4) يَفْحَصُ الطَّبِيبُ الْمَرِيضَ...
 (5) لَوْنُ الْمَوْزِ...

الْجَوَابُ:

	1	2	3	4	5
A					
B					
C					
D					

20. اِخْتَرِ الْجَوَابَ الصَّحِيحَ وَ صِلْ بَيْنَ جُزْأَيِ الْجُمْلَةِ:

- (A) مِنَ السُّوقِ. (1) يَقِفُ الْمُعَلِّمُ...
 (B) النَّجَاحَ فِي الْإِمْتِحَانِ. (2) عَلَى الطَّائِلَةِ...
 (C) كِتَابٌ وَ دَفْتَرٌ. (3) أُطْلِبُ الْعِلْمَ مِنَ الْمُهْدِ...
 (D) أَمَامَ السَّبُّورَةِ. (4) الْبَيْتُ قَرِيبٌ...
 (5) التَّلَامِيذُ كُلُّهُمْ يُرِيدُونَ...

الْجَوَابُ:

	1	2	3	4	5
A					
B					
C					
D					

ЗАБОНИ АРАБИ

Варианти 2

اقْرَأِ النَّصَّ وَ اخْتَرِ الْجَوَابَ الصَّحِيحَ (1-8)

تَرْجَمَةُ حَيَاتِي

اسْمِي مُحَمَّدٌ. عُمُرِي 15 سَنَةً. نَسْكُنُ فِي الْقَرْيَةِ. عَائِلَتُنَا كَبِيرَةٌ. لِي أَبٌ وَ أُمٌّ وَ أُخْتُ وَ إِخْوَانٌ. أَبِي سَائِقُ الْجَرَّارَةِ وَ أُمِّي مَشْغُولَةٌ بِأَعْمَالِ الْمَنْزِلِ. تَدْرُسُ أُخْتِي فِي الصَّفِّ الثَّالِثِ وَ اسْمُهَا فَاطِمَةٌ. يَدْرُسُ أَخِي الْكَبِيرُ فِي الصَّفِّ الْعَاشِرِ وَ اسْمُهُ مَحْمُودٌ. وَ لِي أَخٌ صَغِيرٌ. عُمُرُهُ 5 سَنَاتٍ فَقَطْ. اسْمُهُ كَمَالٌ. يَذْهَبُ كَمَالٌ إِلَى رَوْضَةِ الْأَطْفَالِ. ذَهَبْتُ إِلَى الْمَدْرَسَةِ مُنْذُ 9 سَنَاتٍ. أَنَا الْآنَ تَلْمِيذٌ فِي الصَّفِّ التَّاسِعِ. وَ تَسْكُنُ مَعَنَا كَذَلِكَ جَدَّتُنَا وَ هِيَ أُمُّ أَبِي.

1. ما اسمك؟

- (A) أحمد؛
(B) سليم؛
(C) محمود؛
(D) محمد؛

2. كم عمرك؟

- (A) 15 سنة؛
(B) 13 سنة؛
(C) 17 سنة؛
(D) 19 سنة؛

3. أين تسكن؟

- (A) في المدينة؛
(B) في حي المطار؛
(C) في القرية؛
(D) في حي الجامعة؛

4. هل عائلتكم كبيرة؟

- (A) صغيرة؛
(B) كبيرة؛
(C) غير كبيرة؛
(D) متوسطة؛

5. أين يعمل أبوك؟

- (A) في المصنع؛
(B) في المزرعة؛
(C) في المعمل؛
(D) في الملبنة؛

6. أين يدرس أخوك؟

- (A) في المدرسة؛
(B) في الجامعة؛
(C) في المعهد؛
(D) في الكلية؛

7. أَيْنَ تَشْتَغَلُ أُمَّكَ؟

- (A) فِي الْمَرْعَةِ؛
(B) فِي الْمَدْرَسَةِ؛
(C) فِي رَوْضَةِ الْأَطْفَالِ؛
(D) فِي الْبَيْتِ؛

8. مَتَى ذَهَبْتَ إِلَى الْمَدْرَسَةِ؟

- (A) مُنْذُ عَامٍ؛
(B) مُنْذُ 5 سَنَوَاتٍ؛
(C) مُنْذُ 9 سَنَوَاتٍ؛
(D) مُنْذُ 7 سَنَوَاتٍ؛

إِفْرَأِ النَّصَّ وَ إِخْتَرِ الْجَوَابَ الصَّحِيحَ (9-16)

جَامِعَتُنَا هَذِهِ

فِي الْجَامِعَةِ 9 كَثِيرَةٌ. نَحْنُ فِي الْقِسْمِ الْعَرَبِيِّ مِنْ 10. أَمَا سُلَيْمَانُ فَهُوَ
مِنْ طُلَّابِ الْقِسْمِ 11. فِي الْقِسْمِ 12 كَثِيرٌ مِنَ الطُّلَّابِ وَالطَّالِبَاتِ. مَنْ هَذَا؟
هَذَا 13 شَرِيفٌ هُوَ طَالِبٌ فِي الْقِسْمِ الْفَرَنْسِيِّ وَ هُوَ مُجْتَهِدٌ وَ نَشِيطٌ. مَنْ هَذِهِ؟
هَذِهِ نَادِرَةٌ. هِيَ أَيْضًا فِي الْقِسْمِ 14 وَ هِيَ طَالِبَةٌ مُجْتَهِدَةٌ وَ نَشِيطَةٌ أَيْضًا.
نَحْنُ الْآنَ فِي عُرْفَةِ الدَّرْسِ. هَذَا هُوَ دَرْسُ اللُّغَةِ 15 الثَّامِنِ. هُوَ ذَا أَسْتَاذِنَا. هُوَ
أَسْتَاذٌ مَشْهُورٌ فِي تَعْلِيمِ اللُّغَاتِ الشَّرْقِيَّةِ. عَلَى مِئْزَدَةِ الْأَسْتَاذِ 16. عَلَى الْمِئْزَدَةِ
أَيْضًا كِتَابٌ وَ جَرَائِدٌ. فِي الْخِزَانَةِ كَثِيرٌ مِنَ الْكُتُبِ وَ الْمَجَلَّاتِ وَ الصُّحُفِ.

9. (A) قَاعَاتٌ؛ (B) أَفْسَامٌ؛ (C) أَسَانِدَةٌ؛ (D) عُرْفٌ؛
10. (A) الْمَعْهَدِ؛ (B) الْجَامِعَةِ؛ (C) الْمَدْرَسَةِ؛ (D) الْكُلِّيَّةِ؛
11. (A) عَرَبِيٌّ؛ (B) صِينِيٌّ؛ (C) إِنْجِلِيزِيٌّ؛ (D) أَلْمَانِيٌّ؛
12. (A) الْفَرَنْسِيِّ؛ (B) الْأَلْمَانِيِّ؛ (C) الْإِنْجِلِيزِيِّ؛ (D) الْعَرَبِيِّ؛
13. (A) مُعَلِّمِيٌّ؛ (B) صَدِيقِيٌّ؛ (C) أَخِيٌّ؛ (D) جَارِيٌّ؛
14. (A) الْفَرَنْسِيِّ؛ (B) الْعَرَبِيِّ؛ (C) الْإِنْجِلِيزِيِّ؛ (D) الْأَلْمَانِيِّ؛
15. (A) الْفَرَنْسِيَّةُ؛ (B) الْإِنْجِلِيزِيَّةُ؛ (C) الْعَرَبِيَّةُ؛ (D) الصِّينِيَّةُ؛
16. (A) مِصْبَاحٌ؛ (B) مِحْفَظَةٌ؛ (C) بَدَلَةٌ؛ (D) لَعَبٌ؛

17. إختَرِ الْجَوَابَ الْمُنَاسِبَ وَ صِلِ بَيْنَ جِزْأَي الْجُمْلَةِ:

- (A) مُفْتَرِسٌ ... (1) الْقِطُّ...
 (B) وَدِيعٌ ... (2) التَّعَلُّبُ...
 (C) مَكَارٌ ... (3) التَّمْيِيزُ...
 (D) أَلِيفٌ ... (4) الْقِرْدُ...
 (5) الْجَوَادُ...

الجواب:

	1	2	3	4	5
A					
B					
C					
D					

18. إختَرِ الْجَوَابَ الْمُنَاسِبَ وَ صِلِ بَيْنَ جِزْأَي الْجُمْلَةِ:

- (A) الطَّيِّبِ ... (1) أَشْعُرُ بِصُدَاعٍ...
 (B) الْآنَ ... (2) هَذَا هُوَ التَّقْرِيرُ...
 (C) شَدِيدِ ... (3) بِمِ تَشْعُرُ...
 (D) الطَّبِّ ... (4) حَضَرْتُ لَزِيَارَةٍ...
 (5) هَلْ تَنَاوَلْتَ ...

الجواب:

	1	2	3	4	5
A					
B					
C					
D					

19. إختَرِ الْجَوَابَ الْمُنَاسِبَ وَ صِلِ بَيْنَ جِزْأَي الْجُمْلَةِ:

- (A) مُحَمَّدٍ وَ رَأْسَهُ ... (1) شَعَرَ مُحَمَّدٌ بِالْأَلَمِ فِي...
 (B) الْأَسْعَافِ ... (2) تَكَلَّمَ مُحَمَّدٌ مَعَ الْمُمْرِضِ فِي...
 (C) الْمُسْتَشْفَى ... (3) طَلَبَ مُحَمَّدٌ سِيَارَةَ...
 (D) صَدْرِهِ ... (4) فَحَصَ الطَّيِّبُ أُذُنَ...
 (5) بَعْدَ ثَلَاثَةِ أَيَّامٍ ذَهَبَ مُحَمَّدٌ...

الجواب:

	1	2	3	4	5
A					
B					
C					
D					

20. إختَرِ الْجَوَابَ الْمُنَاسِبَ وَ صِلِ بَيْنَ جِزْأَي الْجُمْلَةِ:

- (A) نَشِيطٌ ... (1) شَرِيفٌ تَلْمِيزٌ فِي...
 (B) بَعْدَ الظُّهْرِ ... (2) شَرِيفٌ يَدْرُسُ فِي...
 (C) الصَّفِّ التَّاسِعِ ... (3) يَرْجِعُ شَرِيفٌ مِنَ الْمَدْرَسَةِ...
 (D) الْمَدْرَسَةِ ... (4) شَرِيفٌ تَلْمِيزٌ...
 (5) أَيْنَ تَدْرُسُ أُخْتُ...

الجواب:

	1	2	3	4	5
A					
B					
C					
D					

ЎЗБЕК ТИЛИ ВА АДАБИЁТИ

1 вариант

- 1. Беш товущдан ташкил топган сўзлар қайси жавобда берилган?**
А) юлдуз, ёстик, юлғич, йўлдош С) зиёфат, биёбон, енгил, юзаки
В) ялқов, яйлов, ёмғир, ёққан Д) рангли, Юнус, Юсуф, масбул
- 2. Келтирилган мисраларда олмошнинг қайси тури қўлланилган?**
*Отамнинг шараф ишин, онамнинг ҳар юмушин,
Синглимнинг садаф тишин қўриқчиси ўзимдир.*
А) сўроқ олмоши С) кишилиқ олмоши
В) бўлишсизлик олмоши Д) ўзлик олмоши
- 3. Феълдан ясалган отлар акс этган жавобни аниқланг.**
А) мақтанчок, сезгир, топқир С) илиқ, синиқ, йиғлоқи
В) курак, сўроқ, тароқ Д) ишчан, тарбиявий, тузсиз
- 4. Ясама равиш иштирок этган гапни топинг.**
А) Йўлчи бошини қуйи солиб жим ўтирди.
В) Кўпни кўрган, кўп билар. (Мақол)
С) Азамат деҳқонлар фидокорона меҳнат қилмоқдалар.
Д) Гапни кам сўзла, ишни кўп кўзла. (Мақол)
- 5. Зидловчи боғловчи иштирок этган гапни топинг.**
А) Гоҳ қаттиқ бўрон бўлади, гоҳ кучли ёмғир ёғади.
В) Тоғлардаги қор ва муз аста-секин эрий бошлади.
С) Ой ёритади, бироқ иситмайди.
Д) Султонали мирзо бу гаплардан Анварни хабардор қилиш ва қилмаслик тўғрисида кўп ўйлади
- 6. Мирзо Турсунзода шеъри қайси қаторда келтирилган?**
А) “Оналар ташвиши” С) “Ўзбек қизига”
В) “Болалик йилларим” Д) “Нил ва Рим”
- 7. “Нахшон” достонининг муаллифи ёзилган қаторни белгиланг.**
А) С. Айний С) Ж. Пиримов
В) Э. Воҳидов Д) У. Носир
- 8. Алишер Навоий ўзининг қайси асарини «Меҳнатнома» номи билан ҳам атаган?**
А) “Маҳбуб-ул-қулуб” С) “Фарҳод ва Ширин”
В) “Лисон-ут-тайр” Д) “Садди Искандарий”
- 9. Мақолга берилган таърифларнинг қайси бири аниқроқ?**
А) Ўғит, насиҳат характеридаги тўртлик.
В) Халқ томонидан яратилган ҳикматли ибора.
С) Турмуш тажрибалари заминида яратилган ва халқ донолигини ифодалаган қисқа, бироқ чуқур маъноли ибора.
Д) Халқ оғзаки ижодининг жуда қадимий шеърий шакли, ибратли сўз.

10. Абдурахмон Жомийнинг асарлари қайси қаторда тўғри келтирилган?

- A) "Муҳокамат-ул-луғатайн", "Лисон-ут-тайр"
- B) "Баҳористон", "Хирадномаи Искандарий"
- C) "Илон ва қарлуғоч", "Ҳафт авранг"
- D) "Туркий Гулистон ёхуд ахлоқ", "Нахшон"

11. Қайси гапда изоҳловчи мавжуд?

- A) Ўқувчилар вазифани тўлиқ бажардилар.
- B) Дала йўлининг икки томонидаги боғлар туташ гуллар билан қопланган.
- C) Ўқитувчилар врач Каримов билан суҳбат ўтказишди.
- D) Тожикистоннинг жўшқин, шўх баҳори чўлга гул ва кўкат сепини ёйган.

12. Қайси гапда эга билан кесим орасида тире нотўғри қўйилган?

- A) Алишер Навоий — буюк мутафаккир.
- B) Яхши кайфият ҳам — меҳнатга ҳамдам.
- C) Карима — аълочи.
- D) Ширин тил — жон озиғи.

13. Кириш сўз мавжуд бўлган гапни аниқланг.

- A) Бугун менга бир қарашиб юбормайсанми?
- B) У ўз ғурури, обрўсига бировнинг оз-моз тил тегизишини кўтармас эди.
- C) Мевазор боғларда саратон жазирамаси ҳукмрон.
- D) Шубҳасиз, кўприк шу ерда бўлиши керак.

14. "Қарилиқдан шикоят" асарининг муаллифи ким?

- A) Маҳмуд Қошғарий
- B) Юсуф Хос Ҳожиб
- C) Атоий
- D) Абуабдулло Рўдакий

15. Иккинчи жаҳон уруши мавзуси Э. Воҳидовнинг қайси достонида талқин этилган?

- A) "Палаткада ёзилгдн достон"
- B) "Рухлар исёни"
- C) "Истамбул фожиаси"
- D) "Нидо"

16. Берилган мақолларнинг давомини иккинчи қатордан топинг.

- A) Яхшига... 1) меҳнат – калити
- B) Эгри йўлдан юрсанг ҳам... 2) тўғри юр
- C) Ер – хазина ... 3) бир ўлим
- D) Икки қасам... 4) гул соя
- 5) хазиначи

Жавоб:

	1	2	3	4	5
A					
B					
C					
D					

17. Берилган сўзларнинг маъносини иккинчи қатордан топинг.

- A) нуфуз 1) тилла, танга
- B) сайёд 2) тенгсиз, мислсиз
- C) динор 3) таъсир, обрў
- D) бемисл 4) ютуқсиз
- 5) овчи

Жавоб:

	1	2	3	4	5
A					
B					
C					
D					

18. Кўрсатилган сўзларга иккинчи қатордаги сўзлардан мосини топиб жуфт сўзлар ҳосил қилинг.

- | | |
|----------|-----------|
| A) оға | 1) берди |
| B) ширин | 2) баланд |
| C) олди | 3) кичик |
| D) катта | 4) ини |
| | 5) шакар |

Жавоб:

	1	2	3	4	5
A					
B					
C					
D					

19. Ёзилган байтлар кимнинг қаламига тегишли эканлигини аниқланг.

- | | |
|--|-----------|
| A) Жамолинг васфини қилдим чаманда,
Қизорди гул уятдин анжуманда. | 1) Атойи |
| B) Сендек манга бир ёри жафокор топилмас,
Мендек санга бир зори вафодор топилмас. | 2) Мунис |
| C) Ғам шоми фироқингда кабоб этти фалакни,
Оҳи саҳарим, хоҳ инон, хоҳ инонма. | 3) Навоий |
| D) Адолатдин ўлди эл осойиши,
Эл осойиши – мулк оройиши. | 4) Бобур |
| | 5) Машраб |

Жавоб:

	1	2	3	4	5
A					
B					
C					
D					

20. Алишер Навоий қаламига мансуб ушбу асарлар қайси турга оид эканлигини аниқланг?

- | | |
|---------------------------|---------------------------|
| A) "Арбаин" | 1) тилшуносликка доир |
| B) "Мезон-ул-авзон " | 2) насрий панднома |
| C) "Рисолаи тирандохтанд" | 3) диний асар |
| D) "Маҳбуб-ул-қулуб " | 4) тарихий асар |
| | 5) адабиётшуносликка доир |

Жавоб:

	1	2	3	4	5
A					
B					
C					
D					

КАЛИДҲОИ ТЕСТ

Калиди тести саволномаҳои имтиҳони умумӣ (компоненти А)

Забони тоҷикӣ (давлатӣ). Варианти 1

1 – D, 2 – B, 3 – A, 4 – C, 5 – A, 6 – D, 7 – C, 8 – D, 9 – B, 10 – C, 11 – A, 12 – B,
13 – C, 14 – D, 15 – C, 16 – B, 17 – C, 18 – D, 19 – B, 20 – A, 21 – C, 22 – D, 23 – B,
24 – D, 25 – A – 5, B – 1, C – 4, D – 2; 26 – A – 4, B – 1, C – 2, D – 3; 27 – A – 4, B – 5,
C – 1, D – 3; 28 – A – 3, B – 5, C – 2, D – 1; 29 – A – 1, B – 5, C – 3, D – 2;
30 – A – 1, B – 4, C – 3, D – 5.

Забони тоҷикӣ (давлатӣ). Варианти 2

1 – B, 2 – C, 3 – A, 4 – B, 5 – D, 6 – A, 7 – B, 8 – B, 9 – C, 10 – A, 11 – D, 12 – C,
13 – A, 14 – B, 15 – A, 16 – C, 17 – D, 18 – B, 19 – D, 20 – C, 21 – A, 22 – B, 23 – B,
24 – D, 25 – A – 5, B – 3, C – 1, D – 2; 26 – A – 3, B – 4, C – 1, D – 2;
27 – A – 2, B – 1, C – 5, D – 3; 28 – A – 3, B – 1, C – 4, D – 2; 29 – A – 2, B – 3,
C – 5, D – 1; 30 – A – 1, B – 5, C – 3, D – 4.

Математика. Варианти 1

1 – B, 2 – C, 3 – B, 4 – A, 5 – C, 6 – D, 7 – B, 8 – D, 9 – A, 10 – C, 11 – D, 12 – B,
13 – C, 14 – C, 15 – B, 16 – C, 17 – A, 18 – C, 19 – D, 20 – C, 21 – A – 5, B – 4, C – 3,
D – 1; 22 – A – 2, B – 4, C – 5, D – 3; 23 – 25, 24 – 4, 25 – 15, 26 – 120, 27 – 50.

Математика. Варианти 2

1 – D, 2 – C, 3 – B, 4 – D, 5 – A, 6 – B, 7 – B, 8 – A, 9 – B, 10 – D, 11 – C, 12 – C,
13 – A, 14 – C, 15 – B, 16 – C, 17 – D, 18 – A, 19 – B, 20 – A, 21 – A – 3, B – 5, C – 2,
D – 4; 22 – A – 3, B – 2, C – 5, D – 1; 23 – 4, 24 – 43, 25 – 2, 26 – 2, 27 – 16.

Таърихи халқи тоҷик ва асосҳои давлат ва ҳуқуқ. Варианти 1

1 – C, 2 – C, 3 – B, 4 – C, 5 – B, 6 – C, 7 – C, 8 – D, 9 – B, 10 – D, 11 – A, 12 – D, 13 – B,
14 – D, 15 – A, 16 – B, 17 – D, 18 – C, 19 – C, 20 – C, 21 – C, 22 – A, 23 – A, 24 – A,
25 – A – 2, B – 5, C – 4, D – 3; 26 – A – 3, B – 4, C – 2, D – 1; 27 – A – 2, B – 1, C – 4,
D – 3; 28 – A – 3, B – 4, C – 1, D – 5; 29 – A – 4, B – 3, C – 5, D – 2; 30 – A – 2, B – 5,
C – 4, D – 1.

Таърихи халқи тоҷик ва асосҳои давлат ва ҳуқуқ. Варианти 2

1 – D, 2 – B, 3 – A, 4 – A, 5 – B, 6 – B, 7 – C, 8 – A, 9 – B, 10 – B, 11 – C, 12 – C,
13 – C, 14 – B, 15 – B, 16 – C, 17 – A, 18 – D, 19 – B, 20 – D, 21 – D, 22 – C, 23 – C,
24 – D, 25 – A – 4, B – 1, C – 3, D – 5; 26 – A – 5, B – 1, C – 4, D – 3; 27 – A – 2,
B – 4, C – 5, D – 1; 28 – A – 4, B – 1, C – 5, D – 2; 29 – A – 4, B – 5, C – 2, D – 1;
30 – A – 2, B – 1, C – 4, D – 3.

Калиди тести саволномаҳои имтиҳони ихтисос (компоненти Б)

Забон ва адабиёти тоҷик. Варианти 1

1 – А, 2 – В, 3 – В, 4 – А, 5 – D, 6 – С, 7 – В, 8 – А, 9 – С, 10 – А, 11 – D, 12 – D, 13 – В, 14 – С, 15 – D, 16 – А – 2, В – 5, С – 4, D – 1; 17 – А – 4, В – 1, С – 2, D – 3; 18 – А – 3, В – 1, С – 5, D – 4; 19 – А – 1, В – 5, С – 3, D – 2; 20 – А – 2, В – 4, С – 5, D – 1.

Таърих . Варианти 1

1 – D, 2 – D, 3 – А, 4 – В, 5 – В, 6 – D, 7 – С, 8 – А, 9 – В, 10 – В, 11 – В, 12 – С, 13 – В, 14 – В, 15 – А, 16 – В, 17 – С, 18 – А, 19 – А, 20 – В, 21 – А – 2, В – 4, С – 1, D – 3; 22 – А – 2, В – 4, С – 1, D – 5; 23 – А – 5, В – 1, С – 4, D – 3; 24 – А – 5, В – 2, С – 1, D – 3; 25 – А – 2, В – 3, С – 5, D – 1.

Таърих . Варианти 2

1 – С, 2 – D, 3 – В, 4 – С, 5 – С, 6 – А, 7 – С, 8 – А, 9 – D, 10 – В, 11 – С, 12 – А, 13 – В, 14 – В, 15 – А, 16 – С, 17 – D, 18 – В, 19 – В, 20 – А, 21 – А – 5, В – 1, С – 4, D – 2; 22 – А – 5, В – 4, С – 3, D – 2; 23 – А – 2, В – 4, С – 5, D – 1; 24 – А – 3, В – 1, С – 5, D – 2; 25 – А – 4, В – 3, С – 1, D – 5.

Ҳуқуқи инсон. Варианти 1

1 – С, 2 – D, 3 – С, 4 – А, 5 – С, 6 – А, 7 – В, 8 – D, 9 – С, 10 – С, 11 – В, 12 – D, 13 – А, 14 – А, 15 – А, 16 – С, 17 – D, 18 – В, 19 – D, 20 – А, 21 – А – 1, В – 2, С – 5, D – 3; 22 – А – 2, В – 5, С – 4, D – 1; 23 – А – 3, В – 1, С – 4, D – 2; 24 – А – 2, В – 1, С – 3, D – 5; 25 – А – 2, В – 1, С – 4, D – 5.

Математика. Варианти 1

1 – С, 2 – С, 3 – D, 4 – А, 5 – В, 6 – А, 7 – С, 8 – А, 9 – С, 10 – В, 11 – С, 12 – D, 13 – В, 14 – А, 15 – D, 16 – D, 17 – А, 18 – D, 19 – С, 20 – D, 21 – А – 1, В – 3, С – 2, D – 4; 22 – А – 5, В – 4, С – 2, D – 1; 23 – 5, 24 – -2, 25 – 20, 26 – 24, 27 – 3.

Математика. Варианти 2

1 – А, 2 – С, 3 – А, 4 – D, 5 – В, 6 – С, 7 – В, 8 – D, 9 – А, 10 – D, 11 – А, 12 – D, 13 – В, 14 – А, 15 – В, 16 – D, 17 – С, 18 – А, 19 – С, 20 – В, 21 – А – 2, В – 4, С – 3, D – 1; 22 – А – 3, В – 5, С – 1, D – 2; 23 – 1, 24 – 3, 25 – 1300, 26 – 2, 27 – 30.

Физика. Варианти 1

1 – С, 2 – D, 3 – В, 4 – В, 5 – С, 6 – А, 7 – А, 8 – С, 9 – С, 10 – D, 11 – А, 12 – В, 13 – А – 4, В – 2, С – 3, D – 5; 14 – А – 2, В – 3, С – 1, D – 5; 15 – А – 4, В – 5, С – 1, D – 2; 16 – А – 2, В – 1, С – 4, D – 3; 17 – А – 3, В – 4, С – 1, D – 2. 18 – 100, 19 – 1800, 20 – 220, 21 – 5, 22 – 74.

Физика. Варианты 2

1 – В, 2 – С, 3 – В, 4 – В, 5 – А, 6 – А, 7 – С, 8 – С, 9 – В, 10 – В, 11 – С, 12 – С,
13 – А – 2, В – 3, С – 4, D – 1; 14 – А – 2, В – 1, С – 4, D – 3; 15 – А – 2, В – 4, С – 1,
D – 3; 16 – А – 4, В – 2, С – 3, D – 5; 17 – А – 1, В – 2, С – 3, D – 4.
18 – 50, 19 – 10, 20 – 150, 21 – 12, 22 – 4.

Химия. Варианты 1

1 – D, 2 – D, 3 – В, 4 – D, 5 – D, 6 – В, 7 – В, 8 – D, 9 – В, 10 – В, 11 – А, 12 – С,
13 – В, 14 – D, 15 – D, 16 – D, 17 – В, 18 – D, 19 – D, 20 – А – 2, В – 4, С – 5, D – 1;
21 – А – 3, В – 2, С – 5, D – 4; 22 – А – 2, В – 3, С – 4, D – 1; 23 – 160, 24 – 420,
25 – 150.

Химия. Варианты 2

1 – В, 2 – D, 3 – D, 4 – А, 5 – В, 6 – С, 7 – В, 8 – В, 9 – В, 10 – В, 11 – А, 12 – С,
13 – D, 14 – А, 15 – D, 16 – В, 17 – С, 18 – D, 19 – С, 20 – А – 3, В – 4, С – 2, D – 1;
21 – А – 3, В – 1, С – 4, D – 2; 22 – А – 5, В – 3, С – 2, D – 4; 23 – 6, 24 – 27,
25 – 13.

Биология. Варианты 1

1 – В, 2 – D, 3 – С, 4 – D, 5 – А, 6 – А, 7 – В, 8 – В, 9 – С, 10 – В, 11 – А, 12 – В,
13 – А, 14 – В, 15 – С, 16 – С, 17 – С, 18 – D, 19 – А, 20 – С, 21 – А – 3, В – 1, С – 2,
D – 4; 22 – А – 2, В – 5, С – 4, D – 3; 23 – А – 4, В – 2, С – 3, D – 1; 24 – А – 2,
В – 3, С – 5, D – 4; 25 – А – 3, В – 2, С – 4, D – 1; 26 – А – 5, В – 1, С – 3, D – 2.

География. Варианты 1

1 – С, 2 – А, 3 – А, 4 – С, 5 – А, 6 – В, 7 – С, 8 – А, 9 – В, 10 – С, 11 – D, 12 – В,
13 – А, 14 – С, 15 – А, 16 – А, 17 – D, 18 – D, 19 – D, 20 – С, 21 – А – 1, В – 3,
С – 2, D – 4; 22 – А – 2, В – 1, С – 4, D – 3; 23 – А – 2, В – 1, С – 3, D – 4;
24 – А – 5, В – 3, С – 1, D – 2; 25 – А – 3, В – 4, С – 1, D – 5.

Забони англисӣ. Варианты 1

1 – А, 2 – С, 3 – А, 4 – D, 5 – А, 6 – А, 7 – D, 8 – С, 9 – С, 10 – А, 11 – В, 12 – С,
13 – В, 14 – В, 15 – С, 16 – А, 17 – А – 5; В – 3; С – 2; D – 4; 18 – А – 5; В – 4; С – 2;
D – 1; 19 – А – 4; В – 1; С – 5; D – 2; 20 – А – 4; В – 3; С – 5; D – 1.

Забони англисӣ. Варианты 2

1 – В, 2 – В, 3 – D, 4 – В, 5 – С, 6 – В, 7 – D, 8 – А, 9 – В, 10 – А, 11 – В, 12 – С,
13 – А, 14 – D, 15 – D, 16 – D, 17 – А – 3; В – 4; С – 1; D – 5; 18 – А – 2; В – 5; С – 1;
D – 3; 19 – А – 5; В – 4; С – 2; D – 1; 20 – А – 5; В – 4; С – 3; D – 2.

Забони немисӣ. Варианти 1

1 – A, 2 – D, 3 – A, 4 – A, 5 – C, 6 – A, 7 – B, 8 – D, 9 – C, 10 – A, 11 – C, 12 – B,
13 – C, 14 – A, 15 – C, 16 – A, 17 – A – 4; B – 5; C – 1; D – 2; 18 – A – 2; B – 3; C – 4;
D – 1; 19 – A – 2; B – 5; C – 4; D – 1; 20 – A – 2; B – 3; C – 4; D – 1.

Забони немисӣ. Варианти 2

1 – B, 2 – A, 3 – B, 4 – D, 5 – C, 6 – D, 7 – C, 8 – D, 9 – A, 10 – B, 11 – A, 12 – A,
13 – D, 14 – A, 15 – B, 16 – A, 17 – A-3; B – 4; C – 5; D – 1; 18 – A – 4; B – 1; C – 2;
D – 3; 19 – A – 4; B – 1; C – 5; D – 2; 20 – A – 4; B – 3; C – 5; D – 1.

Забони франсавӣ. Варианти 1

1 – B, 2 – B, 3 – D, 4 – B, 5 – A, 6 – D, 7 – B, 8 – C, 9 – A, 10 – C, 11 – D, 12 – B,
13 – C, 14 – B, 15 – C, 16 – B, 17 – A – 1; B – 3; C – 5; D – 2; 18 – A – 3; B – 4; C – 2;
D – 1; 19 – A – 3; B – 4; C – 1; D – 5; 20 – A – 2; B – 4; C – 1; D – 3.

Забони франсавӣ. Варианти 2

1 – C, 2 – A, 3 – B, 4 – D, 5 – A, 6 – C, 7 – B, 8 – A, 9 – A, 10 – C, 11 – D, 12 – A,
13 – C, 14 – D, 15 – B, 16 – C, 17 – A – 4; B – 5; C – 1; D – 3; 18 – A – 3; B – 5; C – 1;
D – 4; 19 – A – 4; B – 1; C – 2; D – 3; 20 – A-3; B – 1; C – 4; D – 5.

Забони арабӣ. Варианти 1

1 – D, 2 – B, 3 – C, 4 – A, 5 – C, 6 – A, 7 – D, 8 – B, 9 – D, 10 – A, 11 – B, 12 – D,
13 – B, 14 – A, 15 – A, 16 – C, 17 – A – 5; B – 4; C – 2; D – 1; 18 – A – 2; B – 4; C – 3;
D – 1; 19 – A – 4; B – 3; C – 2; D – 1; 20 – A – 4; B – 5; C – 2; D – 1.

Забони арабӣ. Варианти 2

1 – D, 2 – A, 3 – C, 4 – B, 5 – B, 6 – A, 7 – D, 8 – C, 9 – B, 10 – B, 11 – C, 12 – D,
13 – B, 14 – A, 15 – C, 16 – B, 17 – A-3; B – 4; C – 2; D – 1; 18 – A – 4; B – 3; C – 1;
D – 2; 19 – A – 4; B – 3; C – 2; D – 1; 20 – A – 4; B – 3; C – 1; D – 2.

Забон ва адабиёти ўзбек. Варианти 1

1 – D, 2 – D, 3 – B, 4 – C, 5 – C, 6 – C, 7 – D, 8 – C, 9 – C, 10 – B, 11 – C, 12 – B,
13 – D, 14 – D, 15 – D, 16 – A – 4, B – 2, C – 1, D – 3; 17 – A – 3, B – 5, C – 1, D – 2;
18 – A – 4, B – 5, C – 1, D – 3; 19 – A – 1, B – 4, C – 5, D – 2; 20 – A – 3, B – 5, C – 4,
D – 2.

НАМУНАИ ВАРАҚАИ ҶАВОБҲОИ ТЕСТ


ИМТИҲОНИ УМУМӢ (компоненти А)

<div style="border: 1px dashed gray; padding: 5px; width: 100px; height: 50px; margin: 0 auto;"> Ҷой барои штрик-код </div>	<p>Муассисаи давлатии “Маркази миллии тести”</p> <p>ВАРАҚАИ ҶАВОБҲО</p>	<div style="font-size: 2em; font-weight: bold;">A</div>																																																																																																																																																													
<p>■ Намунаи ишораи ҷавоби дуруст</p> <table border="1" style="margin-left: auto; margin-right: auto;"> <tr><td>A</td><td>B</td><td>C</td><td>D</td></tr> <tr><td><input type="checkbox"/></td><td><input type="checkbox"/></td><td><input checked="" type="checkbox"/></td><td><input type="checkbox"/></td></tr> </table> <p>■ Намунаи исломи ҷавоби нодуруст ва ишораи ҷавоби дуруст</p> <table border="1" style="margin-left: auto; margin-right: auto;"> <tr><td>A</td><td>B</td><td>C</td><td>D</td></tr> <tr><td><input checked="" type="checkbox"/></td><td><input type="checkbox"/></td><td><input type="checkbox"/></td><td><input checked="" type="checkbox"/></td></tr> </table>	A	B	C	D	<input type="checkbox"/>	<input type="checkbox"/>	<input checked="" type="checkbox"/>	<input type="checkbox"/>	A	B	C	D	<input checked="" type="checkbox"/>	<input type="checkbox"/>	<input type="checkbox"/>	<input checked="" type="checkbox"/>	<p>Намунаи навишти дурусти рақамҳо дар саволҳои навъи кушода</p> <table border="1" style="margin-left: auto; margin-right: auto;"> <tr><td>0</td><td>1</td><td>2</td><td>3</td><td>4</td><td>5</td><td>6</td><td>7</td><td>8</td><td>9</td></tr> </table> <p>Ҳангоми навиштани ҷавоб ба саволу масъалаҳои навъи кушода рақам набояд аз катаки ҷудошуда берун барояд. Масалан:</p> <p>адади 2 адади -27 адади 279</p> <table border="1" style="margin-left: auto; margin-right: auto;"> <tr><td><input type="checkbox"/></td><td><input type="checkbox"/></td><td><input type="checkbox"/></td><td>2</td><td><input type="checkbox"/></td><td><input type="checkbox"/></td><td><input type="checkbox"/></td><td>-</td><td>2</td><td>7</td><td><input type="checkbox"/></td><td><input type="checkbox"/></td><td><input type="checkbox"/></td><td>2</td><td>7</td><td>9</td></tr> </table>	0	1	2	3	4	5	6	7	8	9	<input type="checkbox"/>	<input type="checkbox"/>	<input type="checkbox"/>	2	<input type="checkbox"/>	<input type="checkbox"/>	<input type="checkbox"/>	-	2	7	<input type="checkbox"/>	<input type="checkbox"/>	<input type="checkbox"/>	2	7	9																																																																																																																				
A	B	C	D																																																																																																																																																												
<input type="checkbox"/>	<input type="checkbox"/>	<input checked="" type="checkbox"/>	<input type="checkbox"/>																																																																																																																																																												
A	B	C	D																																																																																																																																																												
<input checked="" type="checkbox"/>	<input type="checkbox"/>	<input type="checkbox"/>	<input checked="" type="checkbox"/>																																																																																																																																																												
0	1	2	3	4	5	6	7	8	9																																																																																																																																																						
<input type="checkbox"/>	<input type="checkbox"/>	<input type="checkbox"/>	2	<input type="checkbox"/>	<input type="checkbox"/>	<input type="checkbox"/>	-	2	7	<input type="checkbox"/>	<input type="checkbox"/>	<input type="checkbox"/>	2	7	9																																																																																																																																																
<p>Бодикҳат бошед!</p> <p>Ҷавоби худро дар варақаи ҷавобҳо мувофиқи дастури иҷрои тест нависед.</p>	<table border="1" style="width: 100%; border-collapse: collapse;"> <tr><td>1</td><td>2</td><td>3</td><td>4</td><td>5</td><td>6</td><td>7</td><td>8</td><td>9</td><td>10</td><td>11</td><td>12</td><td>13</td><td>14</td><td>15</td></tr> <tr><td>Варианти</td><td><input type="checkbox"/></td><td><input type="checkbox"/></td><td><input type="checkbox"/></td><td><input type="checkbox"/></td><td><input type="checkbox"/></td><td><input type="checkbox"/></td><td><input type="checkbox"/></td><td><input type="checkbox"/></td><td><input type="checkbox"/></td><td><input type="checkbox"/></td><td><input type="checkbox"/></td><td><input type="checkbox"/></td><td><input type="checkbox"/></td><td><input type="checkbox"/></td></tr> </table>		1	2	3	4	5	6	7	8	9	10	11	12	13	14	15	Варианти	<input type="checkbox"/>	<input type="checkbox"/>	<input type="checkbox"/>	<input type="checkbox"/>	<input type="checkbox"/>	<input type="checkbox"/>	<input type="checkbox"/>	<input type="checkbox"/>	<input type="checkbox"/>	<input type="checkbox"/>	<input type="checkbox"/>	<input type="checkbox"/>	<input type="checkbox"/>	<input type="checkbox"/>																																																																																																																															
1	2	3	4	5	6	7	8	9	10	11	12	13	14	15																																																																																																																																																	
Варианти	<input type="checkbox"/>	<input type="checkbox"/>	<input type="checkbox"/>	<input type="checkbox"/>	<input type="checkbox"/>	<input type="checkbox"/>	<input type="checkbox"/>	<input type="checkbox"/>	<input type="checkbox"/>	<input type="checkbox"/>	<input type="checkbox"/>	<input type="checkbox"/>	<input type="checkbox"/>	<input type="checkbox"/>																																																																																																																																																	
<p>ЗАБОНИ ТОҶИКӢ (давлатӣ)</p>																																																																																																																																																															
<table border="1" style="width: 100%; border-collapse: collapse;"> <tr> <th>A</th><th>B</th><th>C</th><th>D</th> <th>A</th><th>B</th><th>C</th><th>D</th> <th>A</th><th>B</th><th>C</th><th>D</th> <th>A</th><th>B</th><th>C</th><th>D</th> <th>A</th><th>B</th><th>C</th><th>D</th> <th>25</th><th>1</th><th>2</th><th>3</th><th>4</th><th>5</th> </tr> <tr><td>1</td><td><input type="checkbox"/></td><td><input type="checkbox"/></td><td><input type="checkbox"/></td><td>6</td><td><input type="checkbox"/></td><td><input type="checkbox"/></td><td><input type="checkbox"/></td><td>11</td><td><input type="checkbox"/></td><td><input type="checkbox"/></td><td><input type="checkbox"/></td><td>16</td><td><input type="checkbox"/></td><td><input type="checkbox"/></td><td><input type="checkbox"/></td><td>21</td><td><input type="checkbox"/></td><td><input type="checkbox"/></td><td><input type="checkbox"/></td><td>A</td><td><input type="checkbox"/></td><td><input type="checkbox"/></td><td><input type="checkbox"/></td><td><input type="checkbox"/></td></tr> <tr><td>2</td><td><input type="checkbox"/></td><td><input type="checkbox"/></td><td><input type="checkbox"/></td><td>7</td><td><input type="checkbox"/></td><td><input type="checkbox"/></td><td><input type="checkbox"/></td><td>12</td><td><input type="checkbox"/></td><td><input type="checkbox"/></td><td><input type="checkbox"/></td><td>17</td><td><input type="checkbox"/></td><td><input type="checkbox"/></td><td><input type="checkbox"/></td><td>22</td><td><input type="checkbox"/></td><td><input type="checkbox"/></td><td><input type="checkbox"/></td><td>B</td><td><input type="checkbox"/></td><td><input type="checkbox"/></td><td><input type="checkbox"/></td><td><input type="checkbox"/></td></tr> <tr><td>3</td><td><input type="checkbox"/></td><td><input type="checkbox"/></td><td><input type="checkbox"/></td><td>8</td><td><input type="checkbox"/></td><td><input type="checkbox"/></td><td><input type="checkbox"/></td><td>13</td><td><input type="checkbox"/></td><td><input type="checkbox"/></td><td><input type="checkbox"/></td><td>18</td><td><input type="checkbox"/></td><td><input type="checkbox"/></td><td><input type="checkbox"/></td><td>23</td><td><input type="checkbox"/></td><td><input type="checkbox"/></td><td><input type="checkbox"/></td><td>C</td><td><input type="checkbox"/></td><td><input type="checkbox"/></td><td><input type="checkbox"/></td><td><input type="checkbox"/></td></tr> <tr><td>4</td><td><input type="checkbox"/></td><td><input type="checkbox"/></td><td><input type="checkbox"/></td><td>9</td><td><input type="checkbox"/></td><td><input type="checkbox"/></td><td><input type="checkbox"/></td><td>14</td><td><input type="checkbox"/></td><td><input type="checkbox"/></td><td><input type="checkbox"/></td><td>19</td><td><input type="checkbox"/></td><td><input type="checkbox"/></td><td><input type="checkbox"/></td><td>24</td><td><input type="checkbox"/></td><td><input type="checkbox"/></td><td><input type="checkbox"/></td><td>D</td><td><input type="checkbox"/></td><td><input type="checkbox"/></td><td><input type="checkbox"/></td><td><input type="checkbox"/></td></tr> <tr><td>5</td><td><input type="checkbox"/></td><td><input type="checkbox"/></td><td><input type="checkbox"/></td><td>10</td><td><input type="checkbox"/></td><td><input type="checkbox"/></td><td><input type="checkbox"/></td><td>15</td><td><input type="checkbox"/></td><td><input type="checkbox"/></td><td><input type="checkbox"/></td><td>20</td><td><input type="checkbox"/></td><td><input type="checkbox"/></td><td><input type="checkbox"/></td><td></td><td></td><td></td><td></td><td></td><td></td><td></td><td></td><td></td></tr> </table>			A	B	C	D	A	B	C	D	A	B	C	D	A	B	C	D	A	B	C	D	25	1	2	3	4	5	1	<input type="checkbox"/>	<input type="checkbox"/>	<input type="checkbox"/>	6	<input type="checkbox"/>	<input type="checkbox"/>	<input type="checkbox"/>	11	<input type="checkbox"/>	<input type="checkbox"/>	<input type="checkbox"/>	16	<input type="checkbox"/>	<input type="checkbox"/>	<input type="checkbox"/>	21	<input type="checkbox"/>	<input type="checkbox"/>	<input type="checkbox"/>	A	<input type="checkbox"/>	<input type="checkbox"/>	<input type="checkbox"/>	<input type="checkbox"/>	2	<input type="checkbox"/>	<input type="checkbox"/>	<input type="checkbox"/>	7	<input type="checkbox"/>	<input type="checkbox"/>	<input type="checkbox"/>	12	<input type="checkbox"/>	<input type="checkbox"/>	<input type="checkbox"/>	17	<input type="checkbox"/>	<input type="checkbox"/>	<input type="checkbox"/>	22	<input type="checkbox"/>	<input type="checkbox"/>	<input type="checkbox"/>	B	<input type="checkbox"/>	<input type="checkbox"/>	<input type="checkbox"/>	<input type="checkbox"/>	3	<input type="checkbox"/>	<input type="checkbox"/>	<input type="checkbox"/>	8	<input type="checkbox"/>	<input type="checkbox"/>	<input type="checkbox"/>	13	<input type="checkbox"/>	<input type="checkbox"/>	<input type="checkbox"/>	18	<input type="checkbox"/>	<input type="checkbox"/>	<input type="checkbox"/>	23	<input type="checkbox"/>	<input type="checkbox"/>	<input type="checkbox"/>	C	<input type="checkbox"/>	<input type="checkbox"/>	<input type="checkbox"/>	<input type="checkbox"/>	4	<input type="checkbox"/>	<input type="checkbox"/>	<input type="checkbox"/>	9	<input type="checkbox"/>	<input type="checkbox"/>	<input type="checkbox"/>	14	<input type="checkbox"/>	<input type="checkbox"/>	<input type="checkbox"/>	19	<input type="checkbox"/>	<input type="checkbox"/>	<input type="checkbox"/>	24	<input type="checkbox"/>	<input type="checkbox"/>	<input type="checkbox"/>	D	<input type="checkbox"/>	<input type="checkbox"/>	<input type="checkbox"/>	<input type="checkbox"/>	5	<input type="checkbox"/>	<input type="checkbox"/>	<input type="checkbox"/>	10	<input type="checkbox"/>	<input type="checkbox"/>	<input type="checkbox"/>	15	<input type="checkbox"/>	<input type="checkbox"/>	<input type="checkbox"/>	20	<input type="checkbox"/>	<input type="checkbox"/>	<input type="checkbox"/>															
A	B	C	D	A	B	C	D	A	B	C	D	A	B	C	D	A	B	C	D	25	1	2	3	4	5																																																																																																																																						
1	<input type="checkbox"/>	<input type="checkbox"/>	<input type="checkbox"/>	6	<input type="checkbox"/>	<input type="checkbox"/>	<input type="checkbox"/>	11	<input type="checkbox"/>	<input type="checkbox"/>	<input type="checkbox"/>	16	<input type="checkbox"/>	<input type="checkbox"/>	<input type="checkbox"/>	21	<input type="checkbox"/>	<input type="checkbox"/>	<input type="checkbox"/>	A	<input type="checkbox"/>	<input type="checkbox"/>	<input type="checkbox"/>	<input type="checkbox"/>																																																																																																																																							
2	<input type="checkbox"/>	<input type="checkbox"/>	<input type="checkbox"/>	7	<input type="checkbox"/>	<input type="checkbox"/>	<input type="checkbox"/>	12	<input type="checkbox"/>	<input type="checkbox"/>	<input type="checkbox"/>	17	<input type="checkbox"/>	<input type="checkbox"/>	<input type="checkbox"/>	22	<input type="checkbox"/>	<input type="checkbox"/>	<input type="checkbox"/>	B	<input type="checkbox"/>	<input type="checkbox"/>	<input type="checkbox"/>	<input type="checkbox"/>																																																																																																																																							
3	<input type="checkbox"/>	<input type="checkbox"/>	<input type="checkbox"/>	8	<input type="checkbox"/>	<input type="checkbox"/>	<input type="checkbox"/>	13	<input type="checkbox"/>	<input type="checkbox"/>	<input type="checkbox"/>	18	<input type="checkbox"/>	<input type="checkbox"/>	<input type="checkbox"/>	23	<input type="checkbox"/>	<input type="checkbox"/>	<input type="checkbox"/>	C	<input type="checkbox"/>	<input type="checkbox"/>	<input type="checkbox"/>	<input type="checkbox"/>																																																																																																																																							
4	<input type="checkbox"/>	<input type="checkbox"/>	<input type="checkbox"/>	9	<input type="checkbox"/>	<input type="checkbox"/>	<input type="checkbox"/>	14	<input type="checkbox"/>	<input type="checkbox"/>	<input type="checkbox"/>	19	<input type="checkbox"/>	<input type="checkbox"/>	<input type="checkbox"/>	24	<input type="checkbox"/>	<input type="checkbox"/>	<input type="checkbox"/>	D	<input type="checkbox"/>	<input type="checkbox"/>	<input type="checkbox"/>	<input type="checkbox"/>																																																																																																																																							
5	<input type="checkbox"/>	<input type="checkbox"/>	<input type="checkbox"/>	10	<input type="checkbox"/>	<input type="checkbox"/>	<input type="checkbox"/>	15	<input type="checkbox"/>	<input type="checkbox"/>	<input type="checkbox"/>	20	<input type="checkbox"/>	<input type="checkbox"/>	<input type="checkbox"/>																																																																																																																																																
<table border="1" style="width: 100%; border-collapse: collapse;"> <tr> <th>26</th><th>1</th><th>2</th><th>3</th><th>4</th><th>5</th> <th>27</th><th>1</th><th>2</th><th>3</th><th>4</th><th>5</th> <th>28</th><th>1</th><th>2</th><th>3</th><th>4</th><th>5</th> <th>29</th><th>1</th><th>2</th><th>3</th><th>4</th><th>5</th> <th>30</th><th>1</th><th>2</th><th>3</th><th>4</th><th>5</th> </tr> <tr><td>A</td><td><input type="checkbox"/></td><td><input type="checkbox"/></td><td><input type="checkbox"/></td><td><input type="checkbox"/></td><td><input type="checkbox"/></td><td>A</td><td><input type="checkbox"/></td><td><input type="checkbox"/></td><td><input type="checkbox"/></td><td><input type="checkbox"/></td><td><input type="checkbox"/></td><td>A</td><td><input type="checkbox"/></td><td><input type="checkbox"/></td><td><input type="checkbox"/></td><td>A</td><td><input type="checkbox"/></td><td><input type="checkbox"/></td><td><input type="checkbox"/></td><td>A</td><td><input type="checkbox"/></td><td><input type="checkbox"/></td><td><input type="checkbox"/></td><td><input type="checkbox"/></td></tr> <tr><td>B</td><td><input type="checkbox"/></td><td><input type="checkbox"/></td><td><input type="checkbox"/></td><td><input type="checkbox"/></td><td><input type="checkbox"/></td><td>B</td><td><input type="checkbox"/></td><td><input type="checkbox"/></td><td><input type="checkbox"/></td><td><input type="checkbox"/></td><td><input type="checkbox"/></td><td>B</td><td><input type="checkbox"/></td><td><input type="checkbox"/></td><td><input type="checkbox"/></td><td>B</td><td><input type="checkbox"/></td><td><input type="checkbox"/></td><td><input type="checkbox"/></td><td>B</td><td><input type="checkbox"/></td><td><input type="checkbox"/></td><td><input type="checkbox"/></td><td><input type="checkbox"/></td></tr> <tr><td>C</td><td><input type="checkbox"/></td><td><input type="checkbox"/></td><td><input type="checkbox"/></td><td><input type="checkbox"/></td><td><input type="checkbox"/></td><td>C</td><td><input type="checkbox"/></td><td><input type="checkbox"/></td><td><input type="checkbox"/></td><td><input type="checkbox"/></td><td><input type="checkbox"/></td><td>C</td><td><input type="checkbox"/></td><td><input type="checkbox"/></td><td><input type="checkbox"/></td><td>C</td><td><input type="checkbox"/></td><td><input type="checkbox"/></td><td><input type="checkbox"/></td><td>C</td><td><input type="checkbox"/></td><td><input type="checkbox"/></td><td><input type="checkbox"/></td><td><input type="checkbox"/></td></tr> <tr><td>D</td><td><input type="checkbox"/></td><td><input type="checkbox"/></td><td><input type="checkbox"/></td><td><input type="checkbox"/></td><td><input type="checkbox"/></td><td>D</td><td><input type="checkbox"/></td><td><input type="checkbox"/></td><td><input type="checkbox"/></td><td><input type="checkbox"/></td><td><input type="checkbox"/></td><td>D</td><td><input type="checkbox"/></td><td><input type="checkbox"/></td><td><input type="checkbox"/></td><td>D</td><td><input type="checkbox"/></td><td><input type="checkbox"/></td><td><input type="checkbox"/></td><td>D</td><td><input type="checkbox"/></td><td><input type="checkbox"/></td><td><input type="checkbox"/></td><td><input type="checkbox"/></td></tr> </table>			26	1	2	3	4	5	27	1	2	3	4	5	28	1	2	3	4	5	29	1	2	3	4	5	30	1	2	3	4	5	A	<input type="checkbox"/>	<input type="checkbox"/>	<input type="checkbox"/>	<input type="checkbox"/>	<input type="checkbox"/>	A	<input type="checkbox"/>	<input type="checkbox"/>	<input type="checkbox"/>	<input type="checkbox"/>	<input type="checkbox"/>	A	<input type="checkbox"/>	<input type="checkbox"/>	<input type="checkbox"/>	A	<input type="checkbox"/>	<input type="checkbox"/>	<input type="checkbox"/>	A	<input type="checkbox"/>	<input type="checkbox"/>	<input type="checkbox"/>	<input type="checkbox"/>	B	<input type="checkbox"/>	<input type="checkbox"/>	<input type="checkbox"/>	<input type="checkbox"/>	<input type="checkbox"/>	B	<input type="checkbox"/>	<input type="checkbox"/>	<input type="checkbox"/>	<input type="checkbox"/>	<input type="checkbox"/>	B	<input type="checkbox"/>	<input type="checkbox"/>	<input type="checkbox"/>	B	<input type="checkbox"/>	<input type="checkbox"/>	<input type="checkbox"/>	B	<input type="checkbox"/>	<input type="checkbox"/>	<input type="checkbox"/>	<input type="checkbox"/>	C	<input type="checkbox"/>	<input type="checkbox"/>	<input type="checkbox"/>	<input type="checkbox"/>	<input type="checkbox"/>	C	<input type="checkbox"/>	<input type="checkbox"/>	<input type="checkbox"/>	<input type="checkbox"/>	<input type="checkbox"/>	C	<input type="checkbox"/>	<input type="checkbox"/>	<input type="checkbox"/>	C	<input type="checkbox"/>	<input type="checkbox"/>	<input type="checkbox"/>	C	<input type="checkbox"/>	<input type="checkbox"/>	<input type="checkbox"/>	<input type="checkbox"/>	D	<input type="checkbox"/>	<input type="checkbox"/>	<input type="checkbox"/>	<input type="checkbox"/>	<input type="checkbox"/>	D	<input type="checkbox"/>	<input type="checkbox"/>	<input type="checkbox"/>	<input type="checkbox"/>	<input type="checkbox"/>	D	<input type="checkbox"/>	<input type="checkbox"/>	<input type="checkbox"/>	D	<input type="checkbox"/>	<input type="checkbox"/>	<input type="checkbox"/>	D	<input type="checkbox"/>	<input type="checkbox"/>	<input type="checkbox"/>	<input type="checkbox"/>																											
26	1	2	3	4	5	27	1	2	3	4	5	28	1	2	3	4	5	29	1	2	3	4	5	30	1	2	3	4	5																																																																																																																																		
A	<input type="checkbox"/>	<input type="checkbox"/>	<input type="checkbox"/>	<input type="checkbox"/>	<input type="checkbox"/>	A	<input type="checkbox"/>	<input type="checkbox"/>	<input type="checkbox"/>	<input type="checkbox"/>	<input type="checkbox"/>	A	<input type="checkbox"/>	<input type="checkbox"/>	<input type="checkbox"/>	A	<input type="checkbox"/>	<input type="checkbox"/>	<input type="checkbox"/>	A	<input type="checkbox"/>	<input type="checkbox"/>	<input type="checkbox"/>	<input type="checkbox"/>																																																																																																																																							
B	<input type="checkbox"/>	<input type="checkbox"/>	<input type="checkbox"/>	<input type="checkbox"/>	<input type="checkbox"/>	B	<input type="checkbox"/>	<input type="checkbox"/>	<input type="checkbox"/>	<input type="checkbox"/>	<input type="checkbox"/>	B	<input type="checkbox"/>	<input type="checkbox"/>	<input type="checkbox"/>	B	<input type="checkbox"/>	<input type="checkbox"/>	<input type="checkbox"/>	B	<input type="checkbox"/>	<input type="checkbox"/>	<input type="checkbox"/>	<input type="checkbox"/>																																																																																																																																							
C	<input type="checkbox"/>	<input type="checkbox"/>	<input type="checkbox"/>	<input type="checkbox"/>	<input type="checkbox"/>	C	<input type="checkbox"/>	<input type="checkbox"/>	<input type="checkbox"/>	<input type="checkbox"/>	<input type="checkbox"/>	C	<input type="checkbox"/>	<input type="checkbox"/>	<input type="checkbox"/>	C	<input type="checkbox"/>	<input type="checkbox"/>	<input type="checkbox"/>	C	<input type="checkbox"/>	<input type="checkbox"/>	<input type="checkbox"/>	<input type="checkbox"/>																																																																																																																																							
D	<input type="checkbox"/>	<input type="checkbox"/>	<input type="checkbox"/>	<input type="checkbox"/>	<input type="checkbox"/>	D	<input type="checkbox"/>	<input type="checkbox"/>	<input type="checkbox"/>	<input type="checkbox"/>	<input type="checkbox"/>	D	<input type="checkbox"/>	<input type="checkbox"/>	<input type="checkbox"/>	D	<input type="checkbox"/>	<input type="checkbox"/>	<input type="checkbox"/>	D	<input type="checkbox"/>	<input type="checkbox"/>	<input type="checkbox"/>	<input type="checkbox"/>																																																																																																																																							
<p>МАТЕМАТИКА</p>																																																																																																																																																															
<table border="1" style="width: 100%; border-collapse: collapse;"> <tr> <th>1</th><th>A</th><th>B</th><th>C</th><th>D</th> <th>6</th><th>A</th><th>B</th><th>C</th><th>D</th> <th>11</th><th>A</th><th>B</th><th>C</th><th>D</th> <th>16</th><th>A</th><th>B</th><th>C</th><th>D</th> <th>21</th><th>1</th><th>2</th><th>3</th><th>4</th><th>5</th> <th>22</th><th>1</th><th>2</th><th>3</th><th>4</th><th>5</th> </tr> <tr><td>1</td><td><input type="checkbox"/></td><td><input type="checkbox"/></td><td><input type="checkbox"/></td><td><input type="checkbox"/></td><td>6</td><td><input type="checkbox"/></td><td><input type="checkbox"/></td><td><input type="checkbox"/></td><td><input type="checkbox"/></td><td>11</td><td><input type="checkbox"/></td><td><input type="checkbox"/></td><td><input type="checkbox"/></td><td><input type="checkbox"/></td><td>A</td><td><input type="checkbox"/></td><td><input type="checkbox"/></td><td><input type="checkbox"/></td><td><input type="checkbox"/></td><td>A</td><td><input type="checkbox"/></td><td><input type="checkbox"/></td><td><input type="checkbox"/></td><td><input type="checkbox"/></td></tr> <tr><td>2</td><td><input type="checkbox"/></td><td><input type="checkbox"/></td><td><input type="checkbox"/></td><td><input type="checkbox"/></td><td>7</td><td><input type="checkbox"/></td><td><input type="checkbox"/></td><td><input type="checkbox"/></td><td><input type="checkbox"/></td><td>12</td><td><input type="checkbox"/></td><td><input type="checkbox"/></td><td><input type="checkbox"/></td><td><input type="checkbox"/></td><td>B</td><td><input type="checkbox"/></td><td><input type="checkbox"/></td><td><input type="checkbox"/></td><td><input type="checkbox"/></td><td>B</td><td><input type="checkbox"/></td><td><input type="checkbox"/></td><td><input type="checkbox"/></td><td><input type="checkbox"/></td></tr> <tr><td>3</td><td><input type="checkbox"/></td><td><input type="checkbox"/></td><td><input type="checkbox"/></td><td><input type="checkbox"/></td><td>8</td><td><input type="checkbox"/></td><td><input type="checkbox"/></td><td><input type="checkbox"/></td><td><input type="checkbox"/></td><td>13</td><td><input type="checkbox"/></td><td><input type="checkbox"/></td><td><input type="checkbox"/></td><td><input type="checkbox"/></td><td>C</td><td><input type="checkbox"/></td><td><input type="checkbox"/></td><td><input type="checkbox"/></td><td><input type="checkbox"/></td><td>C</td><td><input type="checkbox"/></td><td><input type="checkbox"/></td><td><input type="checkbox"/></td><td><input type="checkbox"/></td></tr> <tr><td>4</td><td><input type="checkbox"/></td><td><input type="checkbox"/></td><td><input type="checkbox"/></td><td><input type="checkbox"/></td><td>9</td><td><input type="checkbox"/></td><td><input type="checkbox"/></td><td><input type="checkbox"/></td><td><input type="checkbox"/></td><td>14</td><td><input type="checkbox"/></td><td><input type="checkbox"/></td><td><input type="checkbox"/></td><td><input type="checkbox"/></td><td>D</td><td><input type="checkbox"/></td><td><input type="checkbox"/></td><td><input type="checkbox"/></td><td><input type="checkbox"/></td><td>D</td><td><input type="checkbox"/></td><td><input type="checkbox"/></td><td><input type="checkbox"/></td><td><input type="checkbox"/></td></tr> <tr><td>5</td><td><input type="checkbox"/></td><td><input type="checkbox"/></td><td><input type="checkbox"/></td><td><input type="checkbox"/></td><td>10</td><td><input type="checkbox"/></td><td><input type="checkbox"/></td><td><input type="checkbox"/></td><td><input type="checkbox"/></td><td>15</td><td><input type="checkbox"/></td><td><input type="checkbox"/></td><td><input type="checkbox"/></td><td><input type="checkbox"/></td><td></td><td></td><td></td><td></td><td></td><td></td><td></td><td></td><td></td><td></td></tr> </table>			1	A	B	C	D	6	A	B	C	D	11	A	B	C	D	16	A	B	C	D	21	1	2	3	4	5	22	1	2	3	4	5	1	<input type="checkbox"/>	<input type="checkbox"/>	<input type="checkbox"/>	<input type="checkbox"/>	6	<input type="checkbox"/>	<input type="checkbox"/>	<input type="checkbox"/>	<input type="checkbox"/>	11	<input type="checkbox"/>	<input type="checkbox"/>	<input type="checkbox"/>	<input type="checkbox"/>	A	<input type="checkbox"/>	<input type="checkbox"/>	<input type="checkbox"/>	<input type="checkbox"/>	A	<input type="checkbox"/>	<input type="checkbox"/>	<input type="checkbox"/>	<input type="checkbox"/>	2	<input type="checkbox"/>	<input type="checkbox"/>	<input type="checkbox"/>	<input type="checkbox"/>	7	<input type="checkbox"/>	<input type="checkbox"/>	<input type="checkbox"/>	<input type="checkbox"/>	12	<input type="checkbox"/>	<input type="checkbox"/>	<input type="checkbox"/>	<input type="checkbox"/>	B	<input type="checkbox"/>	<input type="checkbox"/>	<input type="checkbox"/>	<input type="checkbox"/>	B	<input type="checkbox"/>	<input type="checkbox"/>	<input type="checkbox"/>	<input type="checkbox"/>	3	<input type="checkbox"/>	<input type="checkbox"/>	<input type="checkbox"/>	<input type="checkbox"/>	8	<input type="checkbox"/>	<input type="checkbox"/>	<input type="checkbox"/>	<input type="checkbox"/>	13	<input type="checkbox"/>	<input type="checkbox"/>	<input type="checkbox"/>	<input type="checkbox"/>	C	<input type="checkbox"/>	<input type="checkbox"/>	<input type="checkbox"/>	<input type="checkbox"/>	C	<input type="checkbox"/>	<input type="checkbox"/>	<input type="checkbox"/>	<input type="checkbox"/>	4	<input type="checkbox"/>	<input type="checkbox"/>	<input type="checkbox"/>	<input type="checkbox"/>	9	<input type="checkbox"/>	<input type="checkbox"/>	<input type="checkbox"/>	<input type="checkbox"/>	14	<input type="checkbox"/>	<input type="checkbox"/>	<input type="checkbox"/>	<input type="checkbox"/>	D	<input type="checkbox"/>	<input type="checkbox"/>	<input type="checkbox"/>	<input type="checkbox"/>	D	<input type="checkbox"/>	<input type="checkbox"/>	<input type="checkbox"/>	<input type="checkbox"/>	5	<input type="checkbox"/>	<input type="checkbox"/>	<input type="checkbox"/>	<input type="checkbox"/>	10	<input type="checkbox"/>	<input type="checkbox"/>	<input type="checkbox"/>	<input type="checkbox"/>	15	<input type="checkbox"/>	<input type="checkbox"/>	<input type="checkbox"/>	<input type="checkbox"/>										
1	A	B	C	D	6	A	B	C	D	11	A	B	C	D	16	A	B	C	D	21	1	2	3	4	5	22	1	2	3	4	5																																																																																																																																
1	<input type="checkbox"/>	<input type="checkbox"/>	<input type="checkbox"/>	<input type="checkbox"/>	6	<input type="checkbox"/>	<input type="checkbox"/>	<input type="checkbox"/>	<input type="checkbox"/>	11	<input type="checkbox"/>	<input type="checkbox"/>	<input type="checkbox"/>	<input type="checkbox"/>	A	<input type="checkbox"/>	<input type="checkbox"/>	<input type="checkbox"/>	<input type="checkbox"/>	A	<input type="checkbox"/>	<input type="checkbox"/>	<input type="checkbox"/>	<input type="checkbox"/>																																																																																																																																							
2	<input type="checkbox"/>	<input type="checkbox"/>	<input type="checkbox"/>	<input type="checkbox"/>	7	<input type="checkbox"/>	<input type="checkbox"/>	<input type="checkbox"/>	<input type="checkbox"/>	12	<input type="checkbox"/>	<input type="checkbox"/>	<input type="checkbox"/>	<input type="checkbox"/>	B	<input type="checkbox"/>	<input type="checkbox"/>	<input type="checkbox"/>	<input type="checkbox"/>	B	<input type="checkbox"/>	<input type="checkbox"/>	<input type="checkbox"/>	<input type="checkbox"/>																																																																																																																																							
3	<input type="checkbox"/>	<input type="checkbox"/>	<input type="checkbox"/>	<input type="checkbox"/>	8	<input type="checkbox"/>	<input type="checkbox"/>	<input type="checkbox"/>	<input type="checkbox"/>	13	<input type="checkbox"/>	<input type="checkbox"/>	<input type="checkbox"/>	<input type="checkbox"/>	C	<input type="checkbox"/>	<input type="checkbox"/>	<input type="checkbox"/>	<input type="checkbox"/>	C	<input type="checkbox"/>	<input type="checkbox"/>	<input type="checkbox"/>	<input type="checkbox"/>																																																																																																																																							
4	<input type="checkbox"/>	<input type="checkbox"/>	<input type="checkbox"/>	<input type="checkbox"/>	9	<input type="checkbox"/>	<input type="checkbox"/>	<input type="checkbox"/>	<input type="checkbox"/>	14	<input type="checkbox"/>	<input type="checkbox"/>	<input type="checkbox"/>	<input type="checkbox"/>	D	<input type="checkbox"/>	<input type="checkbox"/>	<input type="checkbox"/>	<input type="checkbox"/>	D	<input type="checkbox"/>	<input type="checkbox"/>	<input type="checkbox"/>	<input type="checkbox"/>																																																																																																																																							
5	<input type="checkbox"/>	<input type="checkbox"/>	<input type="checkbox"/>	<input type="checkbox"/>	10	<input type="checkbox"/>	<input type="checkbox"/>	<input type="checkbox"/>	<input type="checkbox"/>	15	<input type="checkbox"/>	<input type="checkbox"/>	<input type="checkbox"/>	<input type="checkbox"/>																																																																																																																																																	
<table border="1" style="width: 100%; border-collapse: collapse;"> <tr><td>23</td><td><input type="checkbox"/></td><td><input type="checkbox"/></td><td><input type="checkbox"/></td><td><input type="checkbox"/></td><td>24</td><td><input type="checkbox"/></td><td><input type="checkbox"/></td><td><input type="checkbox"/></td><td><input type="checkbox"/></td><td>25</td><td><input type="checkbox"/></td><td><input type="checkbox"/></td><td><input type="checkbox"/></td><td><input type="checkbox"/></td><td>26</td><td><input type="checkbox"/></td><td><input type="checkbox"/></td><td><input type="checkbox"/></td><td><input type="checkbox"/></td><td>27</td><td><input type="checkbox"/></td><td><input type="checkbox"/></td><td><input type="checkbox"/></td><td><input type="checkbox"/></td></tr> </table>			23	<input type="checkbox"/>	<input type="checkbox"/>	<input type="checkbox"/>	<input type="checkbox"/>	24	<input type="checkbox"/>	<input type="checkbox"/>	<input type="checkbox"/>	<input type="checkbox"/>	25	<input type="checkbox"/>	<input type="checkbox"/>	<input type="checkbox"/>	<input type="checkbox"/>	26	<input type="checkbox"/>	<input type="checkbox"/>	<input type="checkbox"/>	<input type="checkbox"/>	27	<input type="checkbox"/>	<input type="checkbox"/>	<input type="checkbox"/>	<input type="checkbox"/>																																																																																																																																				
23	<input type="checkbox"/>	<input type="checkbox"/>	<input type="checkbox"/>	<input type="checkbox"/>	24	<input type="checkbox"/>	<input type="checkbox"/>	<input type="checkbox"/>	<input type="checkbox"/>	25	<input type="checkbox"/>	<input type="checkbox"/>	<input type="checkbox"/>	<input type="checkbox"/>	26	<input type="checkbox"/>	<input type="checkbox"/>	<input type="checkbox"/>	<input type="checkbox"/>	27	<input type="checkbox"/>	<input type="checkbox"/>	<input type="checkbox"/>	<input type="checkbox"/>																																																																																																																																							
<p>ТАЪРИХИ ХАЛҚИ ТОҶИК ВА АСОСҲОИ ДАВЛАТ ВА ҲУҚУҚ</p>																																																																																																																																																															
<table border="1" style="width: 100%; border-collapse: collapse;"> <tr> <th>1</th><th>A</th><th>B</th><th>C</th><th>D</th> <th>6</th><th>A</th><th>B</th><th>C</th><th>D</th> <th>11</th><th>A</th><th>B</th><th>C</th><th>D</th> <th>16</th><th>A</th><th>B</th><th>C</th><th>D</th> <th>21</th><th>A</th><th>B</th><th>C</th><th>D</th> <th>25</th><th>1</th><th>2</th><th>3</th><th>4</th><th>5</th> </tr> <tr><td>1</td><td><input type="checkbox"/></td><td><input type="checkbox"/></td><td><input type="checkbox"/></td><td><input type="checkbox"/></td><td>6</td><td><input type="checkbox"/></td><td><input type="checkbox"/></td><td><input type="checkbox"/></td><td><input type="checkbox"/></td><td>11</td><td><input type="checkbox"/></td><td><input type="checkbox"/></td><td><input type="checkbox"/></td><td><input type="checkbox"/></td><td>A</td><td><input type="checkbox"/></td><td><input type="checkbox"/></td><td><input type="checkbox"/></td><td><input type="checkbox"/></td><td>A</td><td><input type="checkbox"/></td><td><input type="checkbox"/></td><td><input type="checkbox"/></td><td><input type="checkbox"/></td></tr> <tr><td>2</td><td><input type="checkbox"/></td><td><input type="checkbox"/></td><td><input type="checkbox"/></td><td><input type="checkbox"/></td><td>7</td><td><input type="checkbox"/></td><td><input type="checkbox"/></td><td><input type="checkbox"/></td><td><input type="checkbox"/></td><td>12</td><td><input type="checkbox"/></td><td><input type="checkbox"/></td><td><input type="checkbox"/></td><td><input type="checkbox"/></td><td>B</td><td><input type="checkbox"/></td><td><input type="checkbox"/></td><td><input type="checkbox"/></td><td><input type="checkbox"/></td><td>B</td><td><input type="checkbox"/></td><td><input type="checkbox"/></td><td><input type="checkbox"/></td><td><input type="checkbox"/></td></tr> <tr><td>3</td><td><input type="checkbox"/></td><td><input type="checkbox"/></td><td><input type="checkbox"/></td><td><input type="checkbox"/></td><td>8</td><td><input type="checkbox"/></td><td><input type="checkbox"/></td><td><input type="checkbox"/></td><td><input type="checkbox"/></td><td>13</td><td><input type="checkbox"/></td><td><input type="checkbox"/></td><td><input type="checkbox"/></td><td><input type="checkbox"/></td><td>C</td><td><input type="checkbox"/></td><td><input type="checkbox"/></td><td><input type="checkbox"/></td><td><input type="checkbox"/></td><td>C</td><td><input type="checkbox"/></td><td><input type="checkbox"/></td><td><input type="checkbox"/></td><td><input type="checkbox"/></td></tr> <tr><td>4</td><td><input type="checkbox"/></td><td><input type="checkbox"/></td><td><input type="checkbox"/></td><td><input type="checkbox"/></td><td>9</td><td><input type="checkbox"/></td><td><input type="checkbox"/></td><td><input type="checkbox"/></td><td><input type="checkbox"/></td><td>14</td><td><input type="checkbox"/></td><td><input type="checkbox"/></td><td><input type="checkbox"/></td><td><input type="checkbox"/></td><td>D</td><td><input type="checkbox"/></td><td><input type="checkbox"/></td><td><input type="checkbox"/></td><td><input type="checkbox"/></td><td>D</td><td><input type="checkbox"/></td><td><input type="checkbox"/></td><td><input type="checkbox"/></td><td><input type="checkbox"/></td></tr> <tr><td>5</td><td><input type="checkbox"/></td><td><input type="checkbox"/></td><td><input type="checkbox"/></td><td><input type="checkbox"/></td><td>10</td><td><input type="checkbox"/></td><td><input type="checkbox"/></td><td><input type="checkbox"/></td><td><input type="checkbox"/></td><td>15</td><td><input type="checkbox"/></td><td><input type="checkbox"/></td><td><input type="checkbox"/></td><td><input type="checkbox"/></td><td></td><td></td><td></td><td></td><td></td><td></td><td></td><td></td><td></td><td></td></tr> </table>			1	A	B	C	D	6	A	B	C	D	11	A	B	C	D	16	A	B	C	D	21	A	B	C	D	25	1	2	3	4	5	1	<input type="checkbox"/>	<input type="checkbox"/>	<input type="checkbox"/>	<input type="checkbox"/>	6	<input type="checkbox"/>	<input type="checkbox"/>	<input type="checkbox"/>	<input type="checkbox"/>	11	<input type="checkbox"/>	<input type="checkbox"/>	<input type="checkbox"/>	<input type="checkbox"/>	A	<input type="checkbox"/>	<input type="checkbox"/>	<input type="checkbox"/>	<input type="checkbox"/>	A	<input type="checkbox"/>	<input type="checkbox"/>	<input type="checkbox"/>	<input type="checkbox"/>	2	<input type="checkbox"/>	<input type="checkbox"/>	<input type="checkbox"/>	<input type="checkbox"/>	7	<input type="checkbox"/>	<input type="checkbox"/>	<input type="checkbox"/>	<input type="checkbox"/>	12	<input type="checkbox"/>	<input type="checkbox"/>	<input type="checkbox"/>	<input type="checkbox"/>	B	<input type="checkbox"/>	<input type="checkbox"/>	<input type="checkbox"/>	<input type="checkbox"/>	B	<input type="checkbox"/>	<input type="checkbox"/>	<input type="checkbox"/>	<input type="checkbox"/>	3	<input type="checkbox"/>	<input type="checkbox"/>	<input type="checkbox"/>	<input type="checkbox"/>	8	<input type="checkbox"/>	<input type="checkbox"/>	<input type="checkbox"/>	<input type="checkbox"/>	13	<input type="checkbox"/>	<input type="checkbox"/>	<input type="checkbox"/>	<input type="checkbox"/>	C	<input type="checkbox"/>	<input type="checkbox"/>	<input type="checkbox"/>	<input type="checkbox"/>	C	<input type="checkbox"/>	<input type="checkbox"/>	<input type="checkbox"/>	<input type="checkbox"/>	4	<input type="checkbox"/>	<input type="checkbox"/>	<input type="checkbox"/>	<input type="checkbox"/>	9	<input type="checkbox"/>	<input type="checkbox"/>	<input type="checkbox"/>	<input type="checkbox"/>	14	<input type="checkbox"/>	<input type="checkbox"/>	<input type="checkbox"/>	<input type="checkbox"/>	D	<input type="checkbox"/>	<input type="checkbox"/>	<input type="checkbox"/>	<input type="checkbox"/>	D	<input type="checkbox"/>	<input type="checkbox"/>	<input type="checkbox"/>	<input type="checkbox"/>	5	<input type="checkbox"/>	<input type="checkbox"/>	<input type="checkbox"/>	<input type="checkbox"/>	10	<input type="checkbox"/>	<input type="checkbox"/>	<input type="checkbox"/>	<input type="checkbox"/>	15	<input type="checkbox"/>	<input type="checkbox"/>	<input type="checkbox"/>	<input type="checkbox"/>											
1	A	B	C	D	6	A	B	C	D	11	A	B	C	D	16	A	B	C	D	21	A	B	C	D	25	1	2	3	4	5																																																																																																																																	
1	<input type="checkbox"/>	<input type="checkbox"/>	<input type="checkbox"/>	<input type="checkbox"/>	6	<input type="checkbox"/>	<input type="checkbox"/>	<input type="checkbox"/>	<input type="checkbox"/>	11	<input type="checkbox"/>	<input type="checkbox"/>	<input type="checkbox"/>	<input type="checkbox"/>	A	<input type="checkbox"/>	<input type="checkbox"/>	<input type="checkbox"/>	<input type="checkbox"/>	A	<input type="checkbox"/>	<input type="checkbox"/>	<input type="checkbox"/>	<input type="checkbox"/>																																																																																																																																							
2	<input type="checkbox"/>	<input type="checkbox"/>	<input type="checkbox"/>	<input type="checkbox"/>	7	<input type="checkbox"/>	<input type="checkbox"/>	<input type="checkbox"/>	<input type="checkbox"/>	12	<input type="checkbox"/>	<input type="checkbox"/>	<input type="checkbox"/>	<input type="checkbox"/>	B	<input type="checkbox"/>	<input type="checkbox"/>	<input type="checkbox"/>	<input type="checkbox"/>	B	<input type="checkbox"/>	<input type="checkbox"/>	<input type="checkbox"/>	<input type="checkbox"/>																																																																																																																																							
3	<input type="checkbox"/>	<input type="checkbox"/>	<input type="checkbox"/>	<input type="checkbox"/>	8	<input type="checkbox"/>	<input type="checkbox"/>	<input type="checkbox"/>	<input type="checkbox"/>	13	<input type="checkbox"/>	<input type="checkbox"/>	<input type="checkbox"/>	<input type="checkbox"/>	C	<input type="checkbox"/>	<input type="checkbox"/>	<input type="checkbox"/>	<input type="checkbox"/>	C	<input type="checkbox"/>	<input type="checkbox"/>	<input type="checkbox"/>	<input type="checkbox"/>																																																																																																																																							
4	<input type="checkbox"/>	<input type="checkbox"/>	<input type="checkbox"/>	<input type="checkbox"/>	9	<input type="checkbox"/>	<input type="checkbox"/>	<input type="checkbox"/>	<input type="checkbox"/>	14	<input type="checkbox"/>	<input type="checkbox"/>	<input type="checkbox"/>	<input type="checkbox"/>	D	<input type="checkbox"/>	<input type="checkbox"/>	<input type="checkbox"/>	<input type="checkbox"/>	D	<input type="checkbox"/>	<input type="checkbox"/>	<input type="checkbox"/>	<input type="checkbox"/>																																																																																																																																							
5	<input type="checkbox"/>	<input type="checkbox"/>	<input type="checkbox"/>	<input type="checkbox"/>	10	<input type="checkbox"/>	<input type="checkbox"/>	<input type="checkbox"/>	<input type="checkbox"/>	15	<input type="checkbox"/>	<input type="checkbox"/>	<input type="checkbox"/>	<input type="checkbox"/>																																																																																																																																																	
<table border="1" style="width: 100%; border-collapse: collapse;"> <tr> <th>26</th><th>1</th><th>2</th><th>3</th><th>4</th><th>5</th> <th>27</th><th>1</th><th>2</th><th>3</th><th>4</th><th>5</th> <th>28</th><th>1</th><th>2</th><th>3</th><th>4</th><th>5</th> <th>29</th><th>1</th><th>2</th><th>3</th><th>4</th><th>5</th> <th>30</th><th>1</th><th>2</th><th>3</th><th>4</th><th>5</th> </tr> <tr><td>A</td><td><input type="checkbox"/></td><td><input type="checkbox"/></td><td><input type="checkbox"/></td><td><input type="checkbox"/></td><td><input type="checkbox"/></td><td>A</td><td><input type="checkbox"/></td><td><input type="checkbox"/></td><td><input type="checkbox"/></td><td><input type="checkbox"/></td><td><input type="checkbox"/></td><td>A</td><td><input type="checkbox"/></td><td><input type="checkbox"/></td><td><input type="checkbox"/></td><td>A</td><td><input type="checkbox"/></td><td><input type="checkbox"/></td><td><input type="checkbox"/></td><td>A</td><td><input type="checkbox"/></td><td><input type="checkbox"/></td><td><input type="checkbox"/></td><td><input type="checkbox"/></td></tr> <tr><td>B</td><td><input type="checkbox"/></td><td><input type="checkbox"/></td><td><input type="checkbox"/></td><td><input type="checkbox"/></td><td><input type="checkbox"/></td><td>B</td><td><input type="checkbox"/></td><td><input type="checkbox"/></td><td><input type="checkbox"/></td><td><input type="checkbox"/></td><td><input type="checkbox"/></td><td>B</td><td><input type="checkbox"/></td><td><input type="checkbox"/></td><td><input type="checkbox"/></td><td>B</td><td><input type="checkbox"/></td><td><input type="checkbox"/></td><td><input type="checkbox"/></td><td>B</td><td><input type="checkbox"/></td><td><input type="checkbox"/></td><td><input type="checkbox"/></td><td><input type="checkbox"/></td></tr> <tr><td>C</td><td><input type="checkbox"/></td><td><input type="checkbox"/></td><td><input type="checkbox"/></td><td><input type="checkbox"/></td><td><input type="checkbox"/></td><td>C</td><td><input type="checkbox"/></td><td><input type="checkbox"/></td><td><input type="checkbox"/></td><td><input type="checkbox"/></td><td><input type="checkbox"/></td><td>C</td><td><input type="checkbox"/></td><td><input type="checkbox"/></td><td><input type="checkbox"/></td><td>C</td><td><input type="checkbox"/></td><td><input type="checkbox"/></td><td><input type="checkbox"/></td><td>C</td><td><input type="checkbox"/></td><td><input type="checkbox"/></td><td><input type="checkbox"/></td><td><input type="checkbox"/></td></tr> <tr><td>D</td><td><input type="checkbox"/></td><td><input type="checkbox"/></td><td><input type="checkbox"/></td><td><input type="checkbox"/></td><td><input type="checkbox"/></td><td>D</td><td><input type="checkbox"/></td><td><input type="checkbox"/></td><td><input type="checkbox"/></td><td><input type="checkbox"/></td><td><input type="checkbox"/></td><td>D</td><td><input type="checkbox"/></td><td><input type="checkbox"/></td><td><input type="checkbox"/></td><td>D</td><td><input type="checkbox"/></td><td><input type="checkbox"/></td><td><input type="checkbox"/></td><td>D</td><td><input type="checkbox"/></td><td><input type="checkbox"/></td><td><input type="checkbox"/></td><td><input type="checkbox"/></td></tr> </table>			26	1	2	3	4	5	27	1	2	3	4	5	28	1	2	3	4	5	29	1	2	3	4	5	30	1	2	3	4	5	A	<input type="checkbox"/>	<input type="checkbox"/>	<input type="checkbox"/>	<input type="checkbox"/>	<input type="checkbox"/>	A	<input type="checkbox"/>	<input type="checkbox"/>	<input type="checkbox"/>	<input type="checkbox"/>	<input type="checkbox"/>	A	<input type="checkbox"/>	<input type="checkbox"/>	<input type="checkbox"/>	A	<input type="checkbox"/>	<input type="checkbox"/>	<input type="checkbox"/>	A	<input type="checkbox"/>	<input type="checkbox"/>	<input type="checkbox"/>	<input type="checkbox"/>	B	<input type="checkbox"/>	<input type="checkbox"/>	<input type="checkbox"/>	<input type="checkbox"/>	<input type="checkbox"/>	B	<input type="checkbox"/>	<input type="checkbox"/>	<input type="checkbox"/>	<input type="checkbox"/>	<input type="checkbox"/>	B	<input type="checkbox"/>	<input type="checkbox"/>	<input type="checkbox"/>	B	<input type="checkbox"/>	<input type="checkbox"/>	<input type="checkbox"/>	B	<input type="checkbox"/>	<input type="checkbox"/>	<input type="checkbox"/>	<input type="checkbox"/>	C	<input type="checkbox"/>	<input type="checkbox"/>	<input type="checkbox"/>	<input type="checkbox"/>	<input type="checkbox"/>	C	<input type="checkbox"/>	<input type="checkbox"/>	<input type="checkbox"/>	<input type="checkbox"/>	<input type="checkbox"/>	C	<input type="checkbox"/>	<input type="checkbox"/>	<input type="checkbox"/>	C	<input type="checkbox"/>	<input type="checkbox"/>	<input type="checkbox"/>	C	<input type="checkbox"/>	<input type="checkbox"/>	<input type="checkbox"/>	<input type="checkbox"/>	D	<input type="checkbox"/>	<input type="checkbox"/>	<input type="checkbox"/>	<input type="checkbox"/>	<input type="checkbox"/>	D	<input type="checkbox"/>	<input type="checkbox"/>	<input type="checkbox"/>	<input type="checkbox"/>	<input type="checkbox"/>	D	<input type="checkbox"/>	<input type="checkbox"/>	<input type="checkbox"/>	D	<input type="checkbox"/>	<input type="checkbox"/>	<input type="checkbox"/>	D	<input type="checkbox"/>	<input type="checkbox"/>	<input type="checkbox"/>	<input type="checkbox"/>																											
26	1	2	3	4	5	27	1	2	3	4	5	28	1	2	3	4	5	29	1	2	3	4	5	30	1	2	3	4	5																																																																																																																																		
A	<input type="checkbox"/>	<input type="checkbox"/>	<input type="checkbox"/>	<input type="checkbox"/>	<input type="checkbox"/>	A	<input type="checkbox"/>	<input type="checkbox"/>	<input type="checkbox"/>	<input type="checkbox"/>	<input type="checkbox"/>	A	<input type="checkbox"/>	<input type="checkbox"/>	<input type="checkbox"/>	A	<input type="checkbox"/>	<input type="checkbox"/>	<input type="checkbox"/>	A	<input type="checkbox"/>	<input type="checkbox"/>	<input type="checkbox"/>	<input type="checkbox"/>																																																																																																																																							
B	<input type="checkbox"/>	<input type="checkbox"/>	<input type="checkbox"/>	<input type="checkbox"/>	<input type="checkbox"/>	B	<input type="checkbox"/>	<input type="checkbox"/>	<input type="checkbox"/>	<input type="checkbox"/>	<input type="checkbox"/>	B	<input type="checkbox"/>	<input type="checkbox"/>	<input type="checkbox"/>	B	<input type="checkbox"/>	<input type="checkbox"/>	<input type="checkbox"/>	B	<input type="checkbox"/>	<input type="checkbox"/>	<input type="checkbox"/>	<input type="checkbox"/>																																																																																																																																							
C	<input type="checkbox"/>	<input type="checkbox"/>	<input type="checkbox"/>	<input type="checkbox"/>	<input type="checkbox"/>	C	<input type="checkbox"/>	<input type="checkbox"/>	<input type="checkbox"/>	<input type="checkbox"/>	<input type="checkbox"/>	C	<input type="checkbox"/>	<input type="checkbox"/>	<input type="checkbox"/>	C	<input type="checkbox"/>	<input type="checkbox"/>	<input type="checkbox"/>	C	<input type="checkbox"/>	<input type="checkbox"/>	<input type="checkbox"/>	<input type="checkbox"/>																																																																																																																																							
D	<input type="checkbox"/>	<input type="checkbox"/>	<input type="checkbox"/>	<input type="checkbox"/>	<input type="checkbox"/>	D	<input type="checkbox"/>	<input type="checkbox"/>	<input type="checkbox"/>	<input type="checkbox"/>	<input type="checkbox"/>	D	<input type="checkbox"/>	<input type="checkbox"/>	<input type="checkbox"/>	D	<input type="checkbox"/>	<input type="checkbox"/>	<input type="checkbox"/>	D	<input type="checkbox"/>	<input type="checkbox"/>	<input type="checkbox"/>	<input type="checkbox"/>																																																																																																																																							

Ҷой барои штрих-код

Муассисаи давлатии
“Маркази миллии тестӣ”

ВАРАҚАИ ҶАВОБҲО



Намунаи ишораи ҷавоби дуруст

A	B	C	D
<input type="checkbox"/>	<input type="checkbox"/>	<input checked="" type="checkbox"/>	<input type="checkbox"/>

Намунаи ислоҳи ҷавоби нодуруст ва ишораи ҷавоби дуруст

A	B	C	D
<input checked="" type="checkbox"/>	<input type="checkbox"/>	<input type="checkbox"/>	<input checked="" type="checkbox"/>

Бодикқат бошед!
Ҷавоби худро дар варақаи ҷавобҳо мувофиқи дастури иҷрои тест нависед.

Намунаи навишти дурусти рақамҳо дар саволҳои навъи кушода

0	1	2	3	4	5	6	7	8	9
---	---	---	---	---	---	---	---	---	---

Ҳангоми навиштани ҷавоб ба саволу масъалаҳои навъи кушода рақам набояд аз катаки ҷудошуда берун барояд. Масалан:

адади 2 адади -27 адади 279

<input type="checkbox"/>	<input type="checkbox"/>	<input type="checkbox"/>	2
<input type="checkbox"/>	-	2	7
<input type="checkbox"/>	2	7	9

ВАРИАНТИ

1	2	3	4	5	6	7	8	9	10	11	12	13	14	15
<input type="checkbox"/>	<input type="checkbox"/>	<input type="checkbox"/>	<input type="checkbox"/>	<input type="checkbox"/>	<input type="checkbox"/>	<input type="checkbox"/>	<input type="checkbox"/>	<input type="checkbox"/>	<input type="checkbox"/>	<input type="checkbox"/>	<input type="checkbox"/>	<input type="checkbox"/>	<input type="checkbox"/>	<input type="checkbox"/>

МАТЕМАТИКА

1 A B C D	6 A B C D	11 A B C D	16 A B C D	21 A 1 2 3 4 5	22 A 1 2 3 4 5
2	7	12	17	B	B
3	8	13	18	C	C
4	9	14	19	D	D
5	10	15	20		

23	24	25	26	27
----	----	----	----	----

ФИЗИКА

1 A B C D	3 A B C D	5 A B C D	7 A B C D	9 A B C D	11 A B C D
2	4	6	8	10	12

13 A 1 2 3 4 5	14 A 1 2 3 4 5	15 A 1 2 3 4 5	16 A 1 2 3 4 5	17 A 1 2 3 4 5
B	B	B	B	B
C	C	C	C	C
D	D	D	D	D

18	19	20	21	22
----	----	----	----	----

ХИМИЯ

1 A B C D	5 A B C D	8 A B C D	11 A B C D	14 A B C D	17 A B C D
2	6	9	12	15	18
3	7	10	13	16	19
4					

20 A 1 2 3 4 5	21 A 1 2 3 4 5	22 A 1 2 3 4 5	23
B	B	B	
C	C	C	24
D	D	D	25

116

Кластери 2

Ҷой барон штрих-код

Муассисаи давлатии
“Маркази миллии тестӣ”

ВАРАҚАИ ҶАВОБҲО

Б.2

■ Намунаи ишораи ҷавоби дуруст

A	B	C	D
<input type="checkbox"/>	<input type="checkbox"/>	<input checked="" type="checkbox"/>	<input type="checkbox"/>

Намунаи ислоҳи ҷавоби нодуруст
ва ишораи ҷавоби дуруст

A	B	C	D
<input checked="" type="checkbox"/>	<input type="checkbox"/>	<input type="checkbox"/>	<input checked="" type="checkbox"/>

Бодиққат бошед!
Ҷавоби худро дар варақаи ҷавобҳо мувофиқи
дастури иҷрои тест нависед.

Намунаи нависити дурусти рақамҳо дар саволҳои навъи кушода

0	1	2	3	4	5	6	7	8	9
---	---	---	---	---	---	---	---	---	---

Ҳангоми нависитани ҷавоб ба саволу масъалаҳои навъи кушода рақам набояд аз катаки ҷудошуда берун барояд. Масалан:

адади 2	адади -27	адади 279	
<input type="text" value="2"/>	<input type="text" value="-27"/>	<input type="text" value="279"/>	

Варианти 1 2 3 4 5 6 7 8 9 10 11 12 13 14 15

МАТЕМАТИКА

1	A	B	C	D	6	A	B	C	D	11	A	B	C	D	16	A	B	C	D	21	A	B	C	D	22	A	B	C	D					
2					7					12					17																			
3					8					13					18																			
4					9					14					19																			
5					10					15					20																			

23					24					25					26					27				
----	--	--	--	--	----	--	--	--	--	----	--	--	--	--	----	--	--	--	--	----	--	--	--	--

ГЕОГРАФИЯ

1	A	B	C	D	5	A	B	C	D	9	A	B	C	D	13	A	B	C	D	17	A	B	C	D
2					6					10					14					18				
3					7					11					15					19				
4					8					12					16					20				

21	A	B	C	D	22	A	B	C	D	23	A	B	C	D	24	A	B	C	D	25	A	B	C	D

ЗАБОНИ ХОРИҶӢ

Забони англисӣ <input type="checkbox"/>	Забони олмонӣ <input type="checkbox"/>	Забони франсаӣ <input type="checkbox"/>	Забони арабӣ <input type="checkbox"/>
---	--	---	---------------------------------------

1	A	B	C	D	4	A	B	C	D	7	A	B	C	D	10	A	B	C	D	13	A	B	C	D	16	A	B	C	D
2					5					8					11					14									
3					6					9					12					15									

17	A	B	C	D	18	A	B	C	D	19	A	B	C	D	20	A	B	C	D

Кластери 3 (гурӯҳи тоҷикӣ)

Ҷой барои штрих-код

Муассисаи давлатии
“Маркази миллии тестӣ”

ВАРАҚАИ ҶАВОБҲО

Б.3

■ Намунаи ишораи ҷавоби дуруст

A	B	C	D
<input type="checkbox"/>	<input type="checkbox"/>	<input checked="" type="checkbox"/>	<input type="checkbox"/>

Намунаи ислоҳи ҷавоби нодуруст
ва ишораи ҷавоби дуруст

A	B	C	D
<input checked="" type="checkbox"/>	<input type="checkbox"/>	<input type="checkbox"/>	<input checked="" type="checkbox"/>

Бодикқат бошед!

*Ҷавоби худро дар варақаи ҷавобҳо мувофиқи
дастури иҷрои тест нависед.*

Намунаи навишти дурусти рақамҳо
дар саволҳои навъи кушода

0	1	2	3	4	5	6	7	8	9
---	---	---	---	---	---	---	---	---	---

Ҳангоми навиштани ҷавоб ба саволу масъалаҳои навъи кушода рақам
набояд аз катаки ҷудошуда берун барояд. Масалан:

адади 2	адади - 27	адади 279
<input type="text" value="2"/>	<input type="text" value="- 27"/>	<input type="text" value="279"/>

1	2	3	4	5	6	7	8	9	10	11	12	13	14	15
Варианти	<input type="checkbox"/>	<input type="checkbox"/>	<input type="checkbox"/>	<input type="checkbox"/>	<input type="checkbox"/>	<input type="checkbox"/>	<input type="checkbox"/>	<input type="checkbox"/>	<input type="checkbox"/>	<input type="checkbox"/>	<input type="checkbox"/>	<input type="checkbox"/>	<input type="checkbox"/>	<input type="checkbox"/>

ЗАБОН ВА АДАБИЁТИ ТОҶИК

1	A	B	C	D	4	A	B	C	D	7	A	B	C	D	10	A	B	C	D	13	A	B	C	D
2	<input type="checkbox"/>	<input type="checkbox"/>	<input type="checkbox"/>	<input type="checkbox"/>	5	<input type="checkbox"/>	<input type="checkbox"/>	<input type="checkbox"/>	<input type="checkbox"/>	8	<input type="checkbox"/>	<input type="checkbox"/>	<input type="checkbox"/>	<input type="checkbox"/>	11	<input type="checkbox"/>	<input type="checkbox"/>	<input type="checkbox"/>	<input type="checkbox"/>	14	<input type="checkbox"/>	<input type="checkbox"/>	<input type="checkbox"/>	<input type="checkbox"/>
3	<input type="checkbox"/>	<input type="checkbox"/>	<input type="checkbox"/>	<input type="checkbox"/>	6	<input type="checkbox"/>	<input type="checkbox"/>	<input type="checkbox"/>	<input type="checkbox"/>	9	<input type="checkbox"/>	<input type="checkbox"/>	<input type="checkbox"/>	<input type="checkbox"/>	12	<input type="checkbox"/>	<input type="checkbox"/>	<input type="checkbox"/>	<input type="checkbox"/>	15	<input type="checkbox"/>	<input type="checkbox"/>	<input type="checkbox"/>	<input type="checkbox"/>

16	1	2	3	4	5	17	1	2	3	4	5	18	1	2	3	4	5	19	1	2	3	4	5	20	1	2	3	4	5
A	<input type="checkbox"/>	<input type="checkbox"/>	<input type="checkbox"/>	<input type="checkbox"/>	<input type="checkbox"/>	A	<input type="checkbox"/>	<input type="checkbox"/>	<input type="checkbox"/>	<input type="checkbox"/>	<input type="checkbox"/>	A	<input type="checkbox"/>	<input type="checkbox"/>	<input type="checkbox"/>	<input type="checkbox"/>	A	<input type="checkbox"/>	<input type="checkbox"/>	<input type="checkbox"/>	<input type="checkbox"/>	<input type="checkbox"/>	A	<input type="checkbox"/>	<input type="checkbox"/>	<input type="checkbox"/>	<input type="checkbox"/>	<input type="checkbox"/>	
B	<input type="checkbox"/>	<input type="checkbox"/>	<input type="checkbox"/>	<input type="checkbox"/>	<input type="checkbox"/>	B	<input type="checkbox"/>	<input type="checkbox"/>	<input type="checkbox"/>	<input type="checkbox"/>	<input type="checkbox"/>	B	<input type="checkbox"/>	<input type="checkbox"/>	<input type="checkbox"/>	<input type="checkbox"/>	B	<input type="checkbox"/>	<input type="checkbox"/>	<input type="checkbox"/>	<input type="checkbox"/>	<input type="checkbox"/>	B	<input type="checkbox"/>	<input type="checkbox"/>	<input type="checkbox"/>	<input type="checkbox"/>	<input type="checkbox"/>	
C	<input type="checkbox"/>	<input type="checkbox"/>	<input type="checkbox"/>	<input type="checkbox"/>	<input type="checkbox"/>	C	<input type="checkbox"/>	<input type="checkbox"/>	<input type="checkbox"/>	<input type="checkbox"/>	<input type="checkbox"/>	C	<input type="checkbox"/>	<input type="checkbox"/>	<input type="checkbox"/>	<input type="checkbox"/>	C	<input type="checkbox"/>	<input type="checkbox"/>	<input type="checkbox"/>	<input type="checkbox"/>	<input type="checkbox"/>	C	<input type="checkbox"/>	<input type="checkbox"/>	<input type="checkbox"/>	<input type="checkbox"/>	<input type="checkbox"/>	
D	<input type="checkbox"/>	<input type="checkbox"/>	<input type="checkbox"/>	<input type="checkbox"/>	<input type="checkbox"/>	D	<input type="checkbox"/>	<input type="checkbox"/>	<input type="checkbox"/>	<input type="checkbox"/>	<input type="checkbox"/>	D	<input type="checkbox"/>	<input type="checkbox"/>	<input type="checkbox"/>	<input type="checkbox"/>	D	<input type="checkbox"/>	<input type="checkbox"/>	<input type="checkbox"/>	<input type="checkbox"/>	<input type="checkbox"/>	D	<input type="checkbox"/>	<input type="checkbox"/>	<input type="checkbox"/>	<input type="checkbox"/>	<input type="checkbox"/>	

ТАЪРИХ

1	A	B	C	D	5	A	B	C	D	9	A	B	C	D	13	A	B	C	D	17	A	B	C	D
2	<input type="checkbox"/>	<input type="checkbox"/>	<input type="checkbox"/>	<input type="checkbox"/>	6	<input type="checkbox"/>	<input type="checkbox"/>	<input type="checkbox"/>	<input type="checkbox"/>	10	<input type="checkbox"/>	<input type="checkbox"/>	<input type="checkbox"/>	<input type="checkbox"/>	14	<input type="checkbox"/>	<input type="checkbox"/>	<input type="checkbox"/>	<input type="checkbox"/>	18	<input type="checkbox"/>	<input type="checkbox"/>	<input type="checkbox"/>	<input type="checkbox"/>
3	<input type="checkbox"/>	<input type="checkbox"/>	<input type="checkbox"/>	<input type="checkbox"/>	7	<input type="checkbox"/>	<input type="checkbox"/>	<input type="checkbox"/>	<input type="checkbox"/>	11	<input type="checkbox"/>	<input type="checkbox"/>	<input type="checkbox"/>	<input type="checkbox"/>	15	<input type="checkbox"/>	<input type="checkbox"/>	<input type="checkbox"/>	<input type="checkbox"/>	19	<input type="checkbox"/>	<input type="checkbox"/>	<input type="checkbox"/>	<input type="checkbox"/>
4	<input type="checkbox"/>	<input type="checkbox"/>	<input type="checkbox"/>	<input type="checkbox"/>	8	<input type="checkbox"/>	<input type="checkbox"/>	<input type="checkbox"/>	<input type="checkbox"/>	12	<input type="checkbox"/>	<input type="checkbox"/>	<input type="checkbox"/>	<input type="checkbox"/>	16	<input type="checkbox"/>	<input type="checkbox"/>	<input type="checkbox"/>	<input type="checkbox"/>	20	<input type="checkbox"/>	<input type="checkbox"/>	<input type="checkbox"/>	<input type="checkbox"/>

21	1	2	3	4	5	22	1	2	3	4	5	23	1	2	3	4	5	24	1	2	3	4	5	25	1	2	3	4	5
A	<input type="checkbox"/>	<input type="checkbox"/>	<input type="checkbox"/>	<input type="checkbox"/>	<input type="checkbox"/>	A	<input type="checkbox"/>	<input type="checkbox"/>	<input type="checkbox"/>	<input type="checkbox"/>	A	<input type="checkbox"/>	<input type="checkbox"/>	<input type="checkbox"/>	<input type="checkbox"/>	A	<input type="checkbox"/>	<input type="checkbox"/>	<input type="checkbox"/>	<input type="checkbox"/>	<input type="checkbox"/>	A	<input type="checkbox"/>	<input type="checkbox"/>	<input type="checkbox"/>	<input type="checkbox"/>	<input type="checkbox"/>		
B	<input type="checkbox"/>	<input type="checkbox"/>	<input type="checkbox"/>	<input type="checkbox"/>	<input type="checkbox"/>	B	<input type="checkbox"/>	<input type="checkbox"/>	<input type="checkbox"/>	<input type="checkbox"/>	B	<input type="checkbox"/>	<input type="checkbox"/>	<input type="checkbox"/>	<input type="checkbox"/>	B	<input type="checkbox"/>	<input type="checkbox"/>	<input type="checkbox"/>	<input type="checkbox"/>	<input type="checkbox"/>	B	<input type="checkbox"/>	<input type="checkbox"/>	<input type="checkbox"/>	<input type="checkbox"/>	<input type="checkbox"/>		
C	<input type="checkbox"/>	<input type="checkbox"/>	<input type="checkbox"/>	<input type="checkbox"/>	<input type="checkbox"/>	C	<input type="checkbox"/>	<input type="checkbox"/>	<input type="checkbox"/>	<input type="checkbox"/>	C	<input type="checkbox"/>	<input type="checkbox"/>	<input type="checkbox"/>	<input type="checkbox"/>	C	<input type="checkbox"/>	<input type="checkbox"/>	<input type="checkbox"/>	<input type="checkbox"/>	<input type="checkbox"/>	C	<input type="checkbox"/>	<input type="checkbox"/>	<input type="checkbox"/>	<input type="checkbox"/>	<input type="checkbox"/>		
D	<input type="checkbox"/>	<input type="checkbox"/>	<input type="checkbox"/>	<input type="checkbox"/>	<input type="checkbox"/>	D	<input type="checkbox"/>	<input type="checkbox"/>	<input type="checkbox"/>	<input type="checkbox"/>	D	<input type="checkbox"/>	<input type="checkbox"/>	<input type="checkbox"/>	<input type="checkbox"/>	D	<input type="checkbox"/>	<input type="checkbox"/>	<input type="checkbox"/>	<input type="checkbox"/>	<input type="checkbox"/>	D	<input type="checkbox"/>	<input type="checkbox"/>	<input type="checkbox"/>	<input type="checkbox"/>	<input type="checkbox"/>		

ЗАБОНИ ХОРИҶӢ

Забони англисӣ <input type="checkbox"/>					Забони олмонӣ <input type="checkbox"/>					Забони франсавӣ <input type="checkbox"/>					Забони арабӣ <input type="checkbox"/>														
1	A	B	C	D	4	A	B	C	D	7	A	B	C	D	10	A	B	C	D	13	A	B	C	D	16	A	B	C	D
2	<input type="checkbox"/>	<input type="checkbox"/>	<input type="checkbox"/>	<input type="checkbox"/>	5	<input type="checkbox"/>	<input type="checkbox"/>	<input type="checkbox"/>	<input type="checkbox"/>	8	<input type="checkbox"/>	<input type="checkbox"/>	<input type="checkbox"/>	<input type="checkbox"/>	11	<input type="checkbox"/>	<input type="checkbox"/>	<input type="checkbox"/>	<input type="checkbox"/>	14	<input type="checkbox"/>	<input type="checkbox"/>	<input type="checkbox"/>	<input type="checkbox"/>					
3	<input type="checkbox"/>	<input type="checkbox"/>	<input type="checkbox"/>	<input type="checkbox"/>	6	<input type="checkbox"/>	<input type="checkbox"/>	<input type="checkbox"/>	<input type="checkbox"/>	9	<input type="checkbox"/>	<input type="checkbox"/>	<input type="checkbox"/>	<input type="checkbox"/>	12	<input type="checkbox"/>	<input type="checkbox"/>	<input type="checkbox"/>	<input type="checkbox"/>	15	<input type="checkbox"/>	<input type="checkbox"/>	<input type="checkbox"/>	<input type="checkbox"/>					

17	1	2	3	4	5	18	1	2	3	4	5	19	1	2	3	4	5	20	1	2	3	4	5
A	<input type="checkbox"/>	<input type="checkbox"/>	<input type="checkbox"/>	<input type="checkbox"/>	<input type="checkbox"/>	A	<input type="checkbox"/>	<input type="checkbox"/>	<input type="checkbox"/>	<input type="checkbox"/>	A	<input type="checkbox"/>	<input type="checkbox"/>	<input type="checkbox"/>	<input type="checkbox"/>	A	<input type="checkbox"/>	<input type="checkbox"/>	<input type="checkbox"/>	<input type="checkbox"/>	<input type="checkbox"/>		
B	<input type="checkbox"/>	<input type="checkbox"/>	<input type="checkbox"/>	<input type="checkbox"/>	<input type="checkbox"/>	B	<input type="checkbox"/>	<input type="checkbox"/>	<input type="checkbox"/>	<input type="checkbox"/>	B	<input type="checkbox"/>	<input type="checkbox"/>	<input type="checkbox"/>	<input type="checkbox"/>	B	<input type="checkbox"/>	<input type="checkbox"/>	<input type="checkbox"/>	<input type="checkbox"/>	<input type="checkbox"/>		
C	<input type="checkbox"/>	<input type="checkbox"/>	<input type="checkbox"/>	<input type="checkbox"/>	<input type="checkbox"/>	C	<input type="checkbox"/>	<input type="checkbox"/>	<input type="checkbox"/>	<input type="checkbox"/>	C	<input type="checkbox"/>	<input type="checkbox"/>	<input type="checkbox"/>	<input type="checkbox"/>	C	<input type="checkbox"/>	<input type="checkbox"/>	<input type="checkbox"/>	<input type="checkbox"/>	<input type="checkbox"/>		
D	<input type="checkbox"/>	<input type="checkbox"/>	<input type="checkbox"/>	<input type="checkbox"/>	<input type="checkbox"/>	D	<input type="checkbox"/>	<input type="checkbox"/>	<input type="checkbox"/>	<input type="checkbox"/>	D	<input type="checkbox"/>	<input type="checkbox"/>	<input type="checkbox"/>	<input type="checkbox"/>	D	<input type="checkbox"/>	<input type="checkbox"/>	<input type="checkbox"/>	<input type="checkbox"/>	<input type="checkbox"/>		

118

Кластери 3 (гурӯҳи ўзбекӣ)

Муассисаи давлатии
“Маркази миллии тестӣ”

ВАРАҚАИ ҶАВОБҲО

Б.3

Ҷой барои штрих-код

■ Намунаи ишораи ҷавоби дуруст

A	B	C	D
<input type="checkbox"/>	<input type="checkbox"/>	<input checked="" type="checkbox"/>	<input type="checkbox"/>

■ Намунаи ислоҳи ҷавоби нодуруст ва ишораи ҷавоби дуруст

A	B	C	D
<input checked="" type="checkbox"/>	<input type="checkbox"/>	<input type="checkbox"/>	<input checked="" type="checkbox"/>

Бодикқат бошед!
Ҷавоби худро дар варақаи ҷавобҳо мувофиқи дастури иҷрои тест нависед.

Намунаи навишти дурусти рақамҳо дар саволҳои нави кӯшода

0	1	2	3	4	5	6	7	8	9
---	---	---	---	---	---	---	---	---	---

Ҳангоми навиштани ҷавоб ба саволу масъалаҳои нави кӯшода рақам набояд аз катаки ҷудошуда берун барояд. Масалан:

адади 2	адади - 27	адади 279
<input type="text" value="2"/>	<input type="text" value="- 27"/>	<input type="text" value="279"/>

Варианти	<input type="checkbox"/>	<input type="checkbox"/>	<input type="checkbox"/>	<input type="checkbox"/>	<input type="checkbox"/>	<input type="checkbox"/>	<input type="checkbox"/>	<input type="checkbox"/>	<input type="checkbox"/>	<input type="checkbox"/>	<input type="checkbox"/>	<input type="checkbox"/>	<input type="checkbox"/>	<input type="checkbox"/>	<input type="checkbox"/>
----------	--------------------------	--------------------------	--------------------------	--------------------------	--------------------------	--------------------------	--------------------------	--------------------------	--------------------------	--------------------------	--------------------------	--------------------------	--------------------------	--------------------------	--------------------------

ЗАБОН ВА АДАБИЁТИ ЎЗБЕК

	A	B	C	D		A	B	C	D		A	B	C	D		A	B	C	D		A	B	C	D
1	<input type="checkbox"/>	<input type="checkbox"/>	<input type="checkbox"/>	<input type="checkbox"/>	4	<input type="checkbox"/>	<input type="checkbox"/>	<input type="checkbox"/>	<input type="checkbox"/>	7	<input type="checkbox"/>	<input type="checkbox"/>	<input type="checkbox"/>	<input type="checkbox"/>	10	<input type="checkbox"/>	<input type="checkbox"/>	<input type="checkbox"/>	<input type="checkbox"/>	13	<input type="checkbox"/>	<input type="checkbox"/>	<input type="checkbox"/>	<input type="checkbox"/>
2	<input type="checkbox"/>	<input type="checkbox"/>	<input type="checkbox"/>	<input type="checkbox"/>	5	<input type="checkbox"/>	<input type="checkbox"/>	<input type="checkbox"/>	<input type="checkbox"/>	8	<input type="checkbox"/>	<input type="checkbox"/>	<input type="checkbox"/>	<input type="checkbox"/>	11	<input type="checkbox"/>	<input type="checkbox"/>	<input type="checkbox"/>	<input type="checkbox"/>	14	<input type="checkbox"/>	<input type="checkbox"/>	<input type="checkbox"/>	<input type="checkbox"/>
3	<input type="checkbox"/>	<input type="checkbox"/>	<input type="checkbox"/>	<input type="checkbox"/>	6	<input type="checkbox"/>	<input type="checkbox"/>	<input type="checkbox"/>	<input type="checkbox"/>	9	<input type="checkbox"/>	<input type="checkbox"/>	<input type="checkbox"/>	<input type="checkbox"/>	12	<input type="checkbox"/>	<input type="checkbox"/>	<input type="checkbox"/>	<input type="checkbox"/>	15	<input type="checkbox"/>	<input type="checkbox"/>	<input type="checkbox"/>	<input type="checkbox"/>

16	1 2 3 4 5	17	1 2 3 4 5	18	1 2 3 4 5	19	1 2 3 4 5	20	1 2 3 4 5
	A <input type="checkbox"/>		A <input type="checkbox"/>		A <input type="checkbox"/>		A <input type="checkbox"/>		A <input type="checkbox"/>
	B <input type="checkbox"/>		B <input type="checkbox"/>		B <input type="checkbox"/>		B <input type="checkbox"/>		B <input type="checkbox"/>
	C <input type="checkbox"/>		C <input type="checkbox"/>		C <input type="checkbox"/>		C <input type="checkbox"/>		C <input type="checkbox"/>
	D <input type="checkbox"/>		D <input type="checkbox"/>		D <input type="checkbox"/>		D <input type="checkbox"/>		D <input type="checkbox"/>

ТАЪРИХ

	A	B	C	D		A	B	C	D		A	B	C	D		A	B	C	D		A	B	C	D
1	<input type="checkbox"/>	<input type="checkbox"/>	<input type="checkbox"/>	<input type="checkbox"/>	5	<input type="checkbox"/>	<input type="checkbox"/>	<input type="checkbox"/>	<input type="checkbox"/>	9	<input type="checkbox"/>	<input type="checkbox"/>	<input type="checkbox"/>	<input type="checkbox"/>	13	<input type="checkbox"/>	<input type="checkbox"/>	<input type="checkbox"/>	<input type="checkbox"/>	17	<input type="checkbox"/>	<input type="checkbox"/>	<input type="checkbox"/>	<input type="checkbox"/>
2	<input type="checkbox"/>	<input type="checkbox"/>	<input type="checkbox"/>	<input type="checkbox"/>	6	<input type="checkbox"/>	<input type="checkbox"/>	<input type="checkbox"/>	<input type="checkbox"/>	10	<input type="checkbox"/>	<input type="checkbox"/>	<input type="checkbox"/>	<input type="checkbox"/>	14	<input type="checkbox"/>	<input type="checkbox"/>	<input type="checkbox"/>	<input type="checkbox"/>	18	<input type="checkbox"/>	<input type="checkbox"/>	<input type="checkbox"/>	<input type="checkbox"/>
3	<input type="checkbox"/>	<input type="checkbox"/>	<input type="checkbox"/>	<input type="checkbox"/>	7	<input type="checkbox"/>	<input type="checkbox"/>	<input type="checkbox"/>	<input type="checkbox"/>	11	<input type="checkbox"/>	<input type="checkbox"/>	<input type="checkbox"/>	<input type="checkbox"/>	15	<input type="checkbox"/>	<input type="checkbox"/>	<input type="checkbox"/>	<input type="checkbox"/>	19	<input type="checkbox"/>	<input type="checkbox"/>	<input type="checkbox"/>	<input type="checkbox"/>
4	<input type="checkbox"/>	<input type="checkbox"/>	<input type="checkbox"/>	<input type="checkbox"/>	8	<input type="checkbox"/>	<input type="checkbox"/>	<input type="checkbox"/>	<input type="checkbox"/>	12	<input type="checkbox"/>	<input type="checkbox"/>	<input type="checkbox"/>	<input type="checkbox"/>	16	<input type="checkbox"/>	<input type="checkbox"/>	<input type="checkbox"/>	<input type="checkbox"/>	20	<input type="checkbox"/>	<input type="checkbox"/>	<input type="checkbox"/>	<input type="checkbox"/>

21	1 2 3 4 5	22	1 2 3 4 5	23	1 2 3 4 5	24	1 2 3 4 5	25	1 2 3 4 5
	A <input type="checkbox"/>		A <input type="checkbox"/>		A <input type="checkbox"/>		A <input type="checkbox"/>		A <input type="checkbox"/>
	B <input type="checkbox"/>		B <input type="checkbox"/>		B <input type="checkbox"/>		B <input type="checkbox"/>		B <input type="checkbox"/>
	C <input type="checkbox"/>		C <input type="checkbox"/>		C <input type="checkbox"/>		C <input type="checkbox"/>		C <input type="checkbox"/>
	D <input type="checkbox"/>		D <input type="checkbox"/>		D <input type="checkbox"/>		D <input type="checkbox"/>		D <input type="checkbox"/>

ЗАБОНИ ХОРИҶӢ

	Забони англисӣ <input type="checkbox"/>				Забони олмонӣ <input type="checkbox"/>				Забони франсавӣ <input type="checkbox"/>				Забони арабӣ <input type="checkbox"/>																
	A	B	C	D		A	B	C	D		A	B	C	D		A	B	C	D		A	B	C	D					
1	<input type="checkbox"/>	<input type="checkbox"/>	<input type="checkbox"/>	<input type="checkbox"/>	4	<input type="checkbox"/>	<input type="checkbox"/>	<input type="checkbox"/>	<input type="checkbox"/>	7	<input type="checkbox"/>	<input type="checkbox"/>	<input type="checkbox"/>	<input type="checkbox"/>	10	<input type="checkbox"/>	<input type="checkbox"/>	<input type="checkbox"/>	<input type="checkbox"/>	13	<input type="checkbox"/>	<input type="checkbox"/>	<input type="checkbox"/>	<input type="checkbox"/>	16	<input type="checkbox"/>	<input type="checkbox"/>	<input type="checkbox"/>	<input type="checkbox"/>
2	<input type="checkbox"/>	<input type="checkbox"/>	<input type="checkbox"/>	<input type="checkbox"/>	5	<input type="checkbox"/>	<input type="checkbox"/>	<input type="checkbox"/>	<input type="checkbox"/>	8	<input type="checkbox"/>	<input type="checkbox"/>	<input type="checkbox"/>	<input type="checkbox"/>	11	<input type="checkbox"/>	<input type="checkbox"/>	<input type="checkbox"/>	<input type="checkbox"/>	14	<input type="checkbox"/>	<input type="checkbox"/>	<input type="checkbox"/>	<input type="checkbox"/>					
3	<input type="checkbox"/>	<input type="checkbox"/>	<input type="checkbox"/>	<input type="checkbox"/>	6	<input type="checkbox"/>	<input type="checkbox"/>	<input type="checkbox"/>	<input type="checkbox"/>	9	<input type="checkbox"/>	<input type="checkbox"/>	<input type="checkbox"/>	<input type="checkbox"/>	12	<input type="checkbox"/>	<input type="checkbox"/>	<input type="checkbox"/>	<input type="checkbox"/>	15	<input type="checkbox"/>	<input type="checkbox"/>	<input type="checkbox"/>	<input type="checkbox"/>					

17	1 2 3 4 5	18	1 2 3 4 5	19	1 2 3 4 5	20	1 2 3 4 5
	A <input type="checkbox"/>		A <input type="checkbox"/>		A <input type="checkbox"/>		A <input type="checkbox"/>
	B <input type="checkbox"/>		B <input type="checkbox"/>		B <input type="checkbox"/>		B <input type="checkbox"/>
	C <input type="checkbox"/>		C <input type="checkbox"/>		C <input type="checkbox"/>		C <input type="checkbox"/>
	D <input type="checkbox"/>		D <input type="checkbox"/>		D <input type="checkbox"/>		D <input type="checkbox"/>

119

Кластери 4

Ҷой барои штрих-код

Муассисаи давлатии
“Маркази миллии тестӣ”

ВАРАҚАИ ҶАВОБҲО

Б.4

■ Намунаи ишораи ҷавоби дуруст

A	B	C	D
<input type="checkbox"/>	<input type="checkbox"/>	<input checked="" type="checkbox"/>	<input type="checkbox"/>

Намунаи ислоҳи ҷавоби нодуруст ва ишораи ҷавоби дуруст

A	B	C	D
<input checked="" type="checkbox"/>	<input type="checkbox"/>	<input type="checkbox"/>	<input checked="" type="checkbox"/>

Бодикқат бошед!

Ҷавоби худро дар варақаи ҷавобҳо мувофиқи дастури иҷрои тест нависед.

Намунаи навишти дурусти рақамҳо дар саволҳои навъи кушода

0	1	2	3	4	5	6	7	8	9
---	---	---	---	---	---	---	---	---	---

Ҳангоми навиштани ҷавоб ба саволу масъалаҳои навъи кушода рақам набояд аз катаки ҷудошуда берун барояд. Масалан:

адади 2	адади -27	адади 279
<input type="text" value="2"/>	<input type="text" value="-27"/>	<input type="text" value="279"/>

Варианти	1	2	3	4	5	6	7	8	9	10	11	12	13	14	15
	<input type="checkbox"/>	<input type="checkbox"/>	<input type="checkbox"/>	<input type="checkbox"/>	<input type="checkbox"/>	<input type="checkbox"/>	<input type="checkbox"/>	<input type="checkbox"/>	<input type="checkbox"/>	<input type="checkbox"/>	<input type="checkbox"/>	<input type="checkbox"/>	<input type="checkbox"/>	<input type="checkbox"/>	<input type="checkbox"/>

ТАЪРИХ

1	A B C D	5	A B C D	9	A B C D	13	A B C D	17	A B C D
2	<input type="checkbox"/>	6	<input type="checkbox"/>	10	<input type="checkbox"/>	14	<input type="checkbox"/>	18	<input type="checkbox"/>
3	<input type="checkbox"/>	7	<input type="checkbox"/>	11	<input type="checkbox"/>	15	<input type="checkbox"/>	19	<input type="checkbox"/>
4	<input type="checkbox"/>	8	<input type="checkbox"/>	12	<input type="checkbox"/>	16	<input type="checkbox"/>	20	<input type="checkbox"/>

21	1 2 3 4 5	22	1 2 3 4 5	23	1 2 3 4 5	24	1 2 3 4 5	25	1 2 3 4 5
A	<input type="checkbox"/>	A	<input type="checkbox"/>	A	<input type="checkbox"/>	A	<input type="checkbox"/>	A	<input type="checkbox"/>
B	<input type="checkbox"/>	B	<input type="checkbox"/>	B	<input type="checkbox"/>	B	<input type="checkbox"/>	B	<input type="checkbox"/>
C	<input type="checkbox"/>	C	<input type="checkbox"/>	C	<input type="checkbox"/>	C	<input type="checkbox"/>	C	<input type="checkbox"/>
D	<input type="checkbox"/>	D	<input type="checkbox"/>	D	<input type="checkbox"/>	D	<input type="checkbox"/>	D	<input type="checkbox"/>

ҲУҚУҚИ ИНСОН

1	A B C D	5	A B C D	9	A B C D	13	A B C D	17	A B C D
2	<input type="checkbox"/>	6	<input type="checkbox"/>	10	<input type="checkbox"/>	14	<input type="checkbox"/>	18	<input type="checkbox"/>
3	<input type="checkbox"/>	7	<input type="checkbox"/>	11	<input type="checkbox"/>	15	<input type="checkbox"/>	19	<input type="checkbox"/>
4	<input type="checkbox"/>	8	<input type="checkbox"/>	12	<input type="checkbox"/>	16	<input type="checkbox"/>	20	<input type="checkbox"/>

21	1 2 3 4 5	22	1 2 3 4 5	23	1 2 3 4 5	24	1 2 3 4 5	25	1 2 3 4 5
A	<input type="checkbox"/>	A	<input type="checkbox"/>	A	<input type="checkbox"/>	A	<input type="checkbox"/>	A	<input type="checkbox"/>
B	<input type="checkbox"/>	B	<input type="checkbox"/>	B	<input type="checkbox"/>	B	<input type="checkbox"/>	B	<input type="checkbox"/>
C	<input type="checkbox"/>	C	<input type="checkbox"/>	C	<input type="checkbox"/>	C	<input type="checkbox"/>	C	<input type="checkbox"/>
D	<input type="checkbox"/>	D	<input type="checkbox"/>	D	<input type="checkbox"/>	D	<input type="checkbox"/>	D	<input type="checkbox"/>

ЗАБОНИ ХОРИҶӢ

Забони англисӣ	<input type="checkbox"/>	Забони олмонӣ	<input type="checkbox"/>	Забони франсавӣ	<input type="checkbox"/>	Забони арабӣ	<input type="checkbox"/>
----------------	--------------------------	---------------	--------------------------	-----------------	--------------------------	--------------	--------------------------

1	A B C D	4	A B C D	7	A B C D	10	A B C D	13	A B C D	16	A B C D
2	<input type="checkbox"/>	5	<input type="checkbox"/>	8	<input type="checkbox"/>	11	<input type="checkbox"/>	14	<input type="checkbox"/>		<input type="checkbox"/>
3	<input type="checkbox"/>	6	<input type="checkbox"/>	9	<input type="checkbox"/>	12	<input type="checkbox"/>	15	<input type="checkbox"/>		<input type="checkbox"/>


17	1 2 3 4 5	18	1 2 3 4 5	19	1 2 3 4 5	20	1 2 3 4 5
A	<input type="checkbox"/>	A	<input type="checkbox"/>	A	<input type="checkbox"/>	A	<input type="checkbox"/>
B	<input type="checkbox"/>	B	<input type="checkbox"/>	B	<input type="checkbox"/>	B	<input type="checkbox"/>
C	<input type="checkbox"/>	C	<input type="checkbox"/>	C	<input type="checkbox"/>	C	<input type="checkbox"/>
D	<input type="checkbox"/>	D	<input type="checkbox"/>	D	<input type="checkbox"/>	D	<input type="checkbox"/>

120

Ҷой барои штрих-код

Муассисаи давлатии
“Маркази миллии тестӣ”

ВАРАҚАИ ҶАВОБҲО



Намунаи ишораи ҷавоби дуруст

A	B	C	D
<input type="checkbox"/>	<input type="checkbox"/>	<input checked="" type="checkbox"/>	<input type="checkbox"/>

Намунаи ислоҳи ҷавоби нодуруст ва ишораи ҷавоби дуруст

A	B	C	D
<input checked="" type="checkbox"/>	<input type="checkbox"/>	<input type="checkbox"/>	<input checked="" type="checkbox"/>

Бодиққат бошед!

Ҷавоби худро дар варақаи ҷавобҳо мувофиқи дастури иҷрои тест нависед.

Намунаи навишти дурусти рақамҳо дар саволҳои навъи кушода

0	1	2	3	4	5	6	7	8	9
---	---	---	---	---	---	---	---	---	---

Ҳангоми навиштани ҷавоб ба саволу масъалаҳои навъи кушода рақам набояд аз катаки ҷудошуда берун барояд. Масалан:

адади 2	адади -27	адади 279
<input type="text" value="2"/>	<input type="text" value="-27"/>	<input type="text" value="279"/>

Варианти	1	2	3	4	5	6	7	8	9	10	11	12	13	14	15
	<input type="checkbox"/>	<input type="checkbox"/>	<input type="checkbox"/>	<input type="checkbox"/>	<input type="checkbox"/>	<input type="checkbox"/>	<input type="checkbox"/>	<input type="checkbox"/>	<input type="checkbox"/>	<input type="checkbox"/>	<input type="checkbox"/>	<input type="checkbox"/>	<input type="checkbox"/>	<input type="checkbox"/>	<input type="checkbox"/>

ХИМИЯ

1	A B C D	5	A B C D	8	A B C D	11	A B C D	14	A B C D	17	A B C D
2	<input type="checkbox"/>	6	<input type="checkbox"/>	9	<input type="checkbox"/>	12	<input type="checkbox"/>	15	<input type="checkbox"/>	18	<input type="checkbox"/>
3	<input type="checkbox"/>	7	<input type="checkbox"/>	10	<input type="checkbox"/>	13	<input type="checkbox"/>	16	<input type="checkbox"/>	19	<input type="checkbox"/>
4	<input type="checkbox"/>										

20	21	22	23
<input type="checkbox"/>	<input type="checkbox"/>	<input type="checkbox"/>	<input type="checkbox"/>
A	A	A	
B	B	B	
C	C	C	
D	D	D	
			24
			<input type="checkbox"/>
			25
			<input type="checkbox"/>

БИОЛОГИЯ

1	A B C D	5	A B C D	9	A B C D	13	A B C D	17	A B C D	21	1 2 3 4 5
2	<input type="checkbox"/>	6	<input type="checkbox"/>	10	<input type="checkbox"/>	14	<input type="checkbox"/>	18	<input type="checkbox"/>	A	<input type="checkbox"/>
3	<input type="checkbox"/>	7	<input type="checkbox"/>	11	<input type="checkbox"/>	15	<input type="checkbox"/>	19	<input type="checkbox"/>	B	<input type="checkbox"/>
4	<input type="checkbox"/>	8	<input type="checkbox"/>	12	<input type="checkbox"/>	16	<input type="checkbox"/>	20	<input type="checkbox"/>	C	<input type="checkbox"/>
										D	<input type="checkbox"/>

22	23	24	25	26
<input type="checkbox"/>	<input type="checkbox"/>	<input type="checkbox"/>	<input type="checkbox"/>	<input type="checkbox"/>
A	A	A	A	A
B	B	B	B	B
C	C	C	C	C
D	D	D	D	D

ФИЗИКА

1	A B C D	3	A B C D	5	A B C D	7	A B C D	9	A B C D	11	A B C D
2	<input type="checkbox"/>	4	<input type="checkbox"/>	6	<input type="checkbox"/>	8	<input type="checkbox"/>	10	<input type="checkbox"/>	12	<input type="checkbox"/>

13	14	15	16	17
<input type="checkbox"/>	<input type="checkbox"/>	<input type="checkbox"/>	<input type="checkbox"/>	<input type="checkbox"/>
A	A	A	A	A
B	B	B	B	B
C	C	C	C	C
D	D	D	D	D

<input checked="" type="checkbox"/> 18	<input type="checkbox"/>	19	<input type="checkbox"/>	20	<input type="checkbox"/>	21	<input type="checkbox"/>	22	<input checked="" type="checkbox"/>
--	--------------------------	----	--------------------------	----	--------------------------	----	--------------------------	----	-------------------------------------

Ҷумлаи зеринро навишта, имзо гузored:
«Бо тартиби гузаронидани имтиҳон розӣ ҳастам»

(имзо)

Вазорати маориф ва илми Ҷумҳурии Тоҷикистон
Муассисаи давлатии “Маркази миллии тестӣ”

Нишонӣ: 734024 ш. Душанбе, хиёбони Рӯдакӣ 192

e-mail: office@ntc.tj

сомонаи интернетӣ: www.ntc.tj

ШУЪБАИ МИНТАҚАВИИ
МУАССИСАИ ДАВЛАТИИ “МАРКАЗИ МИЛЛИИ ТЕСТӢ”
ДАР ВИЛОЯТИ СУҒД

Нишонӣ: ш. Хучанд, кӯчаи Ҳаким Карим 16

ШУЪБАИ МИНТАҚАВИИ
МУАССИСАИ ДАВЛАТИИ “МАРКАЗИ МИЛЛИИ ТЕСТӢ”
ДАР ВИЛОЯТИ ХАТЛОН

Нишонӣ: ш. Қӯрғонтеппа, кӯчаи Борбад 13

ШУЪБАИ МИНТАҚАВИИ
МУАССИСАИ ДАВЛАТИИ “МАРКАЗИ МИЛЛИИ ТЕСТӢ”
ДАР ВМКБ

Нишонӣ: ш. Хоруғ, кӯчаи Мамадато Иҷубов 234

Ба матбаа 31.01.2014 супорида шуд.
Ба чопаш 01.02.2014 имзо шуд.
Андозаи 60x90 1/8. Адади нашр 5000 нусха